

**ÉVALUATION COMMUNE 2020**  
**CORRECTION** Yohan Atlan © [www.vecteurbac.fr](http://www.vecteurbac.fr)

**CLASSE** : Première

**E3C** :  E3C1  E3C2  E3C3

**VOIE** :  Générale

**ENSEIGNEMENT** : physique-chimie

**DURÉE DE L'ÉPREUVE** : 1h

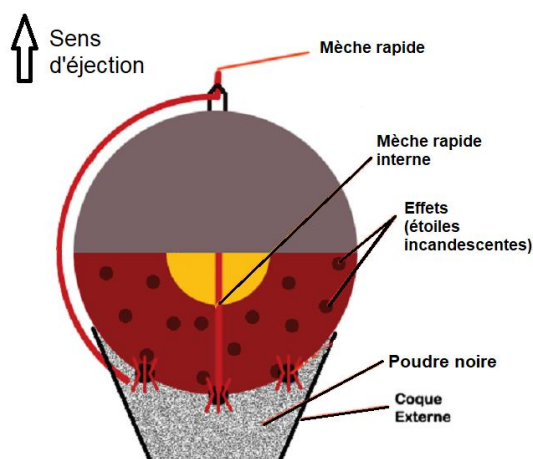
**CALCULATRICE AUTORISÉE** :  Oui  Non

**Bouquet final (10 points)**

Dans cet exercice, on s'intéresse à différents aspects physico-chimiques d'un feu d'artifice.

La pyrotechnie, du grec « pyros » feu et « tekhnê » savoir-faire, est la technique des feux d'artifice. Elle fut inventée par les chinois, il y a plus de mille ans, et introduite en Occident grâce à Marco Polo au XIII<sup>ème</sup> siècle.

Lors d'un feu d'artifice, la pièce d'artifice est l'élément le plus utilisé (voir schéma en coupe figure 1). La pièce est expulsée depuis un mortier jusqu'à une certaine de mètres de haut où elle explose pour former une figure lumineuse. La poudre noire présente dans la pièce d'artifice est un mélange intervenant lors des deux étapes : la propulsion, puis la dispersion des étoiles incandescentes qui forment le feu d'artifice.



**Figure 1 : Coupe d'une pièce d'artifice**

*Projet Scientifique Collectif « Combustion, flammes et feux d'artifice » École Polytechnique*

<http://www.penangol.fr/rapports/combustion.pdf>

Article « Feux d'artifice » du site de la société chimique de France  
<http://www.societechimiquedefrance.fr/feux-d-artifice.html>

**Données :**

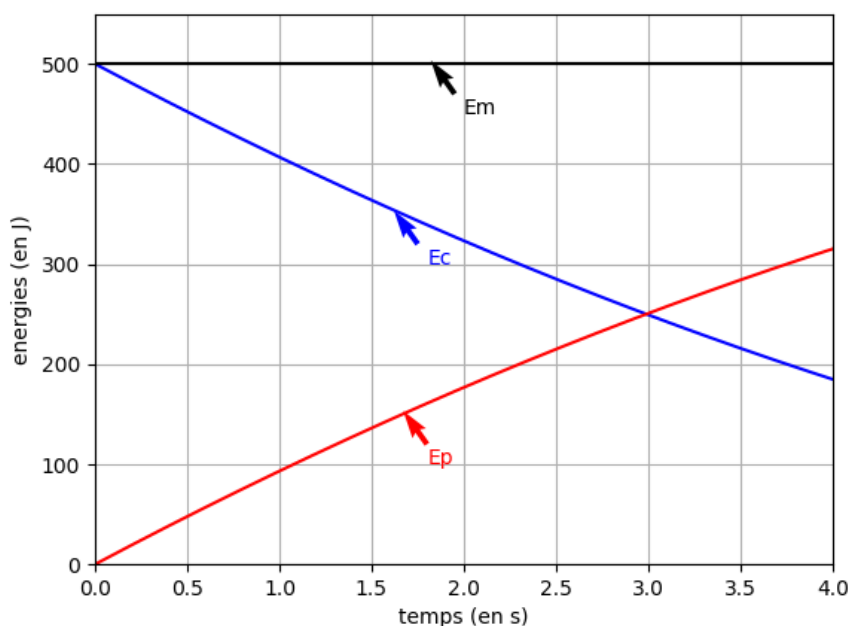
- Intensité du champ de pesanteur :  $g = 9,81 \text{ m}\cdot\text{s}^{-2}$ .
- Masses molaires atomiques (en  $\text{g}\cdot\text{mol}^{-1}$ ) : C : 12,0 ; N : 14,0 ; O : 16,0 ; K : 39,1
- Constante de Planck :  $h = 6,63 \times 10^{-34} \text{ J}\cdot\text{s}$  ;
- $1 \text{ eV} = 1,60 \times 10^{-19} \text{ J}$  ;
- la valeur de la célérité de la lumière  $c$  dans le vide est supposée connue par le candidat.

**I. Aspect énergétique d'une pièce d'artifice lors de la phase ascensionnelle,**

Dans cette partie, on modélise la pièce d'artifice par un point matériel dans le référentiel terrestre supposé galiléen. La pièce d'artifice étudiée, de masse 100 g, est tirée verticalement avec une vitesse initiale de valeur  $v_0 = 100 \text{ m}\cdot\text{s}^{-1}$ . On étudie le mouvement de son centre d'inertie G, repéré par son ordonnée  $y$  dans un repère vertical  $(O, \vec{j})$  orienté vers le haut.

On choisit l'instant  $t_0 = 0 \text{ s}$  lorsque le centre d'inertie G est confondu avec l'origine du repère O. On néglige toute action mécanique de l'air. On admet que la masse de la bombe est constante lors de son mouvement ascendant.

En tenant compte des choix de modélisation précédents, un logiciel de simulation permet de représenter l'évolution temporelle de l'énergie cinétique  $E_c$  et de l'énergie potentielle de pesanteur  $E_p$  de la bombe lors de son mouvement ascendant : on obtient la représentation graphique ci-dessous.



**Figure 2 : Évolution des énergies cinétique et potentielle pendant l'ascension de la pièce**

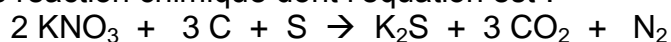
1. Après avoir rappelé la définition de l'énergie mécanique de la pièce d'artifice, exploiter la **figure 2** pour savoir si, dans la situation simulée, l'énergie mécanique se conserve. Commenter le résultat obtenu.
2. On suppose que la pièce explose à l'instant  $t_A = 2,0$  s. Après cet instant, les évolutions de la **figure 2** ne sont plus respectées. À l'aide de la **figure 2**, déterminer la valeur de l'énergie potentielle à cet instant puis calculer l'altitude atteinte notée  $y_A$ .
3. En réalité l'altitude maximale atteinte par la pièce vaut 55 m. Commenter l'écart observé par rapport au modèle.

## II. Combustion pyrotechnique

Le principe de base des feux d'artifice repose sur la combustion de la poudre noire contenant jusqu'à 75 % en masse de salpêtre de formule  $\text{KNO}_3$ , jouant le rôle de comburant et un mélange essentiellement constitué de carbone, mais contenant également du soufre et des éléments métalliques pour la couleur (solides ioniques comportant, par exemple, des ions sodium pour le jaune ou des ions potassium pour le violet) ou pour les effets spéciaux (métaux comme par exemple le magnésium pour des étincelles).

Source : <http://www.societechimiquedefrance.fr/feux-d-artifice.html>

Afin de simplifier cette étude, on fait l'hypothèse que la combustion de la poudre noire peut être modélisée par une seule réaction chimique dont l'équation est :



4. Après avoir écrit la demi-équation électronique du couple  $\text{CO}_2 / \text{C}$ , préciser si le carbone joue le rôle d'oxydant ou de réducteur.

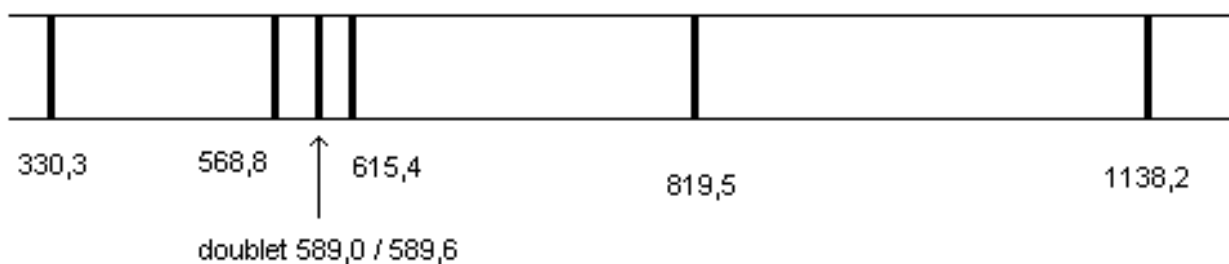
L'artificier prépare environ 25 g de poudre noire. Ce mélange est réalisé dans les proportions stœchiométriques de la réaction : il contient 3,20 g de carbone, du nitrate de potassium (salpêtre) de formule  $\text{KNO}_3$ , du soufre S et des solides ioniques ou métaux en faible quantité.

5. Déterminer la valeur de quantité de matière de carbone dans ce mélange.
6. En déduire la masse de nitrate de potassium nécessaire pour réaliser ce mélange.
7. En déduire le pourcentage massique de nitrate de potassium présent dans la poudre noire préparée et indiquer si le résultat est compatible avec la description de la poudre noire.

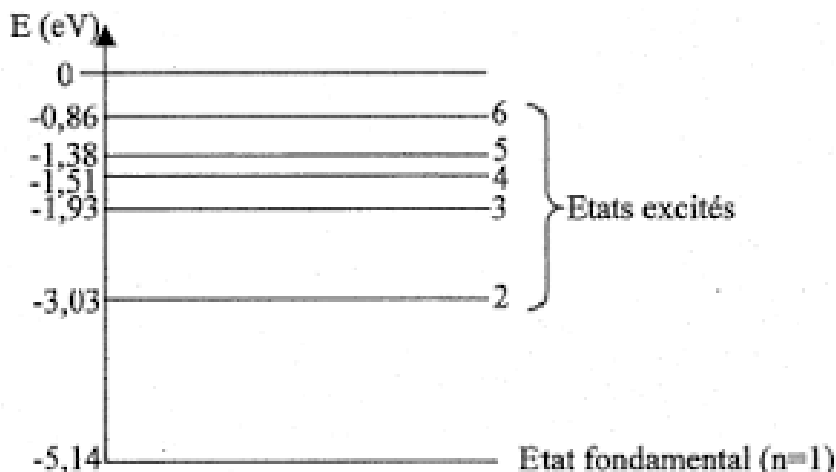
8. Dans les conditions de la combustion étudiée, l'énergie molaire de combustion (pour la combustion d'une mole de carbone) vaut  $E_{mcomb} = -208 \text{ kJ}\cdot\text{mol}^{-1}$ . Montrer que la valeur de l'énergie libérée par la combustion de la poudre noire préparée par l'artificier est de l'ordre de 55 kJ.
9. Comparer la valeur précédente à l'énergie cinétique initiale de la bombe (voir **figure 2**) et interpréter la différence.

### III. Émission lumineuse

Les feux d'artifice émettent de la lumière selon trois phénomènes : l'incandescence, l'émission atomique et l'émission moléculaire. On s'intéresse uniquement à l'émission atomique dans cette partie. Les ions des cristaux métalliques introduits sont excités thermiquement, ce qui leur permet de passer d'un niveau d'énergie fondamental à un niveau d'énergie supérieur ; au cours de leur retour vers l'état fondamental, l'énergie qu'ils avaient absorbée est émise sous forme de photons d'une longueur d'onde caractéristique de l'élément correspondant. L'ion sodium est l'un de ceux qui émet le plus de lumière par ce mécanisme. On donne ci-dessous des informations concernant l'émission de lumière par le sodium.



**Figure 3 : Longueurs d'onde dans le vide (en nm) du spectre d'émission d'une lampe à vapeurs de sodium**



**Figure 4 : Diagramme des niveaux d'énergie du sodium**

10. Sur un diagramme de niveaux d'énergie d'un atome, comportant le niveau fondamental et un niveau excité d'énergie supérieure, illustrer le phénomène d'émission d'un photon.
11. Déterminer quelle transition entre niveaux d'énergie du sodium représentés **figure 4** a lieu lors de l'émission de la raie jaune du sodium, de longueur d'onde  $\lambda = 589,0 \text{ nm}$  dans le vide.  
*L'élève est invité à prendre des initiatives et à présenter la démarche suivie, même si elle n'a pas abouti.*