



Exercice 1 – Niveau première

Thème « Son, musique et audition »

Prévention d'un traumatisme acoustique

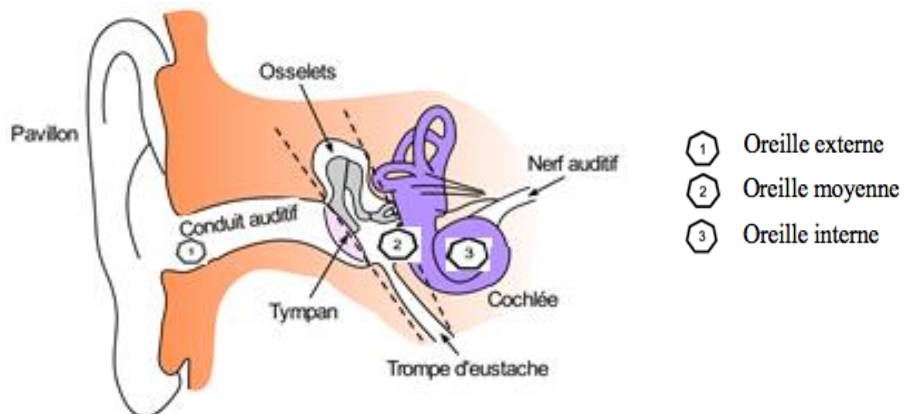
Sur 10 points

L'audition joue un rôle primordial dans les interactions sociales. L'oreille est l'organe sensoriel de l'audition. Une détérioration de sa structure peut entraîner des modifications de l'audition. La mise en place de mesures de prévention permet d'éviter une surdité acquise.

Partie 1 – Traumatisme de l'oreille par sur-stimulation

Les sur-stimulations sonores peuvent entraîner un traumatisme acoustique et constituent la première cause de surdité acquise.

Document 1 – Schéma de l'anatomie de l'oreille humaine



Source : <https://fr.wikibooks.org/wiki/Neurosciences/L%27audition>



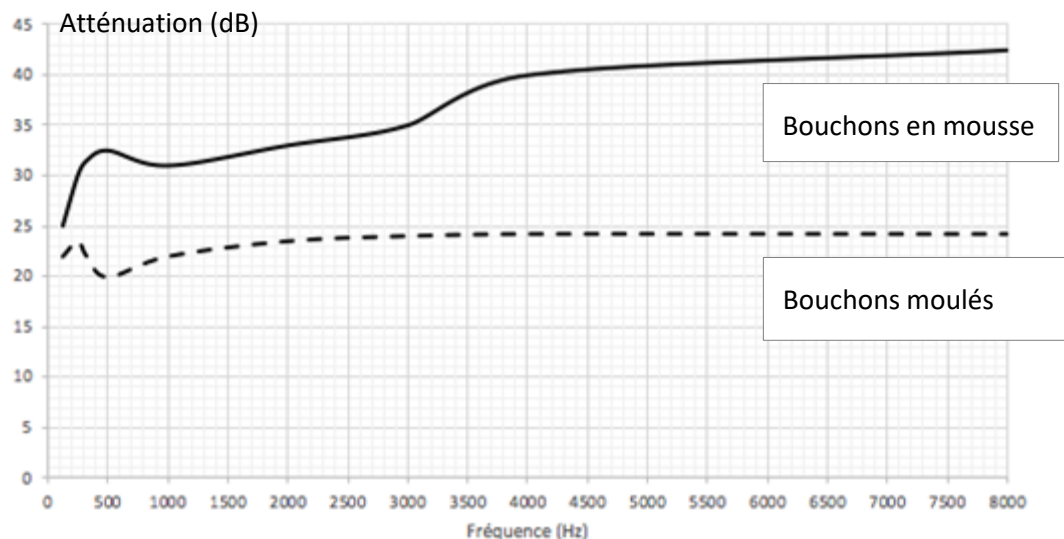
Partie 2 – La prévention d'un traumatisme acoustique

Pour prévenir le risque lié aux sur-stimulations sonores, il existe différentes protections auditives. On peut distinguer, par exemple, deux catégories de bouchons d'oreilles qui permettent de s'isoler du bruit :

- les bouchons en mousse, généralement jetables ;
- les bouchons moulés en silicone, fabriqués sur mesure et nécessitant la prise d'empreinte du conduit auditif. Ils sont lavables à l'eau et se conservent plusieurs années.

L'atténuation d'un bouchon est égale à la diminution du niveau d'intensité sonore perçu par l'oreille due à la présence du bouchon. Un fabricant fournit les courbes d'atténuation en fonction de la fréquence du son pour les deux types de bouchons (document 3).

Document 3 – Courbes d'atténuation du son correspondant aux deux types de bouchons



Source : d'après l'auteur à partir des données de fabricant de protections auditives

Un musicien qui pratique régulièrement un instrument tel que la batterie ou la guitare électrique a besoin d'une atténuation du niveau d'intensité sonore. Cependant, cette atténuation ne doit pas dépasser 25 dB afin qu'il entende suffisamment.

- 2- À l'aide du document 3, indiquer pour chaque bouchon si cette condition est respectée. Justifier.

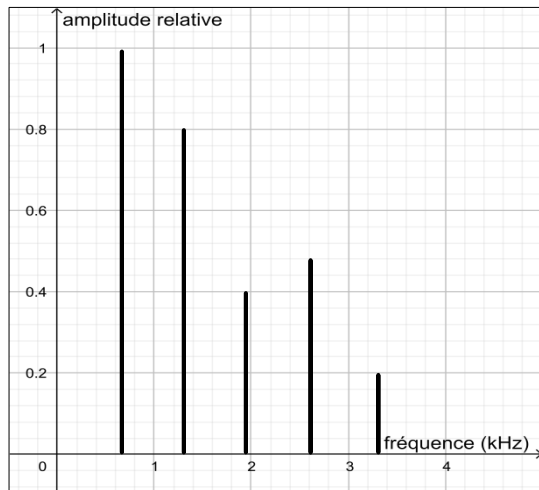
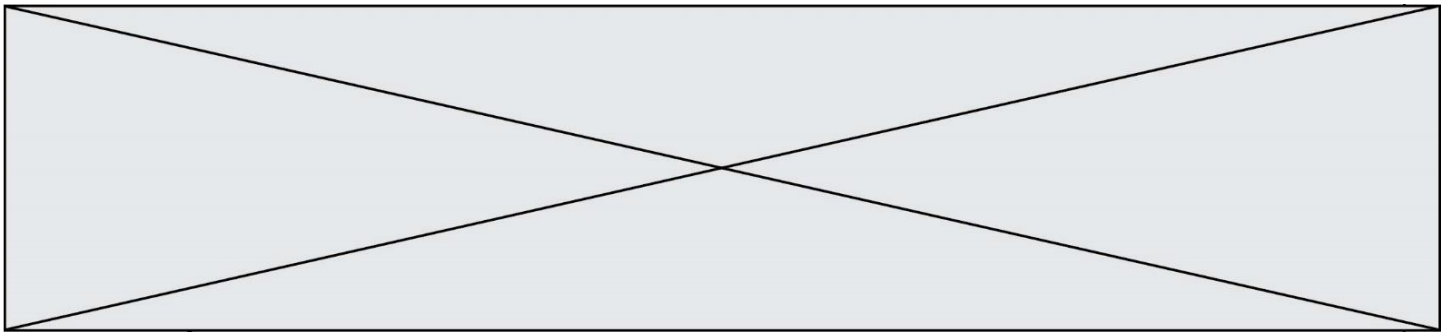


Figure 3 - Spectre du mi4 restitué après passage par un bouchon moulé en silicone

Source : d'après l'auteur

- 4- À partir de la figure 1 du document 4, indiquer, en justifiant, si le son émis par la guitare est un son pur ou un son composé.
- 5- À partir de la figure 1 du document 4, déterminer la fréquence fondamentale du mi4 joué par la guitare. Décrire la démarche employée.
- 6- À l'aide du document 4, indiquer en justifiant, pour chaque type de bouchons, s'il y a une modification de l'allure du spectre du signal sonore produit par la guitare après passage par un bouchon.
- 7- En déduire le type de bouchons qui conserve le mieux la qualité du son.

Modèle CCYC : ©DNE

Nom de famille (naissance) :

(Suivi s'il y a lieu, du nom d'usage)

Prénom(s) :

N° candidat :

N° d'inscription :



Né(e) le :

(Les numéros figurent sur la convocation.)

1.1

Exercice 2 – Niveau première

Thème « La Terre, un astre singulier »

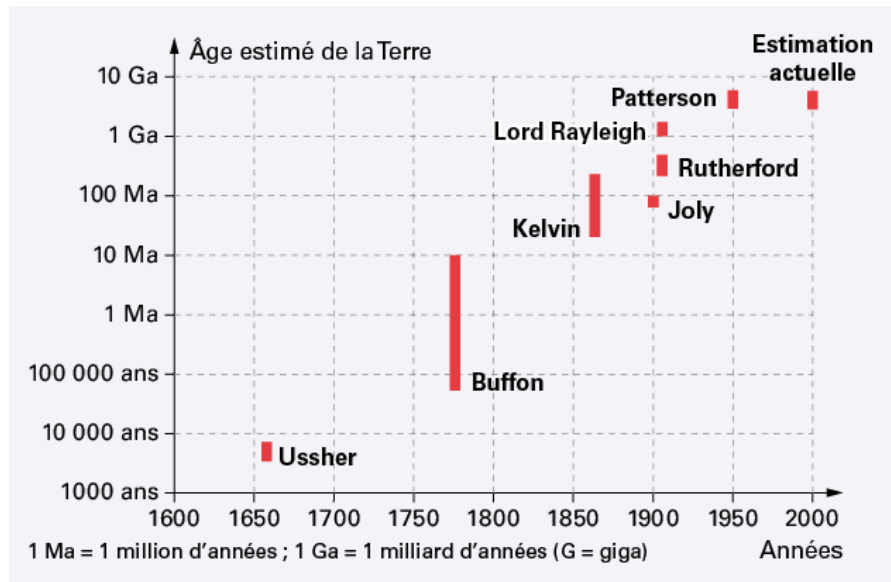
Datation de l'âge d'une roche

Sur 10 points

La datation de la Terre a été au cœur de multiples controverses au sein de la communauté scientifique.

Comme de nombreux scientifiques au XX^e siècle, on cherche dans cet exercice à dater un granite. Les granites sont des roches magmatiques issues du refroidissement lent d'un magma. Ils n'apparaissent en surface qu'après érosion de tout ce qui les recouvrait.

Document 1 – Estimation de l'âge de la Terre par différents scientifiques



Source : <https://www.digischool.fr/cours/l-histoire-de-l-age-de-la-terre>

Par exemple, Buffon donne un âge de la Terre situé entre environ 75 000 ans et 10 Ma.



Document 2 – Théories de Kelvin et Rutherford

En 1863, Kelvin fait l'hypothèse que la Terre se refroidit de manière homogène depuis sa formation. Ainsi la Terre se refroidit et perd de la chaleur uniquement par conduction thermique.

En 1904, Rutherford découvre que la désintégration de certains noyaux d'atomes radioactifs s'accompagne d'un dégagement de chaleur. Cette découverte ébranlera les conclusions de Kelvin. Effectivement, la Terre possède une source de chaleur que n'avait pas envisagée Kelvin dans son modèle de refroidissement.

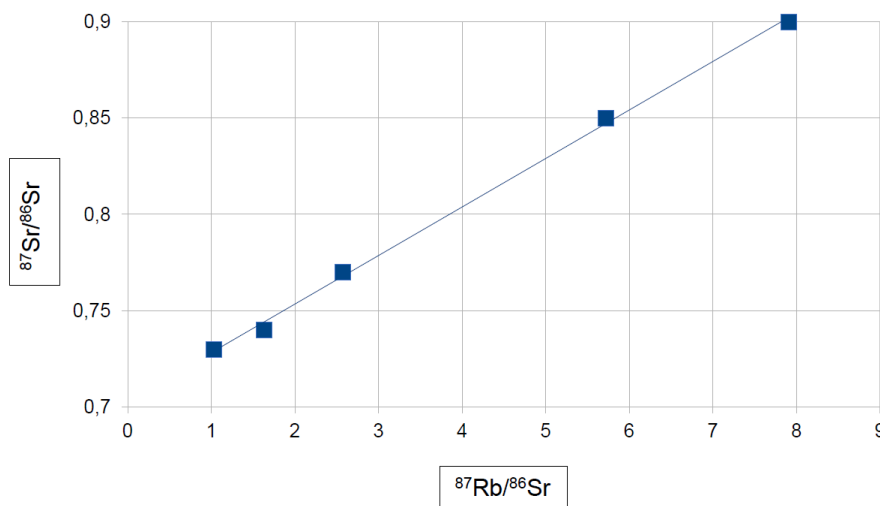
Document 3 – Présentation de trois géochronomètres

Les géochronomètres sont des couples d'éléments, initialement présents dans les échantillons à dater dont la quantité varie au cours du temps. On considère qu'un géochronomètre peut être utilisé pour dater un échantillon vieux d'au maximum dix fois la demi-vie du noyau père du géochronomètre.

Géochronomètre	Demi-vie en années du noyau père	Conditions d'utilisation
$^{14}\text{C}/^{14}\text{N}$	5 730	S'utilise sur des fossiles
$^{40}\text{K}/^{40}\text{Ar}$	$1,25 \times 10^9$	Difficile à utiliser sur les roches magmatiques
$^{87}\text{Rb}/^{86}\text{Sr}$	$48,8 \times 10^9$	S'utilise sur des roches magmatiques

Document 4 – Droite isochrone par mesure des rapports $^{87}\text{Rb}/^{86}\text{Sr}$ et $^{87}\text{Sr}/^{86}\text{Sr}$

droite isochrone du granite étudié



Modèle CCYC : ©DNE

Nom de famille (naissance) :

(Suivi s'il y a lieu, du nom d'usage)

Prénom(s) :

N° candidat :

N° d'inscription :



Liberté • Égalité • Fraternité
RÉPUBLIQUE FRANÇAISE

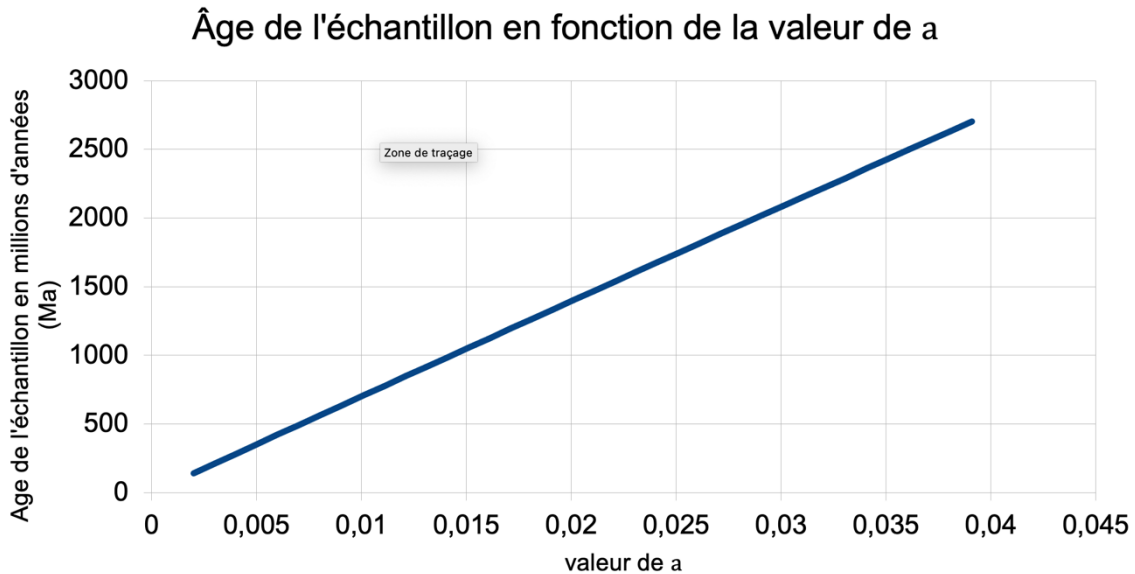
Né(e) le :

(Les numéros figurent sur la convocation.)

1.1

Document 5 – Datation d'un granite

L'âge de la roche à dater dépend du coefficient directeur a de la droite isochrone obtenue en représentant $^{87}\text{Sr}/^{86}\text{Sr}$ en fonction de $^{87}\text{Rb}/^{86}\text{Sr}$, comme l'illustre le graphique ci-dessous.



1- Recopier sur votre feuille la réponse exacte :

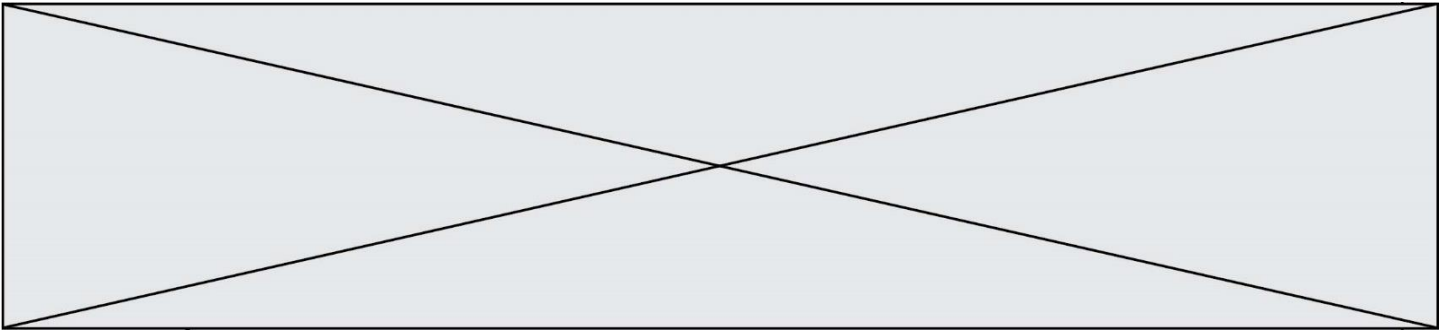
- a) D'après Kelvin, la Terre a 100 Ma.
- b) D'après Kelvin, la Terre a 1860 ans.
- c) D'après Kelvin, la Terre a entre 40 Ma et 200 Ma.

2- Nommer le phénomène physique sur lequel repose le raisonnement de Kelvin.

3- D'après le document 1, préciser quelles évolutions de l'estimation de l'âge de la Terre on peut noter entre l'estimation de Kelvin et celle actuelle.

4- Proposer une explication en s'appuyant sur le document 2 qui montre les limites du raisonnement de Kelvin.

5- D'après le document 3, trouver deux arguments pour justifier que le couple $^{87}\text{Rb}/^{86}\text{Sr}$ peut être utilisé pour dater l'âge de la Terre.



On se propose maintenant de dater un morceau de granite trouvé à la surface de la Terre avec le couple $^{87}\text{Rb}/^{86}\text{Sr}$.

- 6- Montrer que le coefficient directeur de la droite du document 4 est environ égal à 0,025.
- 7- À l'aide du document 5, estimer l'âge de ce granite.
- 8- Préciser si ce granite s'est formé au même moment que la Terre. Justifier.
- 9- Discuter de la possibilité de dater l'âge de la Terre avec des échantillons de roches terrestres.



Document 1 – Expérience réalisée sur une feuille de *Pelargonium*

Une expérience est réalisée en laboratoire avec une feuille de *Pelargonium*, recouverte partiellement d'un cache, éclairée pendant 12 heures. Le dispositif expérimental est présenté dans la figure A ci-dessous. Le cache est ensuite enlevé et la feuille est décolorée dans de l'éthanol bouillant sous hotte en présence d'un dispositif réfrigérant. La feuille est ensuite colorée à l'aide de l'eau iodée. L'eau iodée adopte une coloration noir-violet en présence d'amidon (glucide). Elle reste jaune en l'absence d'amidon. Les résultats obtenus sur la feuille sont présentés sur la photographie de la figure B.



Figure A : dispositif expérimental présentant le cache posé sur la feuille de *Pelargonium*.



Figure B : résultats obtenus suite à la coloration à l'eau iodée.

Source : d'après <https://planet-vie.ens.fr/thematiques/manipulations-en-svt/experiences-sur-la-photosynthese>

- 1- Expliquer en quoi les photosynthèses naturelle et artificielle sont considérées comme des modes de conversion d'une énergie solaire en une énergie chimique à partir des données tirées du document 1 et de vos connaissances.

Modèle CCYC : ©DNE																				
Nom de famille (naissance) : <small>(Suivi s'il y a lieu, du nom d'usage)</small>																				
Prénom(s) :																				
N° candidat :											N° d'inscription :									
 Liberté • Égalité • Fraternité RÉPUBLIQUE FRANÇAISE	<small>(Les numéros figurent sur la convocation.)</small>																			
Né(e) le :			/			/														

1.1

Partie 2 – Efficacité énergétique de la photosynthèse artificielle

L'efficacité énergétique (rapport entre l'énergie chimique reçue et l'énergie solaire utilisée) de la photosynthèse naturelle ne dépasse pas les 1 % chez les végétaux. À l'heure actuelle, l'efficacité énergétique de la photosynthèse artificielle est également faible.

- 2- La puissance surfacique solaire moyenne reçue au sol est de $350 \text{ W}\cdot\text{m}^{-2}$. La surface d'un dispositif de photosynthèse artificielle est de 10 cm^2 .

Montrer que la puissance solaire reçue par le dispositif est égale à $0,35 \text{ W}$.

- 3- Calculer l'énergie solaire reçue par le dispositif pour une durée d'ensoleillement de 6 h par jour.

L'énergie reçue et stockée chimiquement par le dispositif pour une durée d'ensoleillement de 6 h par jour est égale à $1,8 \times 10^2 \text{ J}$.

- 4- Calculer l'efficacité énergétique du dispositif. Comparer cette valeur avec celle de la photosynthèse naturelle.

Pour la question suivante, on admettra que toute l'énergie stockée chimiquement par le dispositif peut être convertie en électricité pouvant alimenter un foyer et que la durée quotidienne d'ensoleillement est de 6 h. La consommation quotidienne d'électricité par personne par foyer en France est de 6 kWh.

- 5- Déterminer le nombre nécessaire de dispositifs pour fournir quotidiennement en électricité un foyer composé de 5 personnes.

Indication : le Watt-heure (Wh) est une unité physique qui correspond à l'énergie consommée ou délivrée par un système d'une puissance de 1 Watt pendant une durée d'une heure.

- 6- Calculer la surface totale occupée par l'ensemble des dispositifs.

Conclure sur la possibilité d'utilisation des dispositifs de photosynthèse artificielle pour alimenter quotidiennement un foyer en électricité.



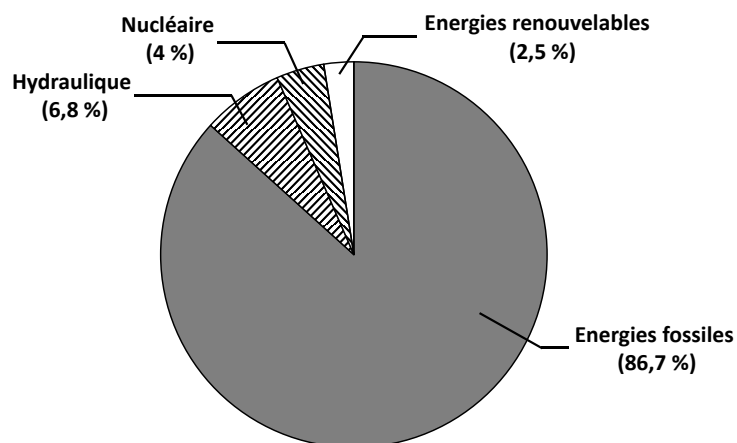
Partie 3 – L'intérêt de la photosynthèse artificielle

Document 2 – Les besoins d'énergie dans le futur

La population mondiale estimée à 7,7 milliards d'habitants en 2019 ne cessera de croître pour atteindre 9,8 milliards d'habitants en 2050. En poursuivant le rythme actuel de consommation d'énergie, celle-ci passerait d'environ 17 térawatts en 2019 à 30 térawatts en 2050. (Note : 1 térawatt = 10^{12} watts)

Source : d'après M. Fontecave ; « Photosynthèse : du CO₂ aux carburants solaires » ; Colloque Chimie et lumière, 26 février 2020, Fondation de la Maison de la Chimie.

Document 3 – Proportion de l'utilisation des différentes sources d'énergie sur la planète



Source : d'après M. Fontecave ; « Photosynthèse : du CO₂ aux carburants solaires » ; Colloque Chimie et lumière, 26 février 2020, Fondation de la Maison de la Chimie.

- 7- À l'aide des documents 2 et 3 ainsi que des connaissances, discuter de l'intérêt de la photosynthèse artificielle en lien avec les défis auxquels l'humanité est confrontée.