



Exercice 1 – Niveau première

Thème « Son, musique et audition »

Concert de Rock

Sur 10 points

Ce soir, la salle de concert du Confort Moderne accueille un groupe de rock local, les VV, composé de deux guitaristes, d'un bassiste et d'un batteur. Le groupe joue à guichet fermé. Musiciens et fans attendent ce moment avec impatience.

Un concert de Rock est, par essence, un lieu riche en sons ; des sons dont on veille à adapter la « hauteur » (c'est-à-dire la fréquence) pour obtenir les effets mélodiques souhaités ; mais également des sons que le public aime entendre avec puissance, ce qui n'est pas sans risque pour la santé.

Dans la suite, nous allons explorer ces deux dimensions : hauteur et puissance.

Partie 1 – Accordage d'une guitare

Avant le concert, les guitaristes doivent accorder leur instrument. En effet, des phénomènes tels que les variations de températures et d'humidité modifient les caractéristiques des cordes et altèrent la sonorité de l'instrument : les sons joués n'ont plus la bonne hauteur, ce qui signifie que la fréquence fondamentale émise par la vibration de la corde n'a plus la bonne valeur.

En général, les musiciens professionnels réalisent l'accordage « à l'oreille » : leur grande habitude des sons leur permet de juger si la fréquence est la bonne. Dans certains cas, ils peuvent s'aider d'un diapason pour disposer d'un son de référence.

Lorsque l'on a moins d'expérience, on peut s'aider d'un enregistrement, ce que la plupart des smartphones permettent de faire désormais. C'est ce que nous allons faire dans cette partie pour réaliser l'accordage d'une guitare. Nous allons voir comment des lois scientifiques nous permettent de discuter les gestes à réaliser.

Nous nous intéressons au cas d'un guitariste qui accorde la corde du Ré. Cette corde doit normalement émettre un son de fréquence 147 Hz. Le document 1 propose un enregistrement du son émis par la corde.

- 1- Expliquer comment déterminer la fréquence du son émis par la guitare à l'aide de l'enregistrement.
- 2- Justifier que la corde n'est pas correctement accordée en précisant si le son est trop grave (fréquence trop faible) ou trop aigu.

Modèle CCYC : ©DNE

Nom de famille (naissance) :

(Suivi s'il y a lieu, du nom d'usage)

Prénom(s) :

N° candidat :

N° d'inscription :

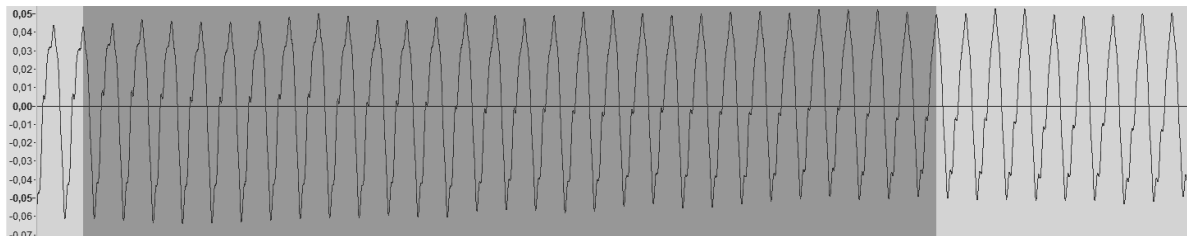


Né(e) le :

(Les numéros figurent sur la convocation.)

1.1

Document 1 – Enregistrement du son émis par la corde du « Ré »



Partie grisée : durée totale de 189 ms pour 29 périodes.

Pour réaliser l'accordage, le musicien tourne une clé située en haut du manche. Cette clé est reliée à une tige sur laquelle la corde s'enroule (voir document 2). Suivant le sens dans lequel il tourne la clé, il augmente l'enroulement de la corde sur la tige, ou la réduit.

Document 2 – Clés d'une guitare



Source : <https://www.hguitare.com/communaute/blog/materiel/anatomie-guitare>



Une loi physique permet d'expliquer pourquoi cette action altère le son émis. En effet, une modélisation du comportement d'une corde vibrante permet de montrer que la fréquence f du son émis (exprimée en hertz) est reliée aux caractéristiques physiques de la corde par la loi :

$$f = \frac{1}{2L} \times \sqrt{\frac{T}{\mu}}$$

Avec les caractéristiques physiques de la corde de guitare :

- L la longueur (en mètre) de la corde entre les deux points de fixation.
- T sa tension (en newton).
- μ sa masse linéique (en kilogramme par mètre).

3- Déterminer si le musicien doit tendre ou détendre la corde pour ajuster la fréquence du son émis sur celle souhaitée (147 Hz).

Partie 2 – Exposition au son

C'est l'heure ! Les musiciens sont en place. Les portes de la salle s'ouvrent et le public commence à entrer. Les premiers rangs se remplissent, les fans veulent être au plus près de leurs idoles.

Lorsque tout le public est entré, il est disposé suivant un demi-disque comme représenté sur le schéma du document 3 page suivante.

Lorsque les musiciens jouent, le son des instruments est amplifié et diffusé par des enceintes. Pour simplifier, on considère que l'ensemble des enceintes équivaut à une unique enceinte positionnée au centre du demi-disque.

Dans ces conditions, le niveau d'intensité sonore L (en décibel) perçue par une personne située à la distance r de l'enceinte est donnée par la relation :

$$L = 10 \times \log\left(\frac{P}{2\pi r^2 I_0}\right)$$

où P est la puissance d'émission du son par l'enceinte ($P = 150 \text{ W}$) et I_0 est l'intensité sonore du seuil d'audibilité ($I_0 = 10^{-12} \text{ W} \cdot \text{m}^{-2}$).

Modèle CCYC : ©DNE

Nom de famille (naissance) :

(Suivi s'il y a lieu, du nom d'usage)

Prénom(s) :

N° candidat :

N° d'inscription :

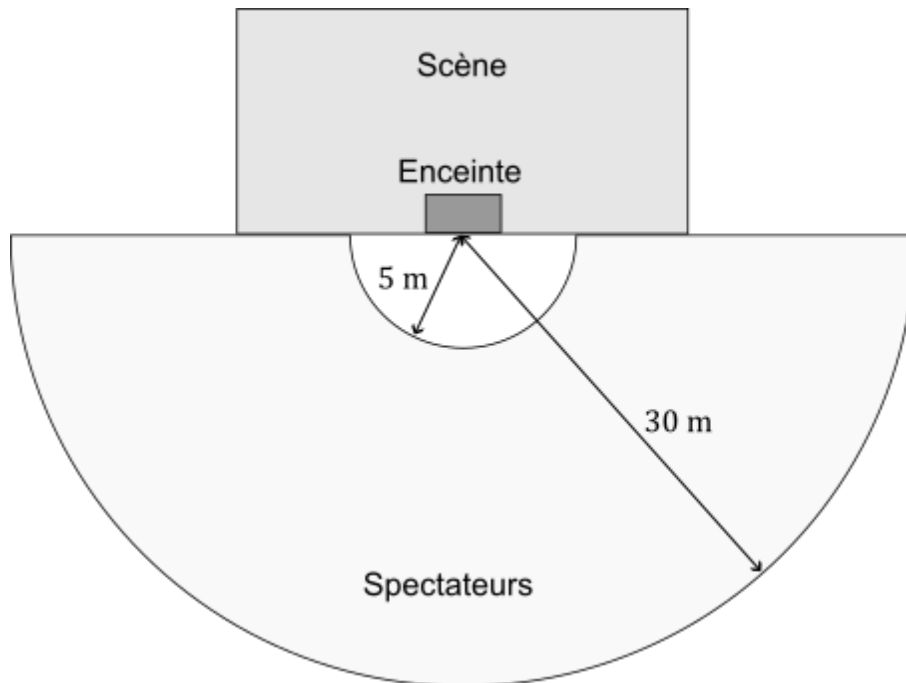


Né(e) le :

(Les numéros figurent sur la convocation.)

1.1

Document 3 – Disposition de la salle



- 4- Justifier que cette formule est cohérente avec le fait que l'on perçoive le son plus faiblement en fond de salle qu'à proximité de la scène.

Indication : la fonction logarithme est croissante. Lorsque x augmente, $\log(x)$ augmente.

On mesure les niveaux d'intensité sonore dans la salle pendant que le groupe joue. On trouve un niveau d'environ 115 dB au plus près de la scène (5 m) et environ 100 dB en fond de salle (30 m). Ces niveaux correspondent à une moyenne sur un morceau, avec des variations d'intensité au cours de celui-ci. Par ailleurs, les morceaux joués par le groupe durent environ quatre minutes chacun.

Le document 4 pages suivante présente une analyse des risques que représente l'exposition à des sons intenses.

- 5- Discuter les risques pour la santé auditive des spectateurs suivant qu'ils sont proches ou loin de la scène.

Le document 5 page suivante présente une campagne de sensibilisation aux dangers du bruit proposée par l'Agence Régionale de Santé de Normandie.

- 6- Justifier le deuxième conseil.



Document 4 – Danger du bruit pour les oreilles

Selon le Dr Pascal Foeillet, médecin ORL praticien et Vice-Président de l'association JNA « Contrairement aux yeux, les oreilles ne sont pas constituées de protecteurs naturels et restent réceptives à tous les sons, toxiques ou non ».

Au-delà de 85 dB l'oreille est en danger. La dangerosité va dépendre aussi de la durée d'exposition. Par exemple, il est possible d'être soumis à une exposition de 80 dB pendant huit heures sans danger pour le système auditif. Une fatigue s'en ressentira pour autant.

Un impact soudain à 120 dB (pétard) peut créer autant de dégâts sur le système auditif que cinq minutes de MP3 à 100 dB.

Durée d'exposition au bruit	
Niveau sonore en dB	Durée d'exposition maximale
80	8h
83	4h
86	2h
89	1h
92	30 min.
95	15 min.
98	7 min. 30 sec.
101	3 min. 45 sec.
104	1 min. 22 sec.
107	41 secondes
110	20 secondes

Source : Hearingprotech.com

Source : Extrait d'un dossier de l'association pour la prévention et l'information dans le domaine de l'audition


Document 5 – Campagne gouvernementale de prévention

ÉCOUTE DE MUSIQUE EN CONCERT OU FESTIVAL 4 CONSEILS

- S'éloigner des enceintes
- Faire des pauses régulières dans des zones calmes
- Porter des protections auditives (bouchons d'oreilles, casques)
- Pour les femmes enceintes et jeunes enfants, éviter l'exposition à des niveaux sonores élevés



Source : <https://www.normandie.ars.sante.fr/prevention-des-risques-auditifs-lies-au-bruit>

Modèle CCYC : ©DNE																				
Nom de famille (naissance) : <small>(Suivi s'il y a lieu, du nom d'usage)</small>																				
Prénom(s) :																				
N° candidat :											N° d'inscription :									
 <small>Liberté • Égalité • Fraternité</small> <small>RÉPUBLIQUE FRANÇAISE</small>	<small>(Les numéros figurent sur la convocation.)</small>																			
	Né(e) le :			/			/													

1.1

Exercice 2 – Niveau première

Thème « La Terre, un astre singulier »

Comment les scientifiques savent ?

Sur 10 points

Les évidences apparentes et les récits non scientifiques ont d'abord conduit à de premiers récits sur l'origine de la Terre amenant à diverses estimations de son âge.

Le savoir actuel est bien éloigné de ces premiers récits. Le scientifique du XXI^e siècle n'est pas né avec ce savoir. Celui-ci s'est construit par le travail des chercheuses et chercheurs qui ont pris en compte les nouvelles observations et découvertes permises par l'évolution technologique des instruments d'observation dans le cadre d'une démarche scientifique.

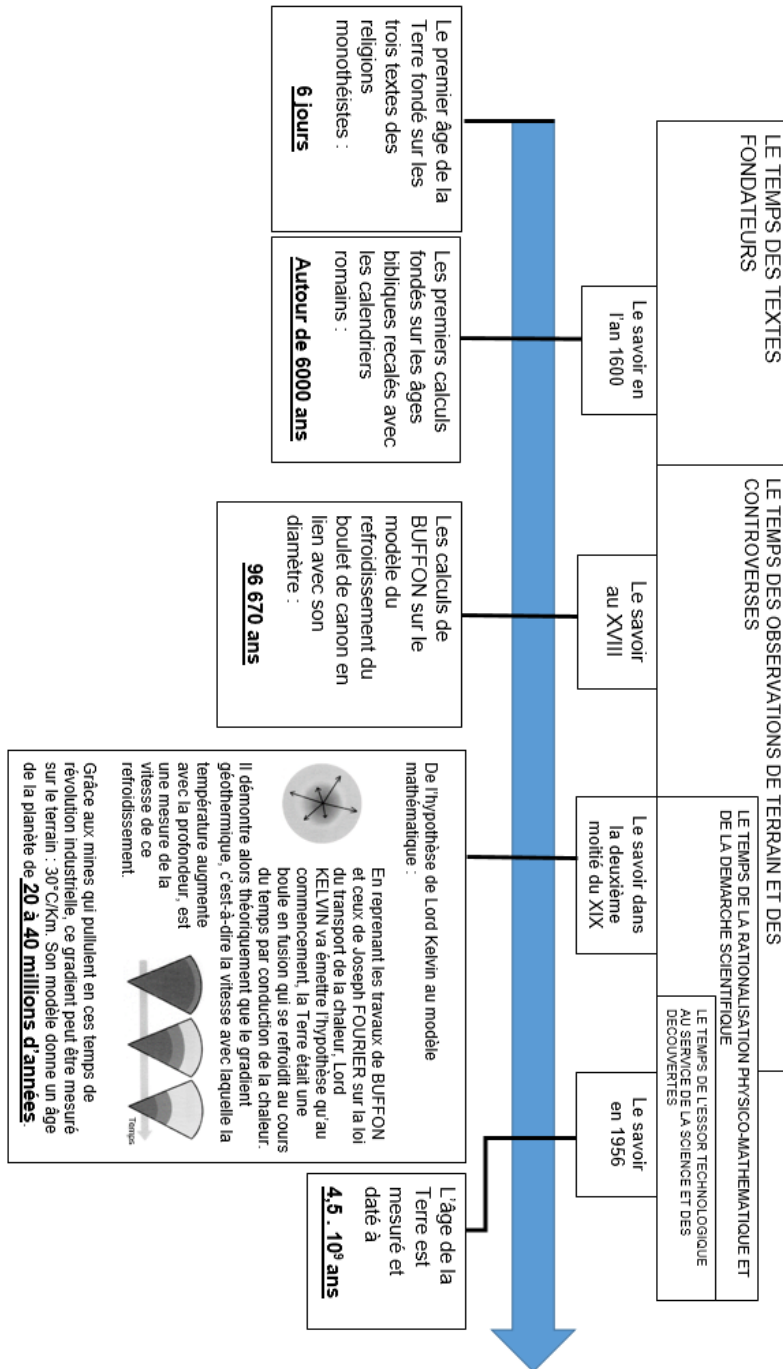
De même, si nous savons aujourd'hui qu'il n'y a pas d'habitants sur la Lune (les sélénites parfois imaginés depuis l'antiquité), ce savoir se fonde sur une interprétation rigoureuse des observations.

Il s'agit ici de se pencher sur ces questions en remobilisant des éléments de l'histoire des sciences sur l'âge de la Terre et la présence de vie sur la Lune.

Partie 1 – l'âge de la Terre

- 1- Parmi les étapes de la détermination de l'âge de la Terre mentionnées dans le document 1 (page suivante), indiquer quelle est, historiquement, la première tentative d'explication conforme à une démarche scientifique.
- 2- Présenter des arguments que les géologues et naturalistes du XIX^{ème} siècle ont opposé aux physiciens de leur temps pour contredire l'âge calculé par lord Kelvin ?
- 3- Citer le phénomène physique majeur, découvert en fin du XIX^{ème} siècle, qui a permis de déterminer, en 1956, que l'âge de la Terre est voisin de 4,5 milliards d'années. Donner le nom d'un ou d'une scientifique ayant contribué à la compréhension de ce phénomène physique majeur.

Document 1 – L'âge de la Terre dans l'histoire



Source : D'après le livre « Comment les scientifiques savent... ? » CNRS éditions et Planète Terre

Modèle CCYC : ©DNE

Nom de famille (naissance) :

(Suivi s'il y a lieu, du nom d'usage)

Prénom(s) :

N° candidat :

N° d'inscription :



Né(e) le :

(Les numéros figurent sur la convocation.)

1.1

Partie 2 – la Lune : un monde habitable ?

Lorsqu'on est amateur d'astronomie, le premier astre fascinant qu'on essaie d'observer et d'étudier de plus près est souvent la Lune... On s'intéresse ici à l'observation de la Lune et de ses différentes phases.


Document 2 – Phases de la Lune (de A à D) et positions possibles autour de la Terre au cours du temps (de 1 à 8)



Phase A



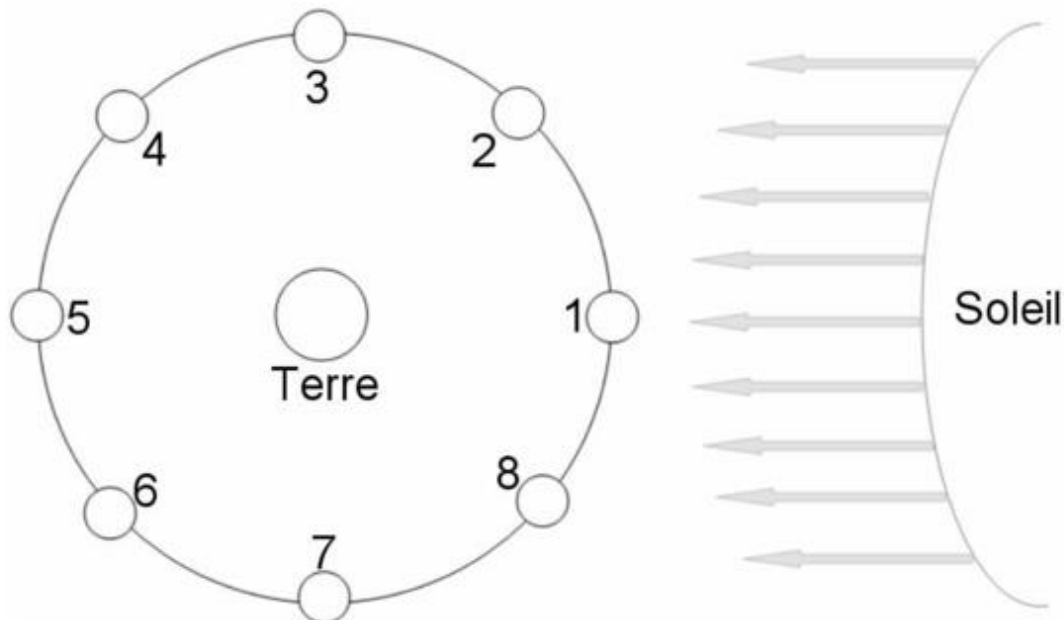
Phase C



Phase D



Phase D



Ce schéma est donné sans considération d'échelle.

Source : D'après le site de l'académie de Bordeaux



- 4- Choisir parmi les termes « nouvelle Lune », « croissant », « quartier », « gibbeuse » et « pleine Lune », celui qui correspond à la phase A du document 2.
- 5- Indiquer, pour la phase B, le numéro de position correspondant à son observation depuis la Terre (Une phrase réponse est attendue.).
- 6- Le 7 octobre 1959 la mission Luna 3 a permis de photographier pour la première fois la « face cachée de la Lune ». Expliquer pourquoi la Lune a une « face cachée ».

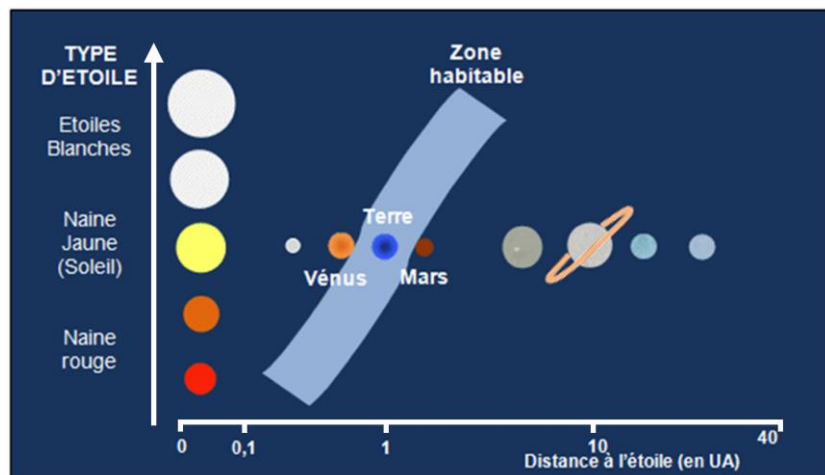
Depuis fort longtemps, les scientifiques en observant les phases de la Lune avaient remarqué la présence de vastes étendues de couleur sombre. En interprétation de cette observation, ils posèrent l'hypothèse de la présence d'eau liquide et de mers sur la Lune. Aussi, certaines personnes comme l'astronome allemand Franz von Gruithuisen en 1824, ont considéré la Lune comme habitable et peuplée d'habitants : les Sélénites.

Dans la suite de ce sujet, il s'agira d'éprouver cette hypothèse en prenant en compte les données modernes acquises depuis.

Document 3 – Graphique montrant l'emplacement de la zone habitable dans le Système solaire en fonction du type d'étoile

En astronomie et en exobiologie, la zone habitable est un domaine théorique à proximité d'une étoile au sein duquel tous les corps présents pourraient disposer d'eau

liquide à leur surface. L'étendue de cette zone est calculée à partir de la puissance lumineuse émise par l'étoile, et de la distance entre le corps et l'étoile.



Source : D'après planet-terre.ens-lyon.fr

Modèle CCYC : ©DNE

Nom de famille (naissance) :

(Suivi s'il y a lieu, du nom d'usage)

Prénom(s) :

N° candidat :

N° d'inscription :



Liberté • Égalité • Fraternité
RÉPUBLIQUE FRANÇAISE

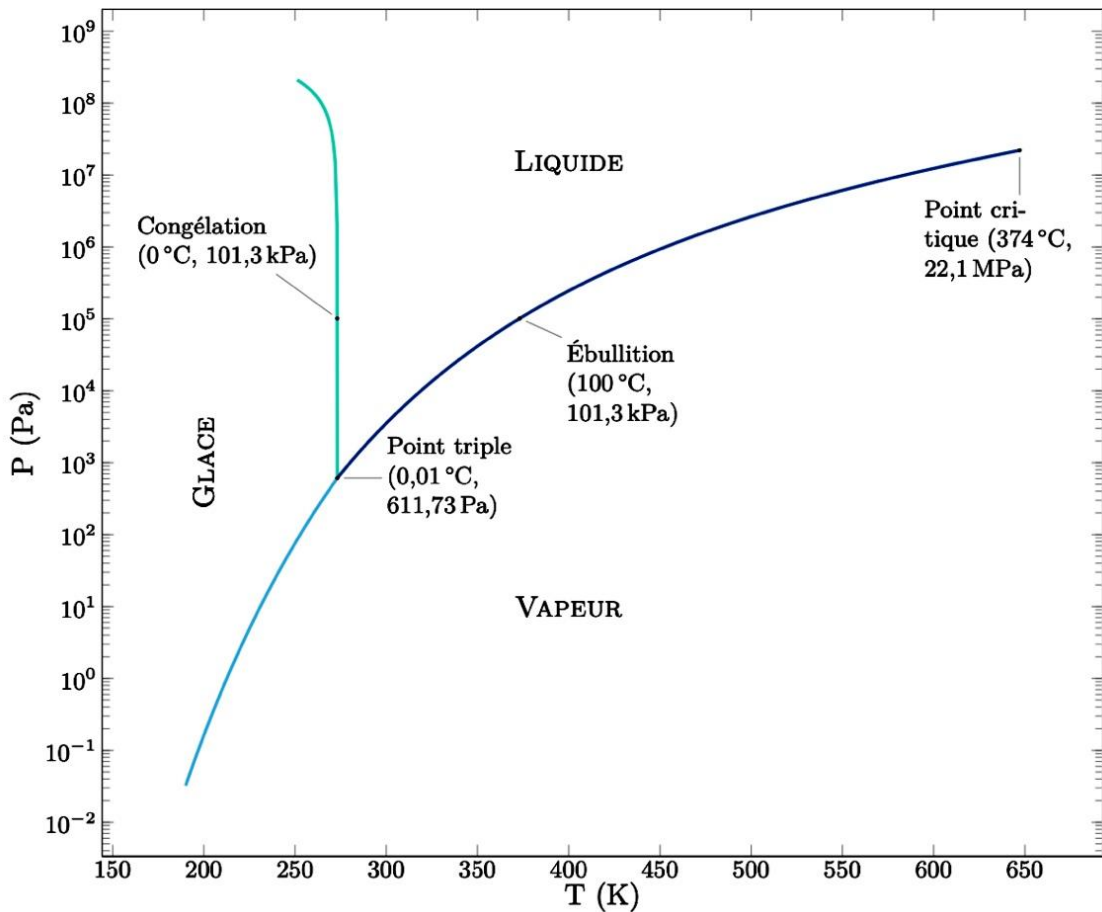
Né(e) le :

(Les numéros figurent sur la convocation.)

1.1

- 7- Sur la base du document 3, indiquer s'il serait possible qu'il existe de l'eau liquide sur la Lune.

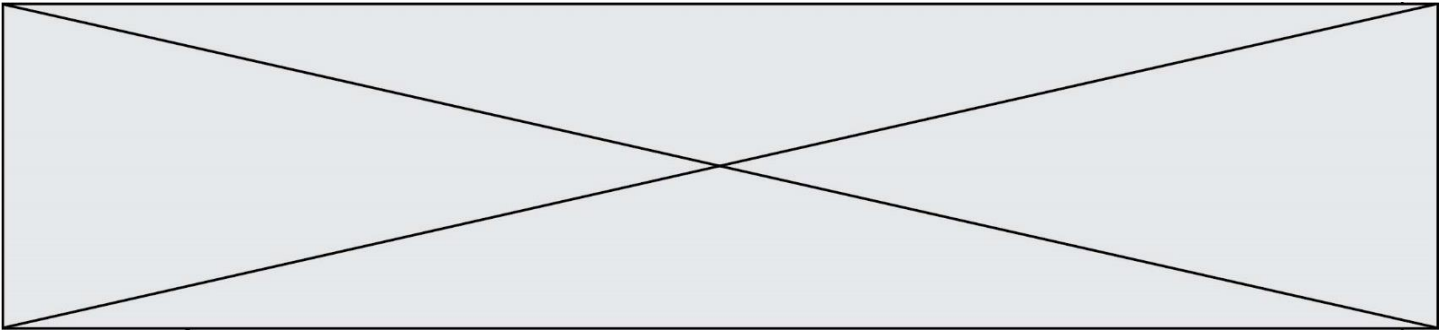
Document 4 – Diagramme d'état de l'eau en fonction de la température et de la pression atmosphérique



Source : D'après planet-terre.ens-lyon.fr

- 8- Les données acquises sur la Lune ont permis d'établir que la température de surface oscillait entre 150°C (soit 423°K) en plein soleil et -170°C (soit 103°K) à l'ombre, et que la pression atmosphérique y est extrêmement faible (nettement inférieure à 10^{-1} Pa).

En vous appuyant sur le document 4, discuter de l'hypothèse de la présence d'eau liquide et de mers à la surface de la Lune. La réponse est attendue sous la forme d'un texte argumenté.



- 9-** Dans quelle mesure les données des documents 3 à 4 illustrent-elles l'idée que la construction d'un savoir scientifique stabilisé est dépendante des avancées technologiques d'une époque et contribue à invalider certaines hypothèses ou croyances populaires, comme celle de Franz von Gruithuisen.

Modèle CCYC : ©DNE

Nom de famille (naissance) :


(Suivi s'il y a lieu, du nom d'usage)

Prénom(s) :

N° candidat : N° d'inscription :

(Les numéros figurent sur la convocation.)

Né(e) le : / /



1.1

Exercice 3 – Niveau première

Thème « Le Soleil, notre source d'énergie »

Le rachitisme, une maladie provoquée par un déséquilibre alimentaire

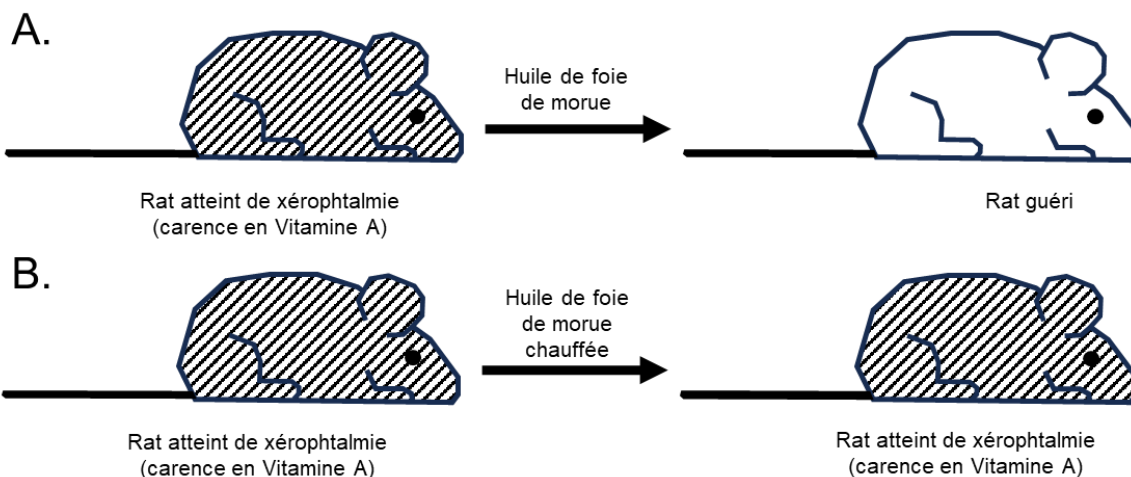
Sur 10 points

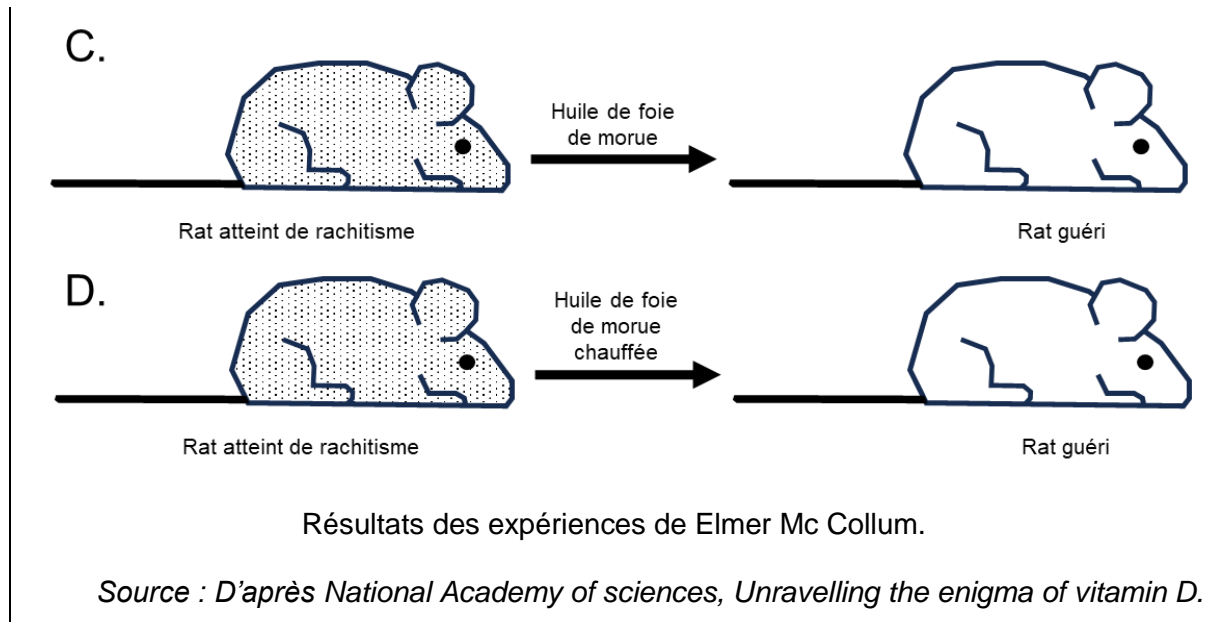
Le rachitisme est une maladie de la croissance et de l'ossification chez le petit enfant qui peut entraîner des malformations osseuses graves. Elle est décrite depuis l'antiquité mais c'est au XVIII^{ème} siècle qu'un médecin anglais, Thomas Percival (1740 – 1804) formula l'hypothèse d'un déficit nutritionnel à l'origine de la maladie et réussit à guérir des enfants en leur faisant avaler de l'huile de foie de morue.

On s'intéresse aux mécanismes à l'origine du rachitisme et aux traitements possibles.

Document 1 – Expériences historiques de Elmer Verner Mc Collum

Les recherches de McCollum au début des années 1920 ont révélé que les rats pouvaient développer le rachitisme lorsqu'ils étaient nourris avec un régime à base de céréales uniquement. En testant plus de 300 régimes alimentaires différents, il découvre que l'huile de foie de morue peut prévenir le rachitisme. S'appuyant sur des travaux antérieurs sur la xérophtalmie (maladie des yeux, évoluant vers la cécité en l'absence de traitement) ayant abouti à la découverte de la vitamine A, McCollum nourrit les animaux souffrant de rachitisme avec de l'huile de foie de morue chauffée ou non. Il parvient à guérir certains rats et nomme le facteur à l'origine du rétablissement de ces rats « vitamine D ».





- 1- D'après vos connaissances, expliquer en quoi choisir un régime alimentaire constitué uniquement de céréales va causer à plus ou moins long terme des problèmes de santé.
- 2- Interpréter les résultats des expériences historiques de Elmer Verner Mc Collum présentés sur le document 1.

Quelques décennies après la découverte de l'huile de foie de morue comme traitement du rachitisme, on remarqua également l'effet bénéfique sur la maladie d'une exposition au soleil.

- 3- Au XVIII^{ème} siècle, on a constaté que le rachitisme s'est principalement développé en milieu urbain au Nord de l'Europe loin des côtes à l'époque industrielle.

Exploiter le document 2, à l'aide de vos connaissances, pour expliquer que la maladie, à l'époque industrielle, ait été plus fréquente en milieu urbain, dans les régions du Nord de l'Europe, éloignées des bords marins et océaniques.

Modèle CCYC : ©DNE

Nom de famille (naissance) :

(Suivi s'il y a lieu, du nom d'usage)

Prénom(s) :

N° candidat :

N° d'inscription :



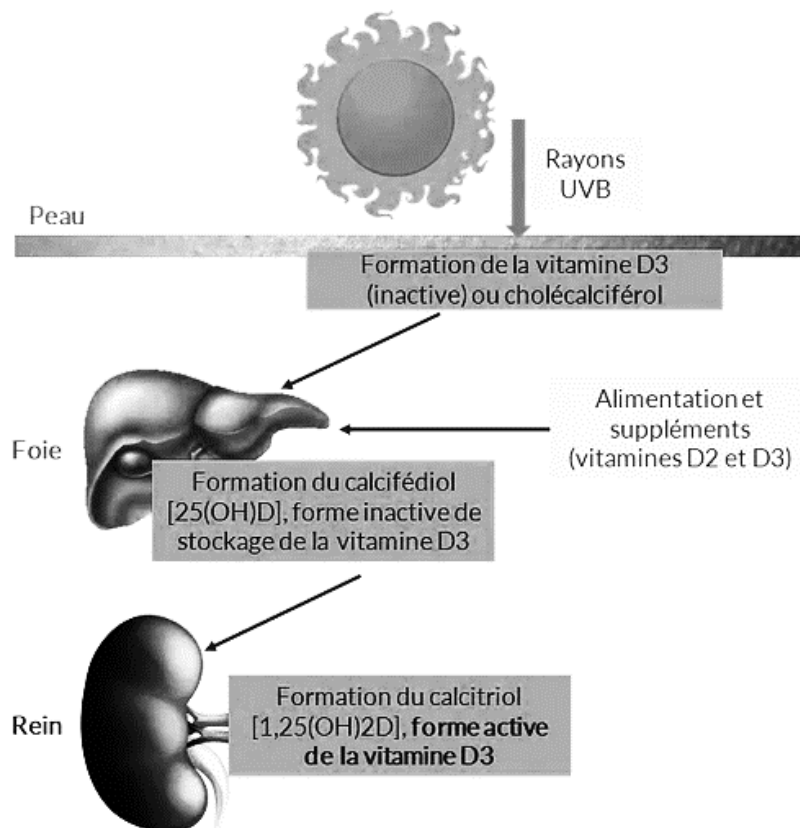
Né(e) le :

(Les numéros figurent sur la convocation.)

1.1

Document 2 – alimentation et vitamine D

Document 2A : la synthèse de vitamine D par l'organisme



Source : www.annequillot.com

Document 2B : les aliments contribuant à répondre aux besoins en vitamine D de l'organisme

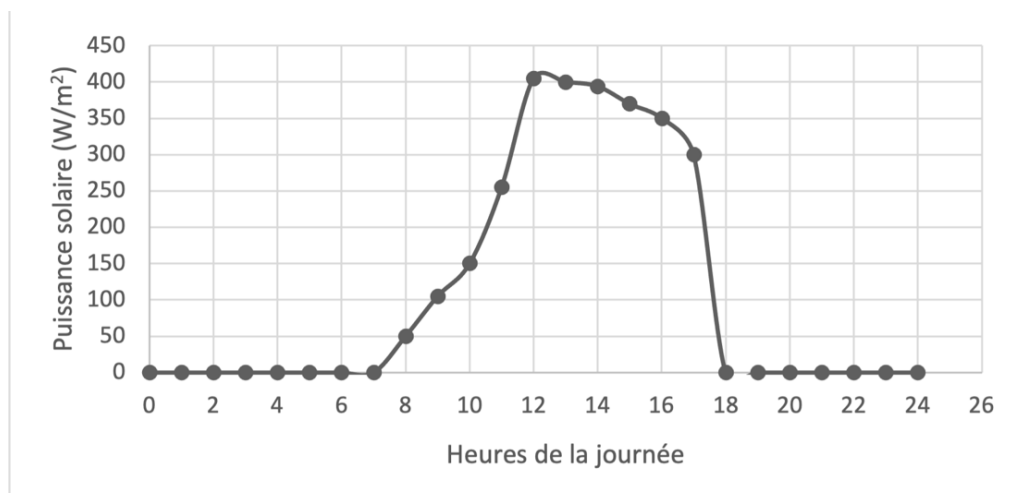
En France, les principaux aliments contributeurs aux apports en vitamine D dans la population sont les poissons et les produits laitiers (yaourts, fromage blanc, fromage, lait) qui contribuent respectivement à 19 % et 25 % des apports chez les adultes et à 12 % et 40 % des apports en vitamine D chez les enfants de 11 à 17 ans.

Pour les enfants de moins de 10 ans, les produits laitiers sont les principaux contributeurs puisqu'ils couvrent 63 % de leurs besoins en vitamine D.

Source : d'après ANSES



Document 3 : Puissance solaire reçue au sol, en fonction des heures de la journée



Source : d'après Le Livre Scolaire

Aujourd'hui, de nombreuses campagnes de prévention préconisent d'éviter de s'exposer au soleil, surtout entre 12 h et 16 h, car une surexposition aux rayons UV du soleil peut entraîner l'apparition de cancers de la peau.

- 4- À l'aide de vos connaissances, expliquer l'origine des variations de la puissance solaire reçue au sol, observées dans le document 3.
- 5- Expliquer la recommandation générale des campagnes de prévention des cancers de la peau : « éviter l'exposition au soleil entre 12 h et 16 h ».
- 6- Discuter du message principal des campagnes de prévention des cancers de la peau, au regard des risques éventuels de rachitisme.