

Exercice 1 – Niveau première

Thème « La Terre, un astre singulier »

Zone d'habitabilité

Sur 10 points

On définit la zone d'habitabilité comme étant la région des orbites des planètes ou des exoplanètes pouvant présenter de l'eau à l'état liquide. Cette définition a été revue avec la découverte par la sonde Galileo de sérieux indices de l'existence d'océans à l'intérieur de certains satellites naturels de Jupiter, notamment Europe.

Partie 1 – La zone d'habitabilité du système solaire

Document 1 – Quelques caractéristiques des planètes du système solaire

	Mercure	Venus	Terre	Mars
Distance au Soleil (en millions de km)	58	108	150	228
Température de surface théorique (°C)	+168	+22,9	-18,5	-69
Température de surface réelle moyenne (°C)	+167	+464	+15	-67
Température minimale à Température maximale (°C)	-180 à +430	+446 à +490	-50 à +50	-143 à +20

La température moyenne de surface théorique correspond à la température, calculée par les astrophysiciens, qui régnerait à la surface d'une planète si celle-ci était totalement dépourvue d'atmosphère.

1- À l'aide du document 1, en se basant uniquement sur la température de surface théorique et en considérant que la pression atmosphérique est semblable à celle de la Terre, citer la ou les planètes qui pourraient posséder de l'eau liquide en surface. Justifier.

2- Calculer l'écart entre la température de surface réelle moyenne et la température de surface théorique, en valeur absolue, pour les 4 planètes du tableau.

Modèle CCYC : ©DNE

Nom de famille (naissance) :


(Suivi s'il y a lieu, du nom d'usage)

Prénom(s) :

N° candidat : N° d'inscription :

(Les numéros figurent sur la convocation.)

Né(e) le : / /



1.1

Document 2 – Quelques caractéristiques des planètes du système solaire

	Mercure	Venus	Terre	Mars
Pression atmosphérique de surface (bar ou mbar)	0,1 mbar	93 bar	1 bar	6 mbar
Épaisseur de l'atmosphère (km)	quasi nulle	350	500	100
Composition de l'atmosphère (Les gaz en gras sont des gaz à effet de serre)	He (traces)	CO₂ (96%), N ₂ (3,5%), O ₂ (0,13%) H₂O (0,002%)	N ₂ (78%), O ₂ (20,9%), CO₂ (0,04%), H₂O (faible, variable)	CO₂ (95%), N ₂ (2,7%), O ₂ (0,13%) H₂O (0,03%)

3- À l'aide du document 2 et de vos connaissances, nommer et expliquer le phénomène à l'origine de la différence entre température réelle et température théorique sur la Terre et sur Vénus.

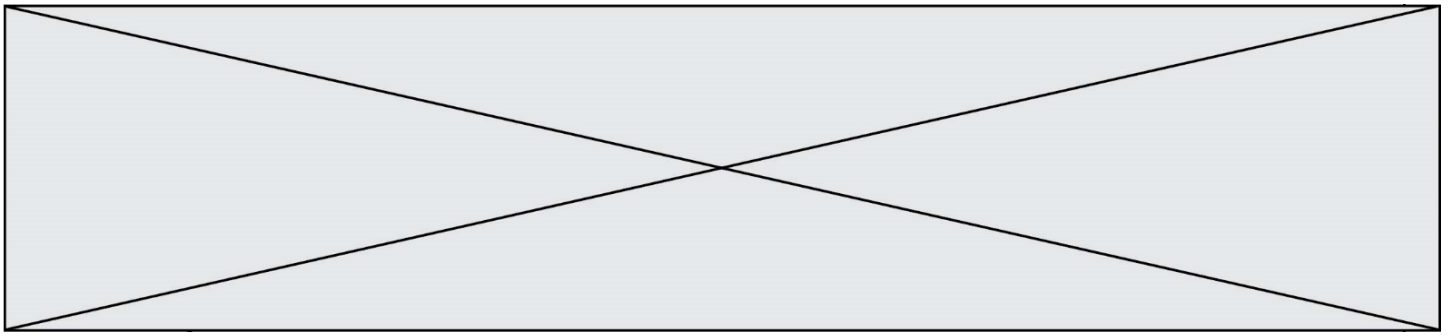
4- Expliquer pourquoi le phénomène nommé à la question 3 est actuellement négligeable sur Mercure et sur Mars.

Partie 2 – Europe, un satellite naturel habitable au sein du système solaire ?

Document 3 – Extrait d'un communiqué du CNRS

Pour un grand nombre de scientifiques, dans le système solaire, c'est sur Europe que la probabilité de trouver de la vie est la plus élevée. Sur les images fournies par les sondes spatiales Galileo (2014) et Juno (2022), on aperçoit sur la surface glacée, un réseau de fissures qui sont vraisemblablement des résurgences d'eau, comme on en trouve en Arctique. Des geysers jaillissent de temps à temps. [...] Ne peut-on espérer trouver, sous la surface, des écosystèmes comme ceux des sources hydrothermales de nos océans, qui s'avèrent grouiller de vie malgré des conditions inhospitalières ?

Source : d'après <https://www.insu.cnrs.fr/fr/cnrsinfo/trouver-la-vie-sur-les-lunes-de-jupiter>



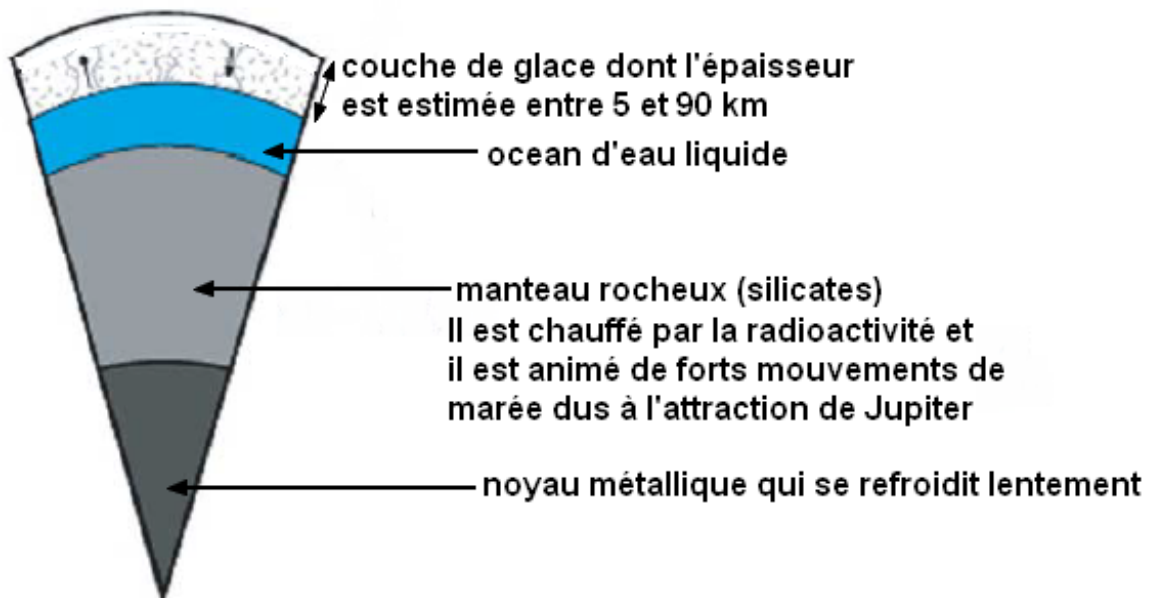
Document 4 – Quelques caractéristiques physico-chimiques d'Europe comparée à la Terre

	Europe	Terre
Température de surface	-150°C	+15°C
Pression atmosphérique (Bar)	10^{-11}	1
Composition atmosphère	O ₂ (produit par dissociation des molécules d'eau).	79% N ₂ , 20% O ₂ , Ar, CO ₂ , ...

Source : 5 janvier 2023, <https://www.insu.cnrs.fr/fr/cnrsinfo/trouver-la-vie-sur-les-lunes-de-jupiter>

Document 5 – Un modèle de la structure interne d'Europe, satellite de Jupiter

Les échelles ne sont pas respectées pour la représentation schématique suivante :



Modèle CCYC : ©DNE

Nom de famille (naissance) :

(Suivi s'il y a lieu, du nom d'usage)

Prénom(s) :

N° candidat :

N° d'inscription :



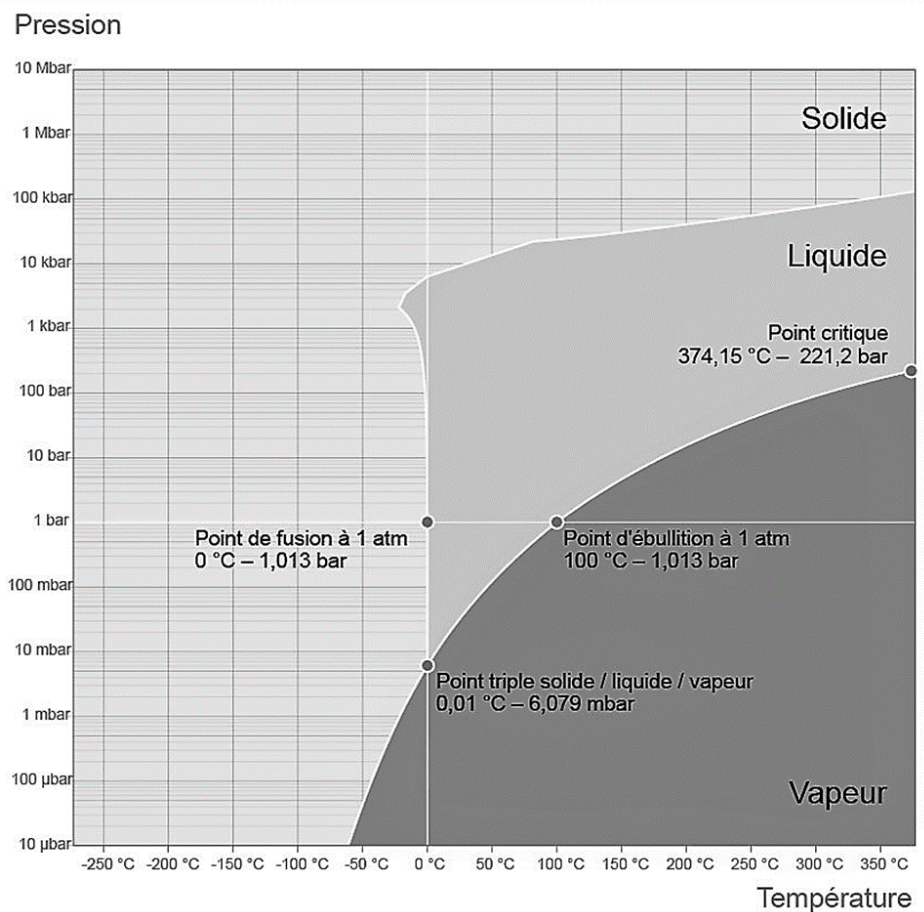
Liberté • Égalité • Fraternité
RÉPUBLIQUE FRANÇAISE

Né(e) le :

(Les numéros figurent sur la convocation.)

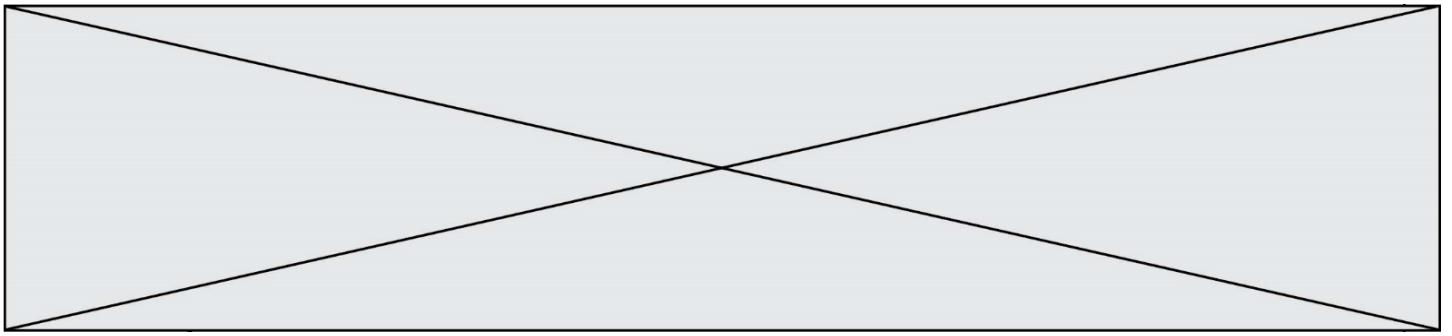
1.1

Document 6 – Diagramme de phase de l'eau



Source : d'après Wikipedia, Eau liquide dans l'Univers

- 5- En prenant appui sur les documents 3, 4 et 6 indiquer deux arguments qui permettent de supposer que l'eau est présente sous forme solide à la surface d'Europe comme indiquée dans le document 5.
- 6- Relever dans les documents 4 et 5, un argument en faveur de l'existence d'un océan d'eau liquide sous la banquise d'Europe.



Partie 3 – La recherche d'exoplanètes habitables

Une exoplanète est une planète gravitant autour d'une autre étoile que le Soleil.

- 7- En utilisant les réponses apportées dans les parties 1 et 2 ou avec vos connaissances, expliquer en quoi la distance d'une exoplanète à son étoile ne suffit pas à affirmer la présence d'eau liquide à sa surface.

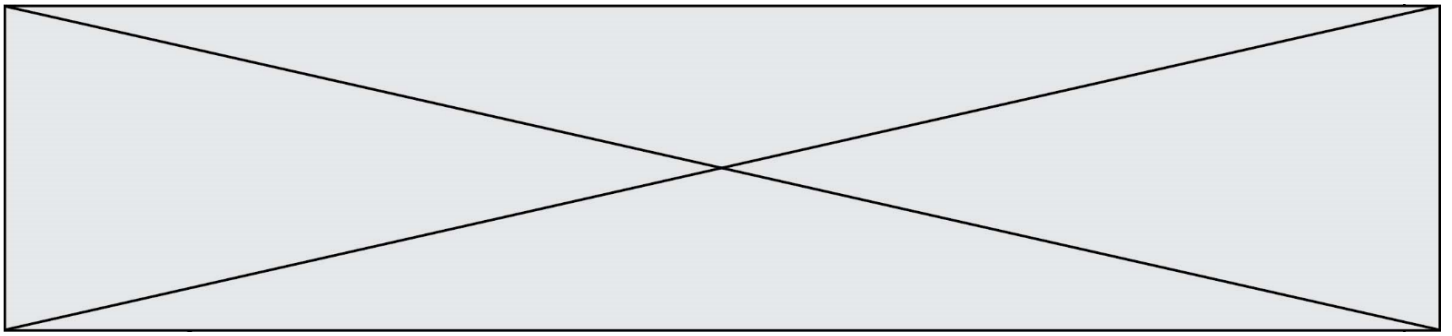
Document 7 – Extrait d'un communiqué du CNRS du 6 septembre 2022

James Webb : Premières images d'une exoplanète dans l'infrarouge moyen

Lancé le 25 décembre 2021, [le télescope] James Webb a terminé sa phase de tests en Juillet 2022. Les programmes scientifiques ont depuis débuté et produisent déjà leurs premiers résultats, dont la première image d'une exoplanète obtenue dans l'infrarouge moyen [...]. Les instruments du James Webb rendent désormais possible son observation directe dans l'infrarouge. [...] Entre autres, les coronographes de MIRI, [...] fonctionnent à des longueurs d'ondes choisies spécialement pour sonder l'atmosphère des exoplanètes, identifier des molécules comme l'ammoniac ou le dioxyde de carbone et déterminer la température de surface réelle des exoplanètes.

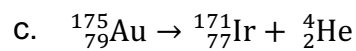
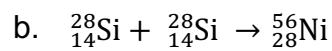
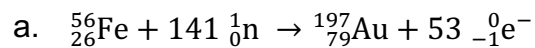
Source : <https://www.insu.cnrs.fr/fr/cnrsinfo/james-webb-premieres-images-dune-exoplanete-dans-linfrarouge-moyen>

- 8- À l'aide du document 7, expliquer en quoi le télescope James Webb pourrait permettre de mieux identifier les exoplanètes susceptibles d'abriter de l'eau liquide.



L'un des mécanismes de formation des noyaux d'or est une succession de réactions nucléaires à partir de noyaux de fer.

2- Associer à chacune des réactions suivantes l'un des termes parmi : fusion nucléaire, fission nucléaire, bilan de la formation des noyaux d'or.




La connaissance de la structure du noyau atomique de l'or ne suffit cependant pas pour expliquer les propriétés du matériau. Il faut alors étudier sa structure cristalline.

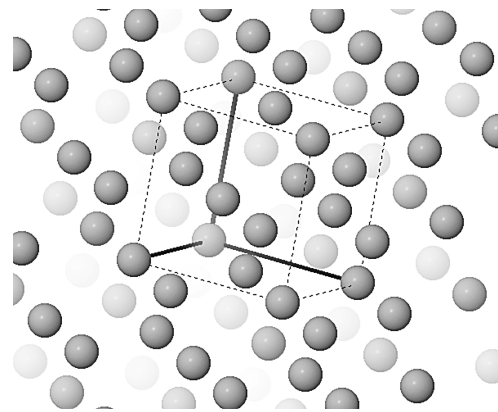
Partie 2 – Le cristal d'or

Document 2 – Représentations en trois dimensions de plusieurs mailles d'un cristal d'or

Chaque sphère ci-dessous représente un atome d'or ($Z = 79$). Une maille est mise en évidence sur la représentation 2.



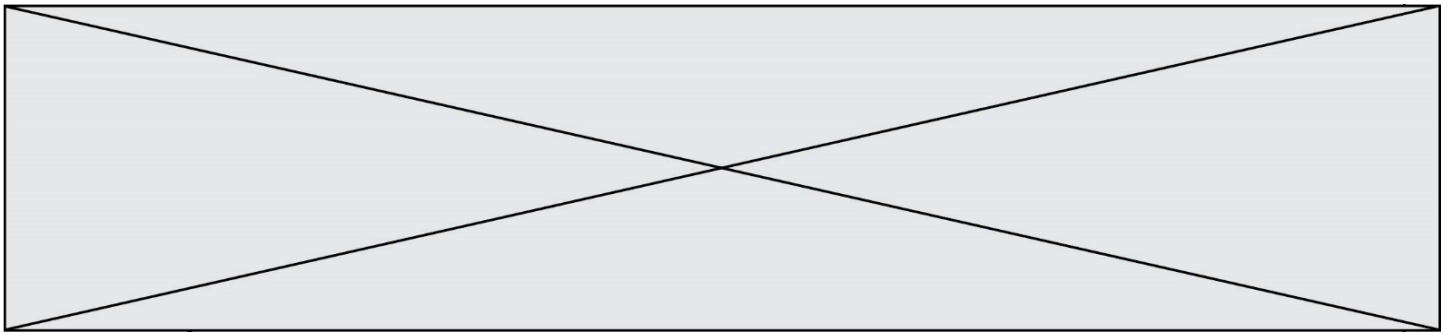
Représentation 1



Représentation 2

Source : logiciel MinUSc

3- En vous appuyant sur vos connaissances, justifier que l'échantillon d'or soit qualifié de cristal.



Catégorie	Dérivés cyanurés	Toxicité	CL50 en mg/L
Cyanures libres	CN ⁻	forte	≈ 0,1
	HCN	forte	de 0,05 à 0,18
	KCN(s), Ca(CN) ₂ (s)	forte	de 0,03 à 0,70
	NaCN.2H ₂ O(s)	forte	de 0,40 à 0,70

Sources : d'après Australian Government, 2010
et Note d'Analyse Association SystExt, Avril 2021


- 5- Comparer la concentration en cyanures du déversement australien avec les CL50 de référence pour déterminer la gravité de cet accident sur la faune aquatique.

Pour comprendre l'effet du cyanure sur les organismes aquatiques, on étudie sa toxicité sur la respiration cellulaire. On utilise pour cela la levure, organisme unicellulaire réalisant la respiration et facile à cultiver en milieu aquatique.

Document 5 – Dispositif expérimental pour étudier la respiration des levures

La respiration cellulaire permet aux levures de produire l'énergie dont elles ont besoin pour vivre, à partir du glucose et du dioxygène prélevé dans leur environnement.

L'équation de la respiration cellulaire est :



Il est possible de mesurer au cours du temps les concentrations en dioxygène et en dioxyde de carbone dans un milieu de culture contenant des levures et de l'eau. L'injection d'une solution choisie par l'expérimentateur peut être réalisée dans le milieu de culture.

Le graphique suivant montre la concentration en dioxygène en fonction du temps dans une suspension de levures.

Modèle CCYC : ©DNE

Nom de famille (naissance) :

(Suivi s'il y a lieu, du nom d'usage)

Prénom(s) :

N° candidat :

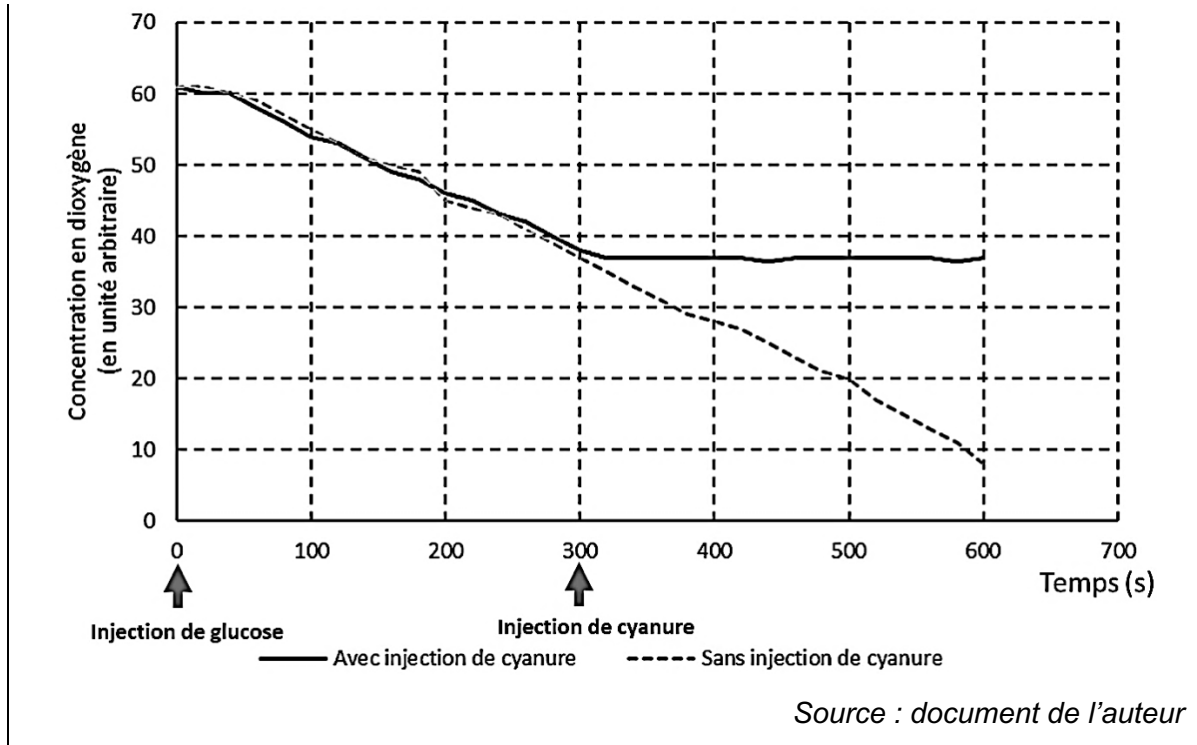
N° d'inscription :



Né(e) le :

(Les numéros figurent sur la convocation.)

1.1

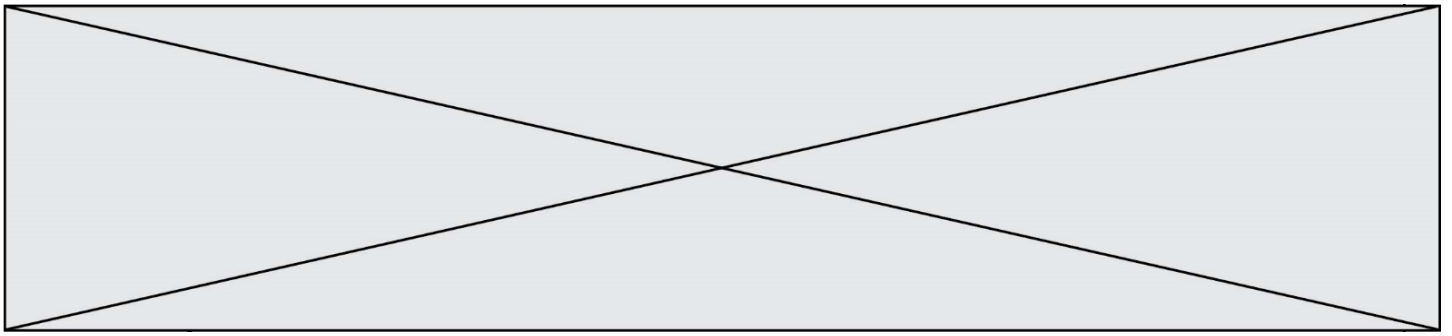


- 6- Expliquer pourquoi le protocole ci-dessous ne permettrait pas de mettre en évidence l'effet du cyanure sur la respiration cellulaire des levures. Justifier votre réponse.

Protocole :

On réalise un enregistrement avec uniquement une injection de cyanure au bout de 300 secondes.

- 7- Exploiter les résultats du document 5 pour conclure sur la toxicité du cyanure sur les êtres vivants aquatiques.



Exercice 3 – Niveau première

Thème « Le Soleil, notre source d'énergie »

Atténuer la chaleur dans les villes

Sur 10 points

Avec le réchauffement climatique la température dans les villes pendant l'été devient un danger pour l'être humain, notamment pendant les épisodes caniculaires de plus en plus fréquents. Les politiques publiques cherchent à réduire les températures urbaines, en atténuant de différentes manières le bilan radiatif des différentes surfaces dans les villes.

- 1- Compléter le schéma en annexe sur le document réponse en indiquant les éléments suivants : puissance réfléchi, puissance reçue et puissance absorbée.
- 2- À partir de vos connaissances et du schéma complété sur l'annexe définir le terme « albédo ».
- 3- En laissant de côté le cas du gazon, établir, à partir du document 1 fourni dans la suite, un lien entre l'albédo et la température de surface du revêtement de la chaussée. Justifier la réponse.
- 4- À l'exception du gazon, proposer le revêtement de surface qui vous paraît être adapté pour abaisser les températures ambiantes dans la ville de Paris, qu'il s'agisse de chaussée ou de trottoir.
- 5- Identifier, avec le document 2 fourni dans la suite, où sont situés les îlots de fraîcheur dans l'agglomération parisienne.

En réalité, la température mesurée sous le couvert végétal est encore moins élevée que la température attendue.

- 6- D'après le document 2, déterminer quel mécanisme contribue à la diminution de la température ambiante et expliquer l'emplacement des îlots de fraîcheur à Paris. Justifier la réponse.



Document 1 – Albédo et évolution de la température de surface de cinq revêtements parisiens

Une série de mesures ont été menées en laboratoire sur différents revêtements de sol typiques rencontrés à Paris.

Échantillon	Chaussée Classique	Trottoir asphalte	Stabilisé	Trottoir granite	Gazon
Albédo	0,098	0,155	0,369	0,313	0,25 – 0,30

Figure A – Tableau de mesure d'albédo de quelques surfaces

La chaussée classique est constituée en surface de Béton bitumineux de couleur gris foncé.

Le trottoir asphalte est un matériau de couleur noir, étanche et facile à poser.

Le stabilisé est un béton clair.

Le trottoir granite est constitué de dalles de granite, roche de couleur gris clair.

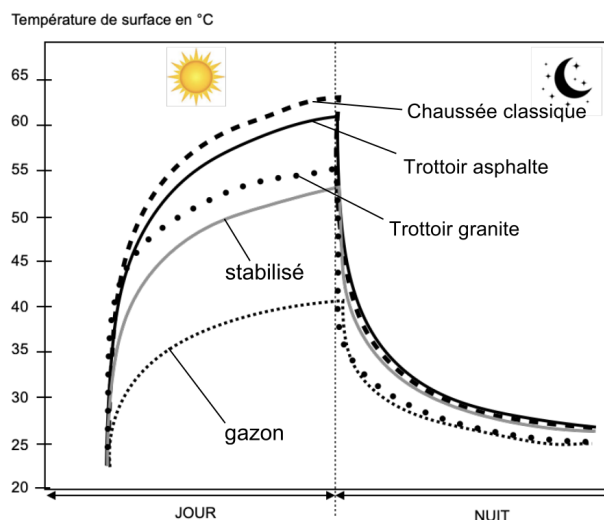


Figure B – Graphique de mesure de températures de surface selon les surfaces

Source : <https://www.apur.org> (influence climatique des revêtements de sol à Paris)

Document 2 – Rôle des arbres dans la température de l'air ambiant

Les îlots de fraîcheur sont des endroits où la température de l'air ambiant est moins importante en période de chaleur comparée à l'environnement proche.

Les îlots de fraîcheur apparaissent en gris foncé sur cette carte de Paris.

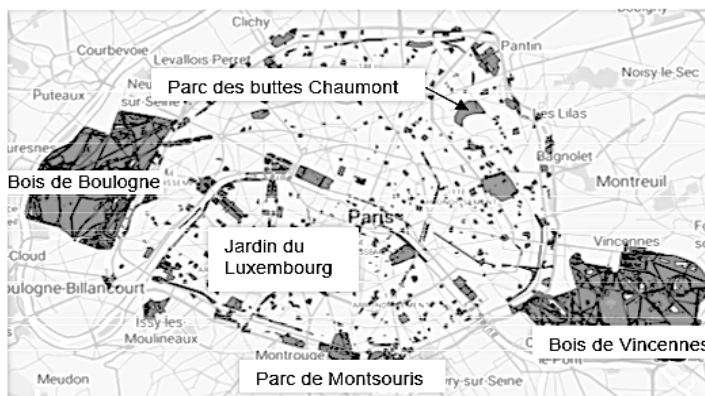


Figure C – Plan de localisation des îlots de fraîcheur dans Paris

Source : <https://opendata.paris.fr/.../dataset/ilots-de-fraicheur-espaces-verts-frais>

Une part de l'énergie solaire est captée par le végétal dans le processus de la photosynthèse. L'eau contenue dans le sol est alors consommée et transpirée par la plante sous forme de vapeur d'eau dans l'atmosphère : c'est l'évapotranspiration.

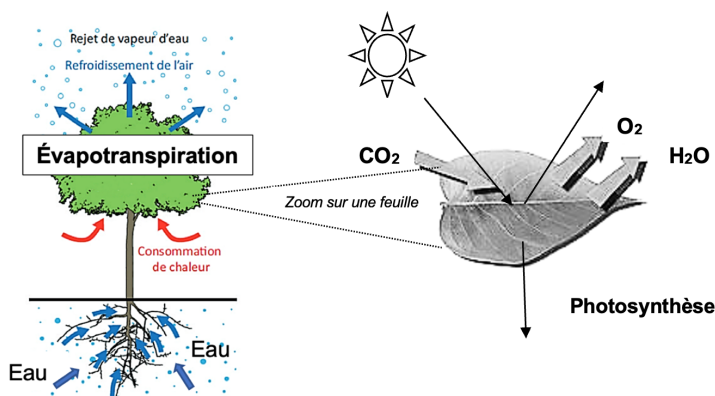


Figure D – Photosynthèse et évapotranspiration

Source : <https://www.apur.org> (influence climatique des revêtements de sol à Paris)

Modèle CCYC : ©DNE

Nom de famille (naissance) :


(Suivi s'il y a lieu, du nom d'usage)

Prénom(s) :

N° candidat : N° d'inscription :

(Les numéros figurent sur la convocation.)

Né(e) le : / /



1.1

Dans les rues étroites de certaines villes il n'est pas toujours possible de planter des arbres. D'autres moyens sont alors mis en place : des parapluies multicolores ont été réinstallés pour les trois mois d'été dans les vieilles rues du centre piétonnier d'Aurillac, une commune du Cantal (voir photo ci-contre).



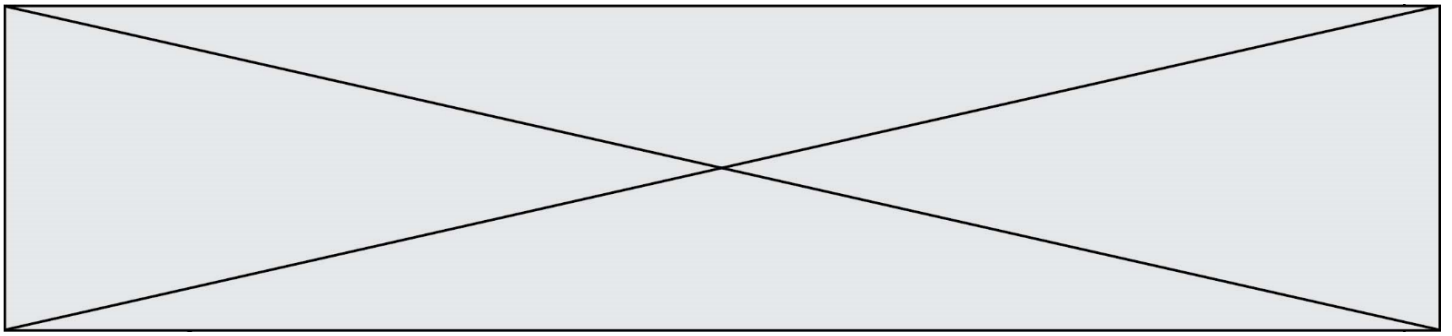
Source : La Montagne

Document 3 – Tableau indiquant l'albédo des parapluies en fonction de la couleur

Couleur des toiles des parapluies	Bleu	Rouge	Vert	Jaune	Violet
Albédo	0,19	0,22	0,28	0,33	0,15

Source : Auteur

- 7- D'un point de vue énergie, expliquer l'intérêt en dehors de l'aspect décoratif, de ce type d'installation dans les rues piétonnes pendant l'été.
- 8- Indiquer les couleurs de toile à privilégier. Justifier la réponse.



Document réponse à rendre avec la copie

Exercice 3 – Question 1

Annexe : le schéma suivant représente le bilan radiatif d'une surface éclairée

