

Modèle CCYC : ©DNE

Nom de famille (naissance) :  
(Suivi s'il y a lieu, du nom d'usage)

--	--	--	--	--	--	--	--	--	--	--	--	--	--	--	--	--	--	--	--	--

Prénom(s) :

--	--	--	--	--	--	--	--	--	--	--	--	--	--	--	--	--	--	--	--	--

N° candidat :

--	--	--	--	--	--	--	--	--	--	--	--	--	--	--	--	--

N° d'inscription :

--	--	--	--



Né(e) le :

(Les numéros figurent sur la convocation.)

		/			/				
--	--	---	--	--	---	--	--	--	--

1.1

## ÉVALUATION

**CLASSE** : Première

**VOIE** :  Générale  Technologique  Toutes voies (LV)

**ENSEIGNEMENT** : Enseignement scientifique  
sans enseignement de mathématiques spécifique

**DURÉE DE L'ÉPREUVE** : 2 h

Niveaux visés (LV) : ∅

Axes de programme : ∅

**CALCULATRICE AUTORISÉE** :  Oui  Non

**DICTIONNAIRE AUTORISÉ** :  Oui  Non

Ce sujet contient des parties à rendre par le candidat avec sa copie. De ce fait, il ne peut être dupliqué et doit être imprimé pour chaque candidat afin d'assurer ensuite sa bonne numérisation.

Ce sujet intègre des éléments en couleur. S'il est choisi par l'équipe pédagogique, il est nécessaire que chaque élève dispose d'une impression en couleur.

Ce sujet contient des pièces jointes de type audio ou vidéo qu'il faudra télécharger et jouer le jour de l'épreuve.

**Nombre total de pages** : 15

**Le candidat traite seulement deux exercices, de son choix,**  
**parmi les trois qui sont proposés dans ce sujet.**

**Il indique son choix en début de copie.**



## Exercice 1 – Niveau première

Thème « Une longue histoire de la matière »

### L'or : exploitation et conséquences sanitaires

Sur 10 points

L'objectif de cet exercice est d'étudier la structure cristalline de l'or puis de comprendre en quoi l'exploitation de l'or peut favoriser le développement de troubles neurologiques dans les populations humaines.

#### Partie 1 – La structure d'un minerai aurifère

La région d'Ontario au Canada présente de nombreuses mines et notamment des mines d'or, dont la mine Red Lake. C'est de cette mine qu'a été extrait le minerai ci-dessous. Ce minerai est un basalte tholéiitique métamorphisé, dans lequel sont inclus du quartz et de l'or.

D'après [https://en.wikipedia.org/wiki/Red\\_Lake\\_Mine](https://en.wikipedia.org/wiki/Red_Lake_Mine)

**Document 1 – Morceau de minerai extrait dans la mine Red Lake (6,6 cm pour son diamètre le plus large) et modélisation de sa composition**

The diagram illustrates the composition and structure of a mineral sample. It features a central photograph of a mineral specimen (C) with a diameter of 6 cm, containing quartz and gold. Surrounding this are several detailed views:

- A:** A quartz crystal with a diameter of 13 cm and a lattice spacing of 540 pm.
- B:** A gold crystal with a lattice spacing of 407 pm.
- C:** The main mineral specimen, 6 cm in diameter, containing quartz and gold.
- D:** A microscopic view of the mineral grain.
- E:** A microscopic view of the basalite matrix with a scale bar of 1,5 mm.
- F:** A microscopic view of the mineral grain.

Sources : d'après Wikipedia.org, Libmol.org et <http://www.macromicrophoto.fr/petrography>

Modèle CCYC : ©DNE

Nom de famille (naissance) :


(Suivi s'il y a lieu, du nom d'usage)

Prénom(s) :

N° candidat :  N° d'inscription :

(Les numéros figurent sur la convocation.)

Né(e) le :  /  /



1.1

1- En vous aidant des propositions ci-dessous et en effectuant un choix, associer la légende adéquate à chacune des lettres A, B, C et D du document 1.

- maille
- atome
- cristal
- molécule
- cellule
- roche

2- Dans ce minerai, identifier la ou les parties cristallines et la ou les parties amorphes parmi les éléments A à F. Justifiez votre réponse à l'aide du document 1 et de vos connaissances.

3- Pour séparer l'or des autres éléments après broyage on peut utiliser leur différence de masse volumique. À l'aide du tableau ci-dessous, justifier qu'une fois en poudre, l'or peut être séparé du quartz. On rappelle la formule permettant de calculer la masse volumique  $\rho$  à partir de la masse  $m$  et du volume  $V$  de l'échantillon :

$$\rho = \frac{m}{V}$$

**Document 2 - Les mailles du quartz et de l'or**

	Quartz	Or
Formule	SiO <sub>2</sub>	Au
Forme de la maille	Hexagonale	Cubique
Masse de la maille	3,0. 10 <sup>-25</sup> kg	1,3. 10 <sup>-24</sup> kg
Volume de la maille	1,3. 10 <sup>-28</sup> m <sup>3</sup>	6,7. 10 <sup>-29</sup> m <sup>3</sup>



## Partie 2 – Conséquences sanitaires de l'exploitation d'or

L'extraction de l'or nécessite d'utiliser de grandes quantités de cyanure et de mercure. Chez les adultes, les effets d'une exposition importante au mercure se remarquent par des symptômes affectant le système nerveux : des tremblements et des pertes de capacités sensorielles, avec notamment la perte de coordination entre les cellules musculaires et nerveuses, des troubles de la mémoire, et des déficiences intellectuelles. Le mercure est considéré par l'Organisation Mondiale de la Santé (OMS) comme l'un des dix produits chimiques ou groupes de produits chimiques extrêmement préoccupants pour la santé publique.

### Document 3 – Les effets du méthylmercure sur les êtres vivants

Le cyanure et le mercure, utilisés sans précaution pour l'extraction de l'or, contaminent les sols et les nappes phréatiques à jamais. Même après la fermeture des mines, les gravats traités au cyanure génèrent pendant des décennies des acides sulfuriques toxiques.

Le mercure peut se transformer dans l'environnement en méthylmercure. Ce méthylmercure tend à s'accumuler dans les eaux et dans les espèces aquatiques. [...]

Le méthylmercure a la capacité de provoquer une réaction chimique dégradant les [molécules de] phospholipides qui constituent la membrane plasmique. Le méthylmercure peut pénétrer dans la cellule à travers ces membranes et peut se fixer sur certains organites notamment les mitochondries, et sur des protéines cytoplasmiques, dont le fonctionnement est alors altéré. Les cellules nerveuses sont particulièrement touchées.

*Source : D'après Segall H.J., Wood J.M.(1974). Reaction of methyl mercury with plasmalogens suggests a mechanism for neurotoxicity of metal-alkyls. Nature, 248 : 456-8*

#### Document 4 – Suivi microscopique de la croissance de cellules nerveuses dans différentes conditions (sans et avec exposition au méthylmercure)



La même cellule nerveuse est suivie, dans différentes conditions environnementales.

a – Avant exposition au méthylmercure.



b– Après une exposition de 10 minutes au méthylmercure.

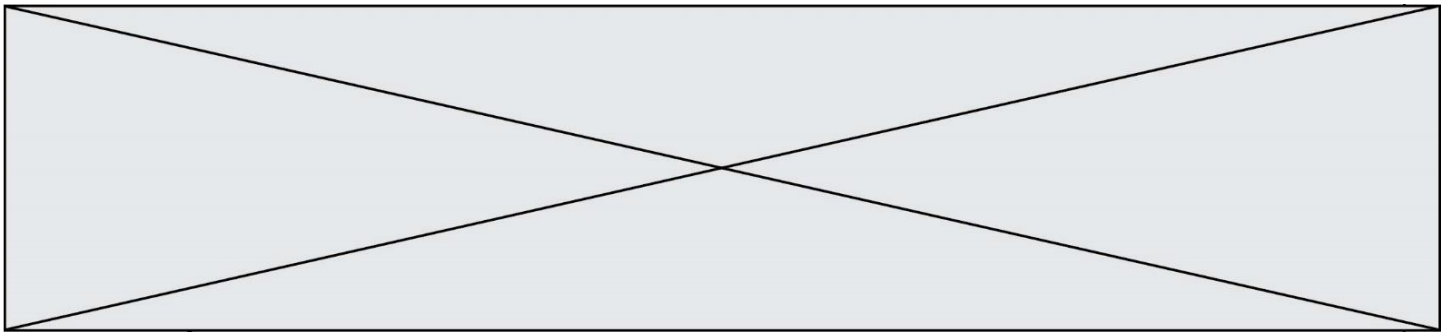


c – Après une exposition de 40 minutes au méthylmercure.

La barre d'échelle visible en bas à droite des photographies mesure 30 µm.

La flèche noire permet de comparer un même point sur chaque image.

Source : D'après *Retrograde degeneration of neurite [...] in vitro exposure to mercury*, Christopher C. W., Leong et al. – *NeuroReport* – Décembre 2000



**4-** À partir de l'exploitation des documents et de vos connaissances :

**4-a-** Sur votre copie, indiquer dans la liste ci-dessous le ou les éléments des différentes échelles de l'organisme qui sont altérées par le méthylmercure. Justifier.

- a. atome
- b. molécule
- c. organite
- d. cellule
- e. organisme

**4-b-** Rappeler le rôle de la membrane plasmique dans le fonctionnement cellulaire normal, puis expliquer comment le méthylmercure le modifie et provoque les symptômes nerveux présentés par les individus fortement exposés au mercure. Une réponse argumentée structurée est attendue. Elle ne doit pas excéder une page.

Modèle CCYC : ©DNE

Nom de famille (naissance) :  
(Suivi s'il y a lieu, du nom d'usage)

--	--	--	--	--	--	--	--	--	--	--	--	--	--	--	--	--	--	--	--	--

Prénom(s) :

--	--	--	--	--	--	--	--	--	--	--	--	--	--	--	--	--	--	--	--	--

N° candidat :

--	--	--	--	--	--	--	--	--	--

N° d'inscription :

--	--	--

(Les numéros figurent sur la convocation.)

Né(e) le :

		/			/				
--	--	---	--	--	---	--	--	--	--



1.1

## Exercice 2 – Niveau première

Thème « Son, musique et audition »

### Prévenir et traiter la perte auditive

Sur 10 points

« L'OMS estime que d'ici 2050, près de 2,5 milliards de personnes vivront avec un certain degré de perte auditive, dont au moins 700 millions auront besoin de services de réadaptation. L'inaction sera coûteuse en termes de santé et de bien-être des personnes touchées, outre les pertes financières découlant de leur exclusion de la communication, de l'éducation et de l'emploi. [...] investir des efforts et des ressources pour prévenir et traiter la perte auditive est justifié. »

Extrait du Rapport mondial sur l'audition de l'OMS, 2021

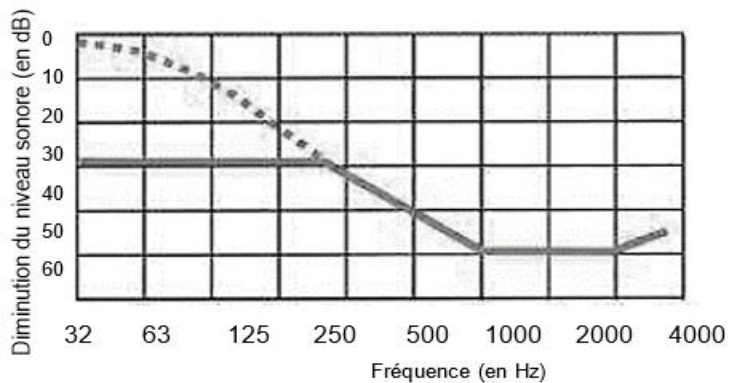
On cherche à comprendre comment les progrès de la science permettent de protéger l'audition, de la maintenir voire de la restaurer.

#### Document 1 – Des bouchons d'oreilles pour protéger l'audition

Le niveau d'intensité sonore L s'exprime en décibel et se calcule par la relation :  $L = 10 \log(\frac{I}{I_0})$  avec L le niveau d'intensité sonore (en dB), I l'intensité sonore (en  $W \cdot m^{-2}$ ) et  $I_0$  l'intensité sonore minimale  $I_0 = 1,0 \times 10^{-12} W \cdot m^{-2}$ .

L'audition est protégée pour des intensités sonores inférieures ou égales à 85 dB. Au-delà de 85 décibels, il est recommandé d'utiliser des bouchons d'oreilles.

Le graphique ci-après montre l'effet du port de bouchons d'oreilles.




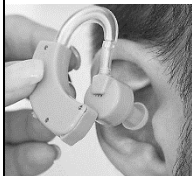
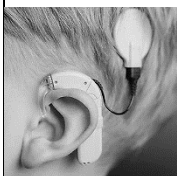
Pointillés : bouchons d'oreilles mal insérés  
Trait continu : bouchons d'oreilles bien insérés

Source : d'après <https://bruit.fr>



## Document 2 – Quelques exemples d'aides auditives

Le cornet acoustique, l'appareil auditif et l'implant cochléaire sont des aides auditives qui permettent de pallier certains dysfonctionnements de l'oreille empêchant d'entendre les sons.

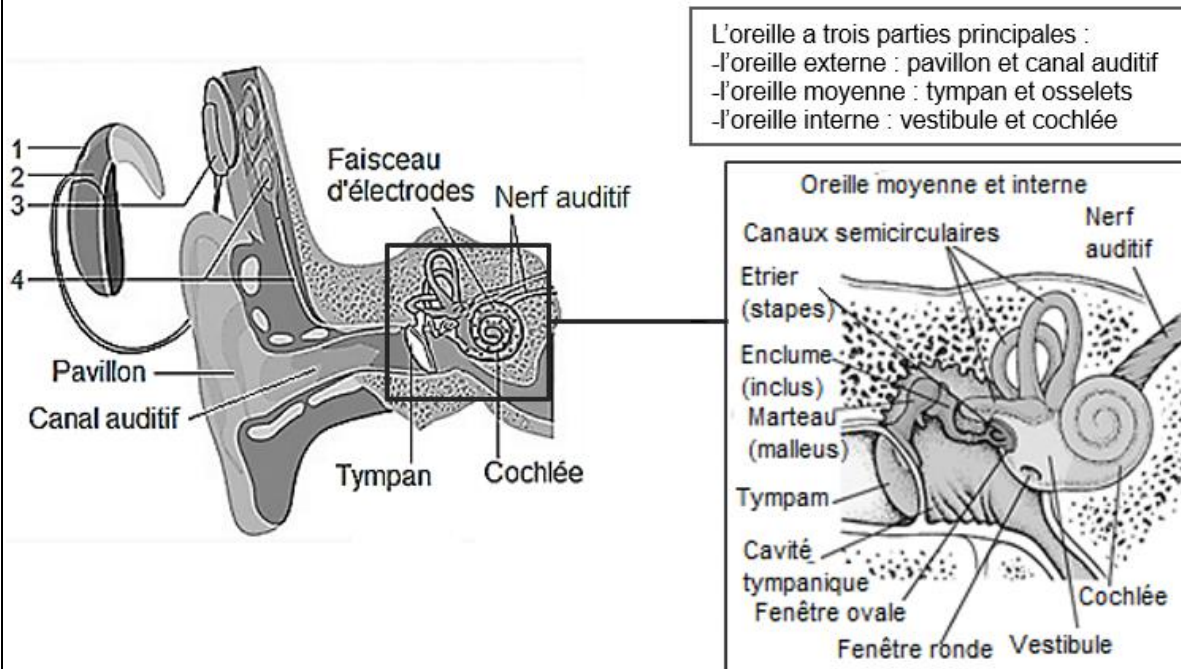
Aides auditives	Photo	Type	Principe de fonctionnement
Le cornet acoustique		Mobile	Fait parvenir l'intégralité des ondes sonores à l'oreille pour augmenter l'intensité du son reçu.
L'appareil auditif		Mobile	Capte les ondes sonores et les amplifie dans le canal auditif au moyen d'un petit circuit électrique.
L'implant cochléaire		Fixe	La partie externe de l'implant capte les ondes sonores et les transmet sous forme d'impulsions électriques directement au nerf auditif par l'intermédiaire d'électrodes implantées dans la cochlée.

Source : d'après [www.futura-sciences.com](http://www.futura-sciences.com) et [www.chu-poitiers.fr](http://www.chu-poitiers.fr) et [www.blog-audioprothesiste.fr](http://www.blog-audioprothesiste.fr)



### Document 3 – Anatomie de l'oreille et détail du fonctionnement de l'implant cochléaire

L'implant cochléaire est une aide auditive interne et externe. L'élément interne est constitué d'un stimulateur électronique et d'un faisceau d'électrodes. Le stimulateur est placé sous la peau et le faisceau est inséré dans la cochlée au cours d'une intervention chirurgicale.



La partie externe est composée d'un microphone, d'un processeur vocal et d'une antenne. Cette partie est posée sur l'oreille et le cuir chevelu.

1. Les sons sont captés par un microphone et transmis au processeur vocal.
2. Le processeur vocal convertit les sons en un code.
3. L'antenne envoie le code au récepteur sous forme d'ondes radioélectriques.
4. Le récepteur décode les ondes reçues et envoie des impulsions électriques au faisceau d'électrodes implanté dans la cochlée.
5. Les électrodes stimulent directement le nerf auditif.

Source : d'après [www.msmanuals.com](http://www.msmanuals.com) et [www.curic.ch](http://www.curic.ch)



### **Partie 1 – Protéger son audition**

- 1- Sachant qu'un spectateur situé à 5 m de la piste est soumis à un niveau d'intensité sonore  $L = 120$  dB, indiquer, parmi les propositions suivantes, à quelle distance doit se trouver le spectateur pour n'être soumis qu'à une intensité sonore  $L' = 105$  dB. Justifier (on n'attend aucun calcul).

Proposition 1 : à 1 m

Proposition 2 : à 30 m

Proposition 3 : la distance n'a pas d'importance

- 2- Les organisateurs de la compétition recommandent aux spectateurs de ne pas se tenir trop près des pistes, de porter des bouchons d'oreilles bien insérés et de faire des pauses auditives régulières. Justifier ces différents conseils.

### **Partie 2 – Restaurer l'audition**

- 3- Les aides auditives évoquées dans le document 2 permettent de corriger le dysfonctionnement d'une partie de l'oreille (externe, moyenne ou interne). Nommer en justifiant la partie dysfonctionnelle de l'oreille concernée par chacune des aides auditives.
- 4- À partir des connaissances et des documents, expliquer comment l'évolution de la connaissance de l'audition a permis de mettre au point l'implant cochléaire.

Modèle CCYC : ©DNE

Nom de famille (naissance) :


(Suivi s'il y a lieu, du nom d'usage)

Prénom(s) :

N° candidat :  N° d'inscription :

(Les numéros figurent sur la convocation.)

Né(e) le :  /  /


 Liberté • Égalité • Fraternité  
 RÉPUBLIQUE FRANÇAISE

1.1

## Exercice 3 – Niveau première

Thème « La Terre, un astre singulier »

### Zone d'habitabilité

Sur 10 points

On définit la zone d'habitabilité comme étant la région des orbites des planètes ou des exoplanètes pouvant présenter de l'eau à l'état liquide. Cette définition a été revue avec la découverte par la sonde Galileo de sérieux indices de l'existence d'océans à l'intérieur de certains satellites naturels de Jupiter, notamment Europe.

### Partie 1 – La zone d'habitabilité du système solaire

#### Document 1 – Quelques caractéristiques des planètes du système solaire

	Mercure	Venus	Terre	Mars
<b>Distance au Soleil (en millions de km)</b>	58	108	150	228
<b>Température de surface théorique (°C)</b>	+168	+22,9	-18,5	-69
<b>Température de surface réelle moyenne (°C)</b>	+167	+464	+15	-67
<b>Température minimale à Température maximale (°C)</b>	-180 à +430	+446 à +490	-50 à +50	-143 à +20

La température moyenne de surface théorique correspond à la température, calculée par les astrophysiciens, qui régnerait à la surface d'une planète si celle-ci était totalement dépourvue d'atmosphère.

- 1- À l'aide du document 1, en se basant uniquement sur la température de surface théorique et en considérant que la pression atmosphérique est semblable à celle de la Terre, citer la ou les planètes qui pourraient posséder de l'eau liquide en surface. Justifier.
- 2- Calculer l'écart entre la température de surface réelle moyenne et la température de surface théorique, en valeur absolue, pour les 4 planètes du tableau.



### Document 2 – Quelques caractéristiques des planètes du système solaire

	<b>Mercure</b>	<b>Venus</b>	<b>Terre</b>	<b>Mars</b>
<b>Pression atmosphérique de surface (bar ou mbar)</b>	0,1 mbar	93 bar	1 bar	6 mbar
<b>Épaisseur de l'atmosphère (km)</b>	quasi nulle	350	500	100
<b>Composition de l'atmosphère (Les gaz en gras sont des gaz à effet de serre)</b>	He (traces)	<b>CO<sub>2</sub></b> (96%), N <sub>2</sub> (3,5%), O <sub>2</sub> (0,13%) <b>H<sub>2</sub>O</b> (0,002%)	N <sub>2</sub> (78%), O <sub>2</sub> (20,9%), <b>CO<sub>2</sub></b> (0,04%), <b>H<sub>2</sub>O</b> (faible, variable)	<b>CO<sub>2</sub></b> (95%), N <sub>2</sub> (2,7%), O <sub>2</sub> (0,13%) <b>H<sub>2</sub>O</b> (0,03%)

3- À l'aide du document 2 et de vos connaissances, nommer et expliquer le phénomène à l'origine de la différence entre température réelle et température théorique sur la Terre et sur Vénus.

4- Expliquer pourquoi le phénomène nommé à la question 3 est actuellement négligeable sur Mercure et sur Mars.

### Partie 2 – Europe, un satellite naturel habitable au sein du système solaire ?

#### Document 3 – Extrait d'un communiqué du CNRS

Pour un grand nombre de scientifiques, dans le système solaire, c'est sur Europe que la probabilité de trouver de la vie est la plus élevée. Sur les images fournies par les sondes spatiales Galileo (2014) et Juno (2022), on aperçoit sur la surface glacée, un réseau de fissures qui sont vraisemblablement des résurgences d'eau, comme on en trouve en Arctique. Des geysers jaillissent de temps à temps. [...] Ne peut-on espérer trouver, sous la surface, des écosystèmes comme ceux des sources hydrothermales de nos océans, qui s'avèrent grouiller de vie malgré des conditions inhospitalières ?

Source : d'après <https://www.insu.cnrs.fr/fr/cnrsinfo/trouver-la-vie-sur-les-lunes-de-jupiter>

Modèle CCYC : ©DNE

Nom de famille (naissance) :

(Suivi s'il y a lieu, du nom d'usage)

Prénom(s) :

N° candidat :

N° d'inscription :



Liberté • Égalité • Fraternité  
RÉPUBLIQUE FRANÇAISE

Né(e) le :

(Les numéros figurent sur la convocation.)

1.1

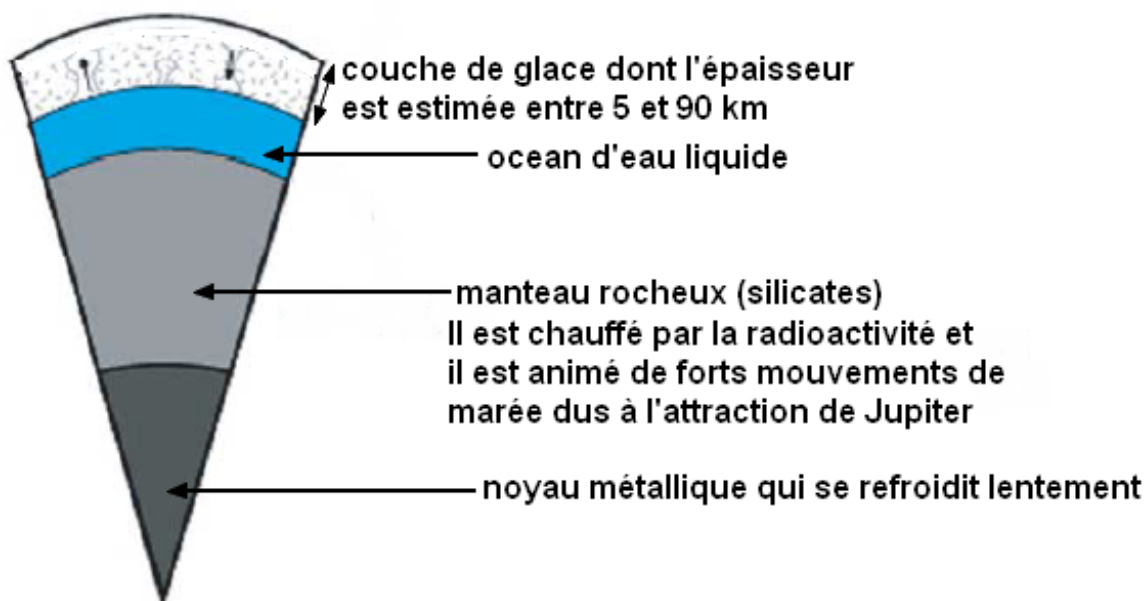
#### Document 4 – Quelques caractéristiques physico-chimiques d'Europe comparée à la Terre

	Europe	Terre
Température de surface	-150°C	+15°C
Pression atmosphérique (Bar)	$10^{-11}$	1
Composition atmosphère	O <sub>2</sub> (produit par dissociation des molécules d'eau).	79% N <sub>2</sub> , 20% O <sub>2</sub> , Ar, CO <sub>2</sub> , ...

Source : 5 janvier 2023, <https://www.insu.cnrs.fr/fr/cnrsinfo/trouver-la-vie-sur-les-lunes-de-jupiter>

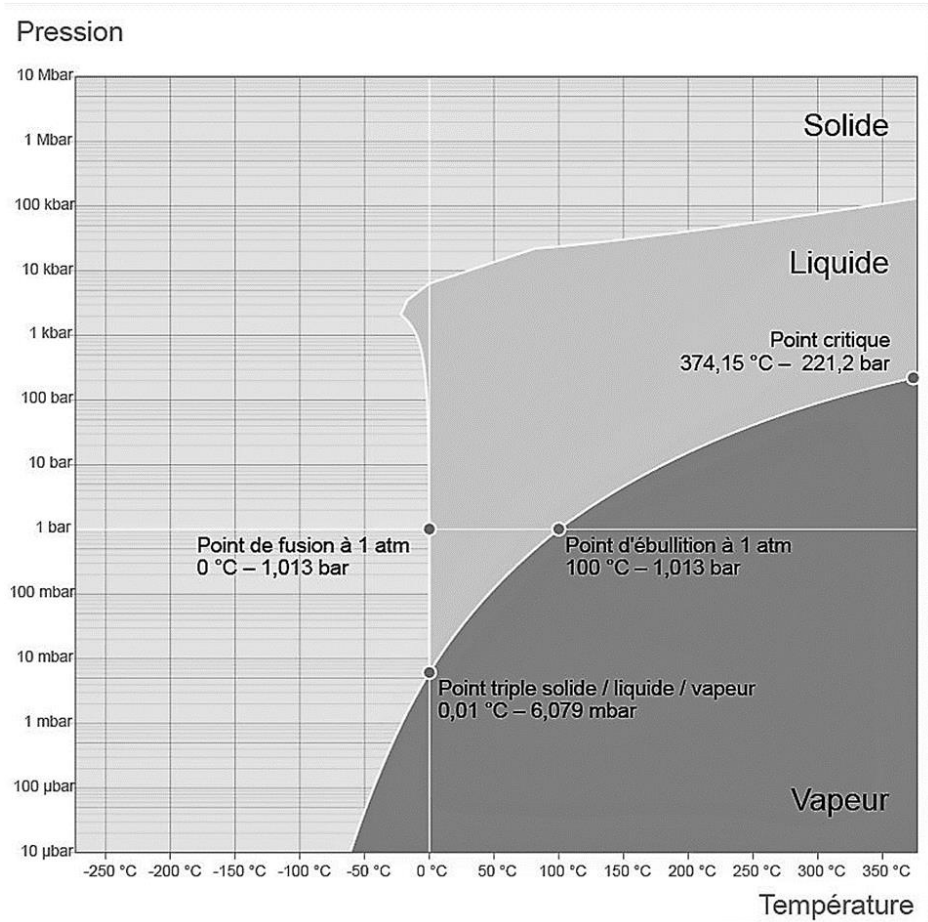
#### Document 5 – Un modèle de la structure interne d'Europe, satellite de Jupiter

Les échelles ne sont pas respectées pour la représentation schématique suivante :





## Document 6 – Diagramme de phase de l'eau



Source : d'après Wikipedia, *Eau liquide dans l'Univers*

- 5- En prenant appui sur les documents 3, 4 et 6 indiquer deux arguments qui permettent de supposer que l'eau est présente sous forme solide à la surface d'Europe comme indiquée dans le document 5.
- 6- Relever dans les documents 4 et 5, un argument en faveur de l'existence d'un océan d'eau liquide sous la banquise d'Europe.

Modèle CCYC : ©DNE

Nom de famille (naissance) :

(Suivi s'il y a lieu, du nom d'usage)

Prénom(s) :

N° candidat :  N° d'inscription :

(Les numéros figurent sur la convocation.)

Né(e) le :  /  /



1.1

### Partie 3 – La recherche d'exoplanètes habitables

Une exoplanète est une planète gravitant autour d'une autre étoile que le Soleil.

- 7- En utilisant les réponses apportées dans les parties 1 et 2 ou avec vos connaissances, expliquer en quoi la distance d'une exoplanète à son étoile ne suffit pas à affirmer la présence d'eau liquide à sa surface.

#### Document 7 – Extrait d'un communiqué du CNRS du 6 septembre 2022

James Webb : Premières images d'une exoplanète dans l'infrarouge moyen

Lancé le 25 décembre 2021, [le télescope] James Webb a terminé sa phase de tests en Juillet 2022. Les programmes scientifiques ont depuis débuté et produisent déjà leurs premiers résultats, dont la première image d'une exoplanète obtenue dans l'infrarouge moyen [...]. Les instruments du James Webb rendent désormais possible son observation directe dans l'infrarouge. [...] Entre autres, les coronographes de MIRI, [...] fonctionnent à des longueurs d'ondes choisies spécialement pour sonder l'atmosphère des exoplanètes, identifier des molécules comme l'ammoniac ou le dioxyde de carbone et déterminer la température de surface réelle des exoplanètes.

Source : <https://www.insu.cnrs.fr/fr/cnrsinfo/james-webb-premieres-images-dune-exoplanete-dans-linfrarouge-moyen>

- 8- À l'aide du document 7, expliquer en quoi le télescope James Webb pourrait permettre de mieux identifier les exoplanètes susceptibles d'abriter de l'eau liquide.