





## Exercice 1 – Niveau première

Thème « Une longue histoire de la matière »

### L'utilisation de la radioactivité en médecine

Sur 10 points

La radioactivité peut avoir des conséquences néfastes pour l'organisme, mais elle est également un moyen extraordinaire d'explorer le corps humain. Aujourd'hui, elle est notamment utilisée en médecine dans la détection et le traitement de certaines maladies telles que les cancers.

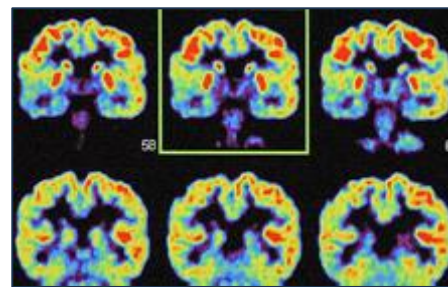


Figure 1 – Un exemple d'imagerie médicale utilisant la radioactivité

Source : Grosjean/CEA

#### Partie 1 – La radioactivité

L'atome d'hélium 6 est radioactif et peut se désintégrer en un atome de lithium 6 selon un processus de type  $\beta^-$  (bêta moins) comme illustré dans le document 1.

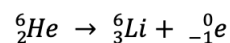
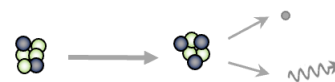
##### Document 1 – Désintégration de l'hélium 6

Notation symbolique d'un noyau  ${}^A_ZX$

**A** : nombre total de nucléons (protons et neutrons)

**Z** : nombre de protons

**X** : symbole de l'atome



● proton ○ neutron • électron  
wavy arrow rayonnement gamma

- 1- À partir des connaissances et des données du document 1, expliquer rapidement ce qu'est un atome radioactif.
- 2- Les désintégrations radioactives sont qualifiées d'aléatoires. Expliquer ce que cela signifie.

Modèle CCYC : ©DNE

Nom de famille (naissance) :

(Suivi s'il y a lieu, du nom d'usage)

Prénom(s) :

N° candidat :

N° d'inscription :



Né(e) le :

(Les numéros figurent sur la convocation.)

1.1

L'iode est un élément chimique de numéro atomique  $Z=53$  et de symbole I. Il possède 37 isotopes connus, mais un seul est stable, l'iode 127.

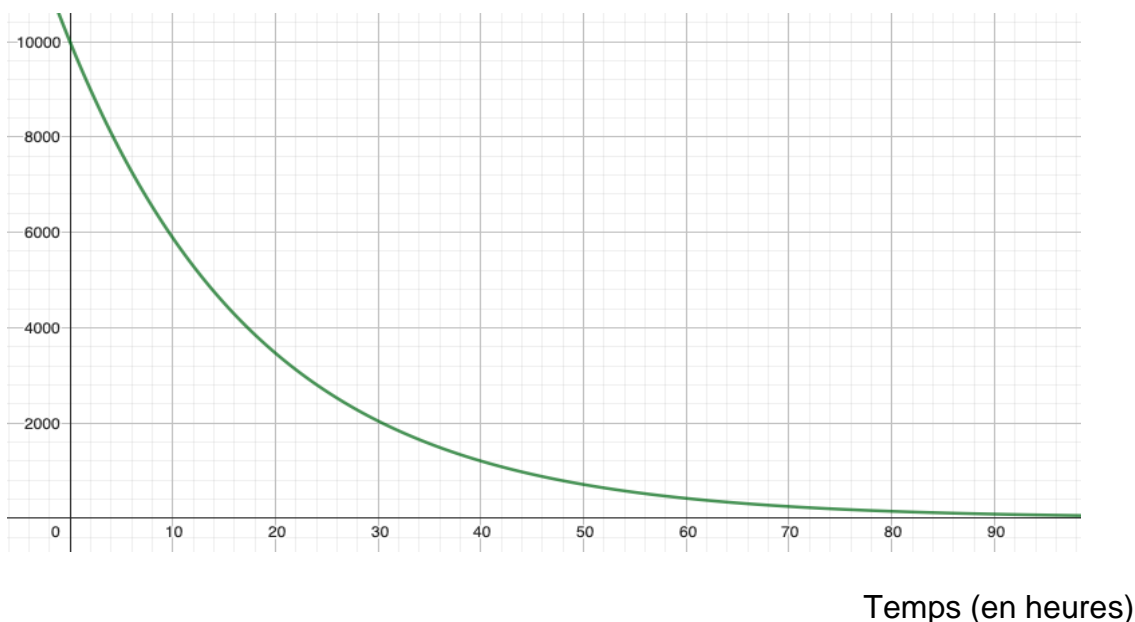
L'iode 123 est radioactif et sa désintégration est de type  $\beta^-$ . Cela signifie qu'un électron est aussi créé au cours de cette désintégration, comme c'est le cas pour l'hélium 6. Les atomes d'iode 123 se désintègrent alors en atomes de Xénon, élément chimique de symbole Xe.

3- En vous appuyant sur l'équation du document 1, proposer une équation pour la désintégration radioactive de l'iode 123.

La courbe du document 2 est une modélisation de la décroissance radioactive de l'iode 123 réalisée à l'aide du logiciel GeoGebra. Elle donne l'évolution d'un grand nombre d'atomes d'iode 123 au cours du temps (10 000 atomes à l'instant initial).

### Document 2 – Évolution du nombre d'atomes d'iode 123

Nombre d'atomes



4- À l'aide des connaissances et du document 2, déterminer la valeur de la demi-vie de l'iode 123 (à l'heure près).

5- Calculer le nombre d'atomes d'iode 123 qui vont rester au bout de trois demi-vies. Justifier rapidement le calcul.



## Partie 2 – Utilisation des isotopes radioactifs en médecine

De nombreuses techniques d'imagerie médicale utilisent des radio-traceurs, c'est-à-dire des composés radioactifs, tels que l'iode 123, pour diagnostiquer certaines pathologies comme des cancers ou des dysfonctionnements d'organes.

Le radio-traceur est choisi en fonction de sa période radioactive : elle doit être suffisamment courte pour qu'elle corresponde à une activité détectable pendant quelques heures.

Il est également choisi pour la nature et l'énergie des rayonnements émis ; les rayonnements étant dangereux, des doses limitées de noyaux radioactifs sont injectées.

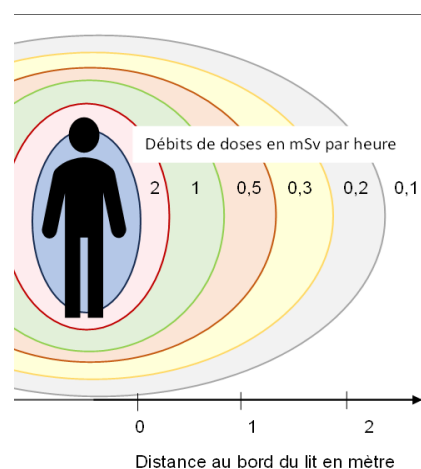
**6-** À l'aide du document 2, justifier que l'iode 123 puisse être utilisé comme radio-traceur en médecine.

Les médecins et personnels hospitaliers travaillant dans les services utilisant la radioactivité sont soumis à des radiations régulières. La radioactivité peut avoir, à forte dose, un effet néfaste sur l'organisme puisqu'elle endommage l'ADN des cellules. Des moyens doivent donc être mis en place pour protéger le personnel.

### Document 3 – Différents éléments liés à la sécurité en milieu médical

L'illustration ci-contre donne les débits approximatifs de doses autour du lit d'un patient qui vient d'être exposé à de l'iode 131.

La loi limite l'exposition du personnel hospitalier à une dose de 20 mSv/an (millisievert/ an). Plus le temps d'exposition est long, plus les personnes seront soumises à une forte dose d'exposition.



Modèle CCYC : ©DNE

Nom de famille (naissance) :

(Suivi s'il y a lieu, du nom d'usage)

Prénom(s) :

N° candidat :

N° d'inscription :



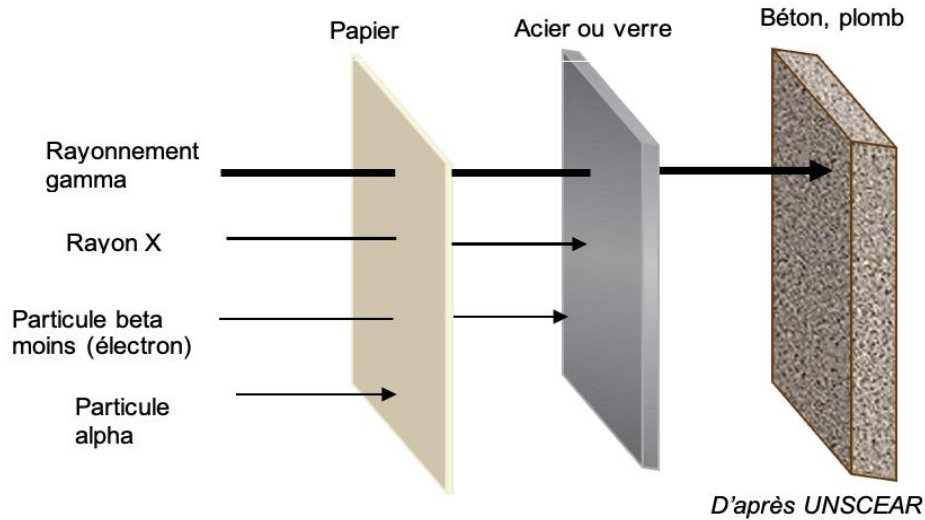
Liberté • Égalité • Fraternité  
RÉPUBLIQUE FRANÇAISE

Né(e) le :

(Les numéros figurent sur la convocation.)

1.1

En matière de protection, des écrans de différentes matières permettent de stopper ou atténuer la propagation des rayonnements ionisants.



- 7- D'après le document 3, détailler trois moyens de limiter l'exposition des personnels aux radiations.
- 8- Dans le cas d'un traitement à l'iode 123, indiquer quels matériaux peuvent être utiles pour protéger le personnel hospitalier des radiations émises. Justifier la réponse.



## Exercice 2 – Niveau première

Thème « Son, musique et audition »

### Concert celtique

Sur 10 points

Un concert de musique rock celtique se déroule dans une salle des fêtes.

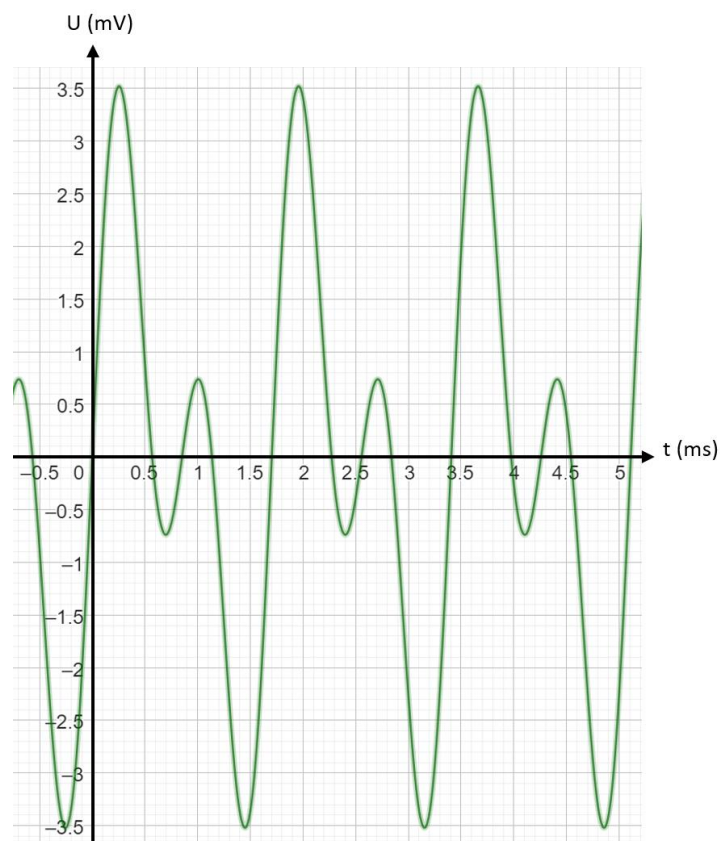
#### Partie 1 – Analyse du son

Lors de ce concert, trois musiciens jouent ensemble sur scène : un guitariste, un bassiste et un violoniste.

Le son de chaque instrument a été enregistré séparément. Les courbes des signaux en tension correspondantes sont données dans le document 1.

#### Document 1 – Enregistrements des sons des différents instruments

Courbe 1 : guitare électrique



Nom de famille (naissance) :

(Suivi s'il y a lieu, du nom d'usage)

Prénom(s) :

N° candidat :

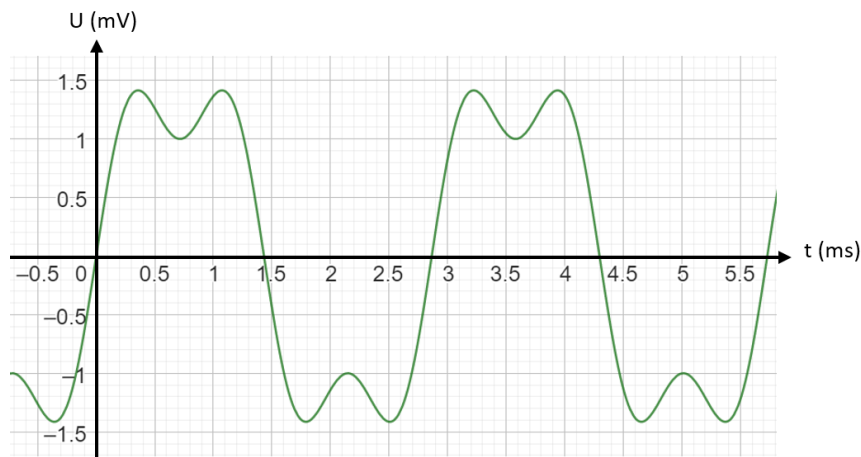
N° d'inscription :



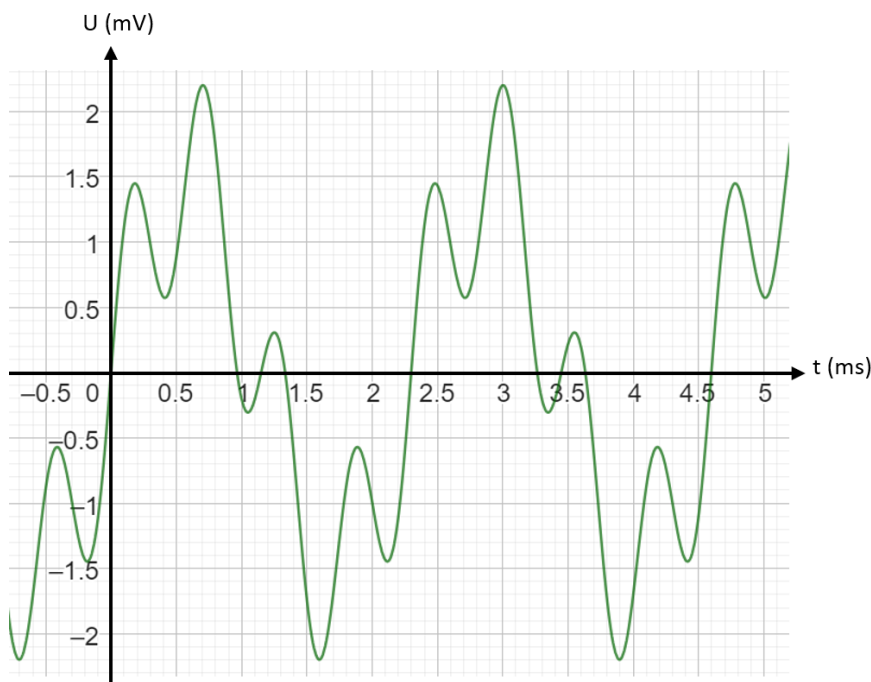
Né(e) le :

(Les numéros figurent sur la convocation.)

Courbe 2 : basse



Courbe 3 : violon



1- À l'aide des enregistrements précédents, indiquer en argumentant si les trois musiciens jouent la même note ou non.

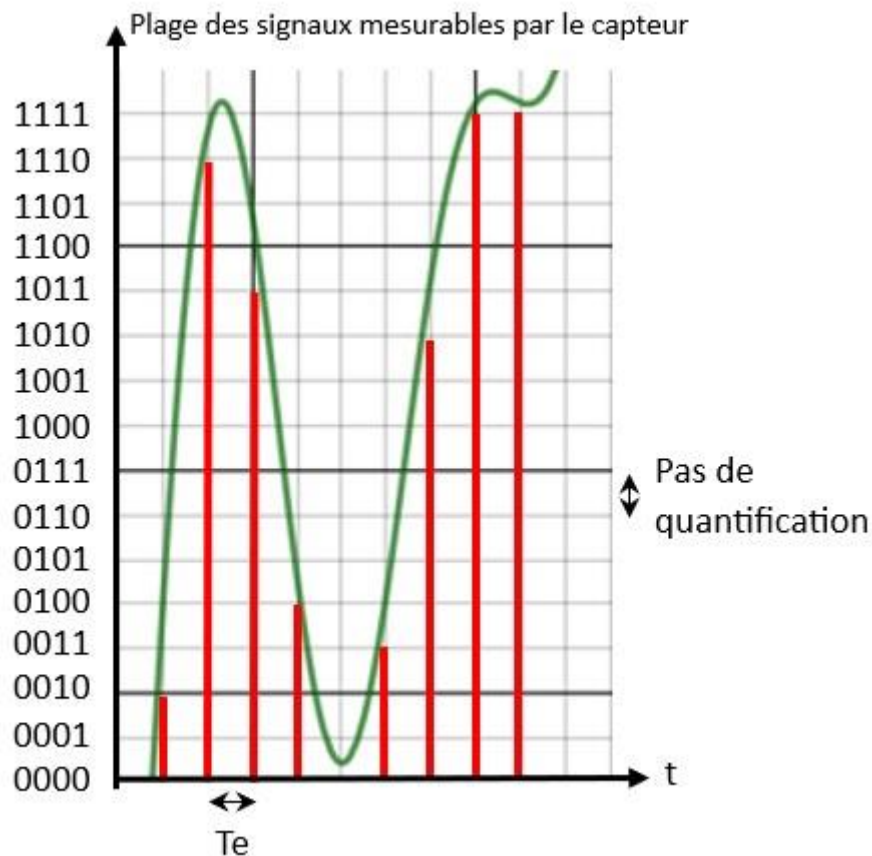


## Partie 2 – Enregistrement du concert

Un des spectateurs décide de réaliser un enregistrement audio d'une partie du concert avec son smartphone. Le stockage interne est quasiment saturé : il lui reste 120 Mo de libres sur sa carte SD de 16 Go.

### Document 2 – Numérisation du son

Courbe de superposition des trois sons et quantification en 4 bits avec  $T_e = 0,02$  ms, soit  $F_e = 50\,000$  Hz



Données : 1 octet = 8 bits ; 1 Mo =  $10^6$  octets ; 1 Go =  $10^9$  octets.

- 2- Justifier avec le document 2 que le smartphone encode à  $200\,000$  bit.s<sup>-1</sup>.
- 3- Calculer la durée d'enregistrement du concert possible sur le smartphone de ce spectateur.



Modèle CCYC : ©DNE

**Nom de famille** (naissance) :

(Suivi s'il y a lieu, du nom d'usage)

**Prénom(s)** :

**N° candidat** :  **N° d'inscription** :

(Les numéros figurent sur la convocation.)

**Né(e) le** :  /  /



RÉPUBLIQUE FRANÇAISE

1.1

On souhaite diviser par quatre la taille prise par cet enregistrement par compression.

- 4- Déterminer le taux de compression nécessaire pour que l'enregistrement ne prenne que la place souhaitée.
- 5- Expliquer pourquoi un fichier audio obtenu avec une technique de compression dite « avec perte d'information » est de nature à permettre une écoute satisfaisante du concert enregistré.

### Partie 3 – Risque sur l'audition

On s'interroge sur les risques encourus en étant souvent exposé à des niveaux sonores élevés.

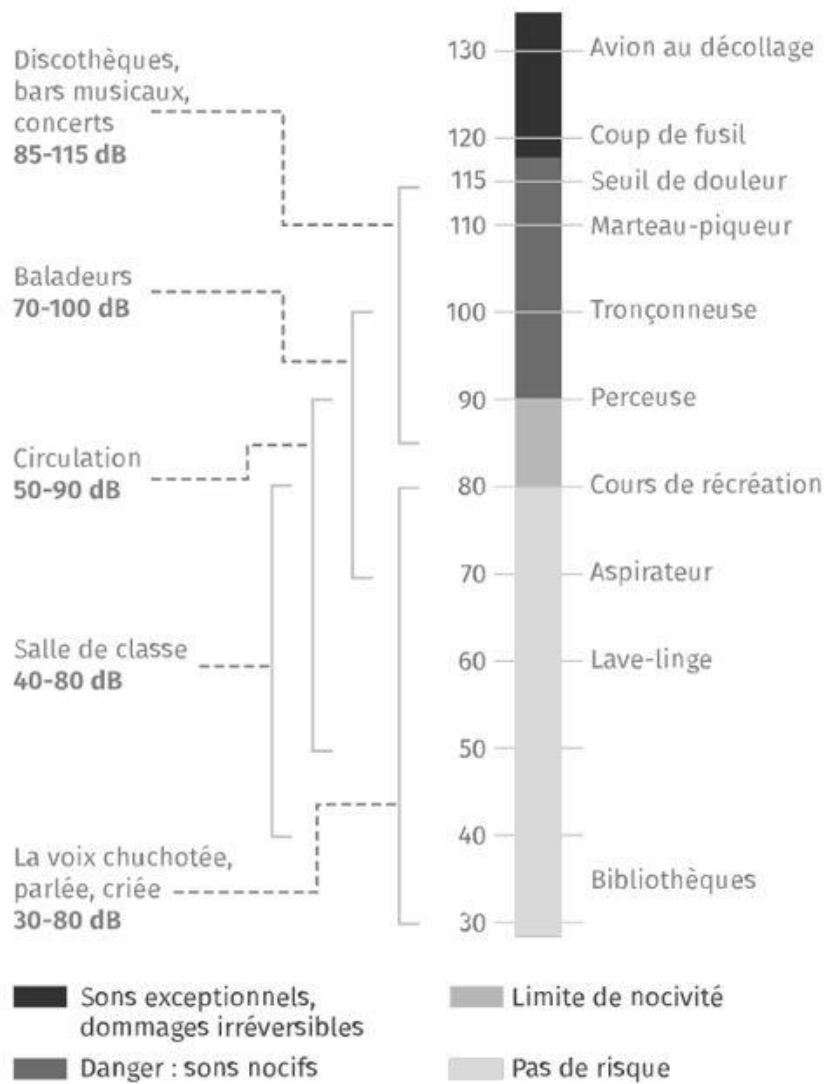
Lors du concert, l'application sonomètre du smartphone affiche une valeur de 102 dB à proximité des enceintes.

On utilisera les documents 3 et 4 qui suivent pour répondre aux questions de cette partie.

- 6- Indiquer s'il existe un risque de perte d'audition en assistant à ce concert. Argumenter votre réponse.
- 7- Préciser les précautions qu'auraient pu prendre les spectateurs pour davantage préserver leur audition.



### Document 3 – Échelle de niveau sonore et risques associés



Source : [lelivrescolaire.fr](http://lelivrescolaire.fr)

Modèle CCYC : ©DNE

Nom de famille (naissance) : (Suivi s'il y a lieu, du nom d'usage)

Grid for last name (19 cells)

Prénom(s) :

Grid for first name (19 cells)

N° candidat :

Grid for candidate number (8 cells)

N° d'inscription :

Grid for registration number (4 cells)




Né(e) le :

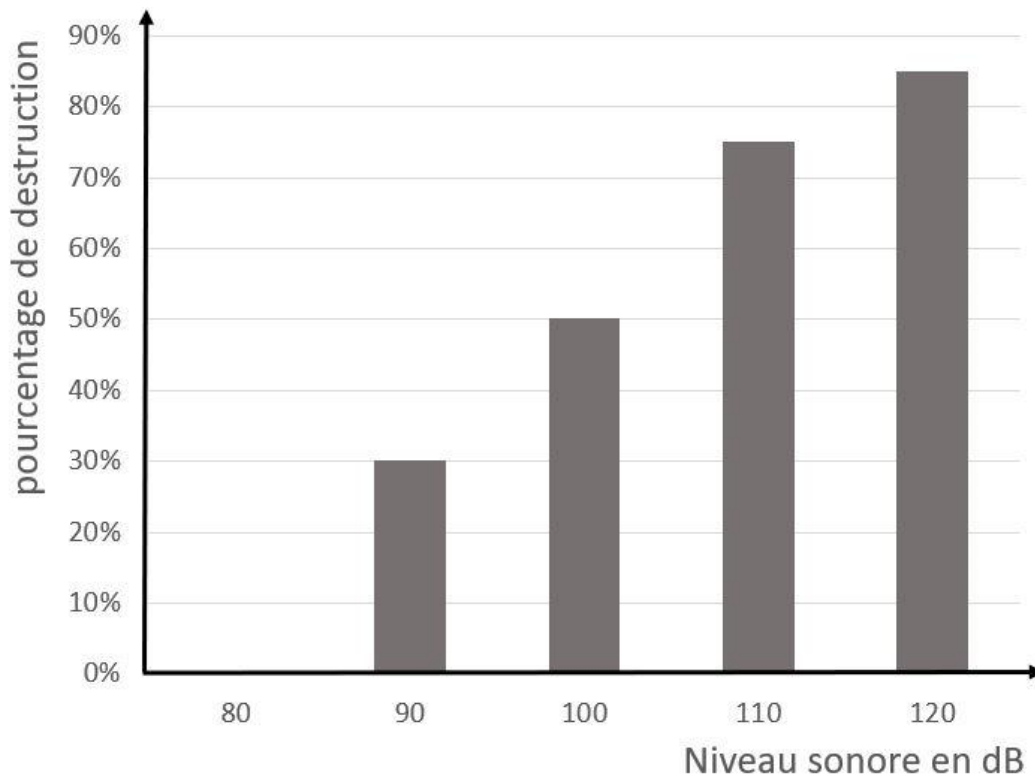
Grid for birth date (10 cells)

(Les numéros figurent sur la convocation.)

Document 4 – Conséquences d’un traumatisme sonore sur l’oreille



Photographies de cellules ciliées de rats, soumises à différents niveaux sonores prolongés, observées au Microscopie Électronique à Balayage.



Évolution du pourcentage de destruction des cils des cellules ciliées en fonction du niveau sonore chez le rat.



Des rats ont été exposés à des bruits semblables à des explosions de niveaux sonores croissants. Leurs cellules ciliées ont ensuite été observées au microscope. Chez l'être humain lorsque les cellules ciliées sont endommagées, elles ne peuvent ni être réparées, ni remplacées. Ces dégâts irréversibles peuvent causer une surdité.

*Source : d'après <https://irem-limoges.canoprof.fr>*

Modèle CCYC : ©DNE

Nom de famille (naissance) :

(Suivi s'il y a lieu, du nom d'usage)

Prénom(s) :

N° candidat :

N° d'inscription :



Né(e) le :

(Les numéros figurent sur la convocation.)

1.1

## Exercice 3 – Niveau première

Thème « La Terre, un astre singulier »

### Mesure de la circonférence de la Terre

Sur 10 points

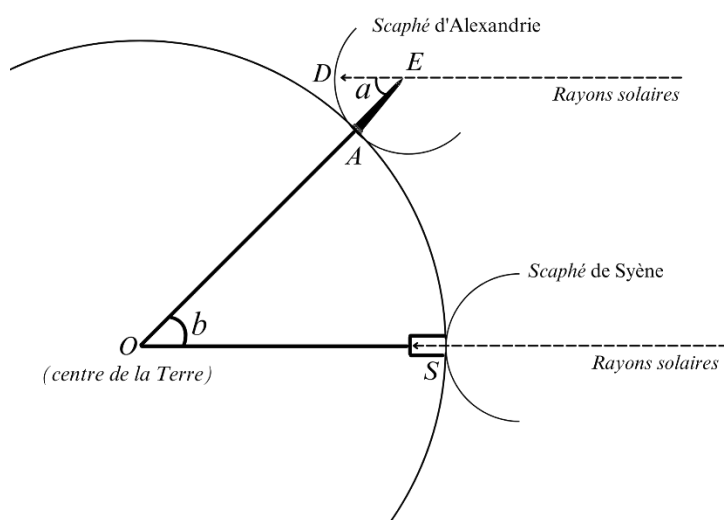
Ératosthène de Cyrène est un astronome, géographe, philosophe et mathématicien grec du III<sup>e</sup> siècle av. J.-C. (né à Cyrène vers 276 av. J.-C. et mort à Alexandrie, en Égypte, vers 194 av. J.-C.). Il est connu pour avoir établi une méthode qui permet d'estimer la mesure de la circonférence de la Terre.

Il avait observé, qu'à midi, lors du solstice d'été, un puits situé à Syène (actuelle Assouan en Égypte) ne projetait aucune ombre, tandis qu'à Alexandrie, plus au nord, au même moment, un obélisque projetait une ombre mesurable.

Les deux villes, situées très proches d'un même méridien, sont à une distance l'une de l'autre estimée à 5 000 stades. (Un stade est une ancienne unité de longueur correspondant à la longueur du stade d'Olympie, soit environ 157,5 mètres).



#### Document 1 – Modélisation de la démarche expérimentale d'Ératosthène



Le scaphé était un ancien instrument de mesure d'angle, de forme circulaire.



## Partie 1 – Mesure de la circonférence de la Terre par la méthode d'Ératosthène

À l'aide d'un scaphé, Ératosthène a mesuré que l'angle  $a$  correspondait à un cinquantième de tour du scaphé.

- 1- Montrer que l'angle  $a$  mesure environ  $7,2^\circ$ .
- 2- Convertir la distance entre Alexandrie et Syène en kilomètres.
- 3- Justifier que les angles  $a$  et  $b$  du document 1 ont la même mesure.
- 4- En déduire la circonférence de la Terre en kilomètres.

Grâce à des mesures par satellite, on estime aujourd'hui la circonférence de la Terre à 40 075 km.

- 5- Proposer une source d'erreur possible pour la valeur estimée par Ératosthène.

## Partie 2 – Construction d'un savoir scientifique

Quelques siècles avant Ératosthène, Anaxagore de Clazomènes (né à Clazomènes, en Turquie, vers 500 av. J.-C. et mort à Lampsaque, en Turquie également, en 428 av. J.-C.) avait effectué les mêmes mesures pour en déduire la distance entre la Terre et le Soleil, qu'il avait alors estimée à environ 6 500 km.

**Document 2 – Présentation des méthodes d'Anaxagore et d'Ératosthène au solstice d'été à midi**

Modélisation de la méthode d'Anaxagore

Modélisation de la méthode d'Ératosthène

Modèle CCYC : ©DNE

**Nom de famille** (naissance) :

(Suivi s'il y a lieu, du nom d'usage)

**Prénom(s)** :

**N° candidat** :  **N° d'inscription** :

(Les numéros figurent sur la convocation.)

**Né(e) le** :  /  /



1.1

6- Comparer les deux modélisations (observations, hypothèses, mesures réalisées, mesure obtenue) présentées dans le document 2.

La pratique de la démarche scientifique concourt à la mise en cohérence de faits, à l'identification de paramètres pertinents, à l'élaboration de concepts et à la construction de modèles et de théories.

7- Expliquer en quoi la méthode d'Ératosthène, pour établir la mesure de la circonférence de la Terre, est un exemple de démarche scientifique.