



Exercice 1 – Niveau première

Thème « La Terre, un astre singulier »

L'âge de la Terre

Sur 10 points

L'estimation de l'âge de la Terre a été le sujet de controverses et a évolué au cours des siècles au fur et à mesure des connaissances et des progrès techniques.

- 1- À partir de vos connaissances, indiquer deux arguments (ou méthodes) scientifiques autres que la radiochronologie qui ont été utilisés au cours du temps pour estimer l'âge de la Terre.

En 1969, une météorite du type chondrite carbonée est tombée au nord du Mexique. Les scientifiques l'ont nommée météorite "Allende". Ce type de météorite s'est formé en même temps que le système solaire.

Document 1 – Caractéristiques de la météorite Allende

La météorite Allende contient des structures en formes de petites sphères de minéraux appelées chondres dont la composition est proche de la composition moyenne de la Terre.

Ces chondres appartenant à la même météorite ont tous le même âge et contiennent du rubidium 87 (^{87}Rb) qui avec le temps se désintègre en strontium 87 (^{87}Sr), un des isotopes stables du strontium.

Des mesures de rapports isotopiques ont été réalisées sur ces chondres.




Figure – La météorite Allende

Source : [accés.ens-lyon.fr/acces/thematiques/limites/Temps/datation-isotopique/enseigner/les-meteorites-temoins-de-la-formation-du-systeme-solaire](https://www.acces.ens-lyon.fr/acces/thematiques/limites/Temps/datation-isotopique/enseigner/les-meteorites-temoins-de-la-formation-du-systeme-solaire)

Modèle CCYC : ©DNE

Nom de famille (naissance) :


(Suivi s'il y a lieu, du nom d'usage)

Prénom(s) :

N° candidat : N° d'inscription :

(Les numéros figurent sur la convocation.)

Né(e) le : / /



RÉPUBLIQUE FRANÇAISE

1.1

Document 2 – La radiochronologie, une méthode de datation

La radiochronologie consiste à mesurer dans plusieurs échantillons d'une même roche la quantité de noyaux pères rubidium 87 (^{87}Rb), de noyaux fils strontium 87 (^{87}Sr) et de noyaux stables strontium 86 (^{86}Sr). On déduit des rapports isotopiques (rapports des quantités mesurées) $^{87}\text{Sr}/^{86}\text{Sr}$ et $^{87}\text{Rb}/^{86}\text{Sr}$.

En traçant la courbe représentant le rapport isotopique $^{87}\text{Sr}/^{86}\text{Sr}$ en fonction du rapport isotopique $^{87}\text{Rb}/^{86}\text{Sr}$, une droite est obtenue.

Cette droite, appelée droite isochrone (*iso* : identique et *chronos* : temps), peut être modélisée par la fonction $y = ax + b$. Le coefficient directeur de a de la droite donne, après un calcul, l'âge de l'ensemble des échantillons de la roche.

Document 3 – Tableau des demi-vies de quelques noyaux radioactifs utilisés dans des méthodes de datation en géosciences

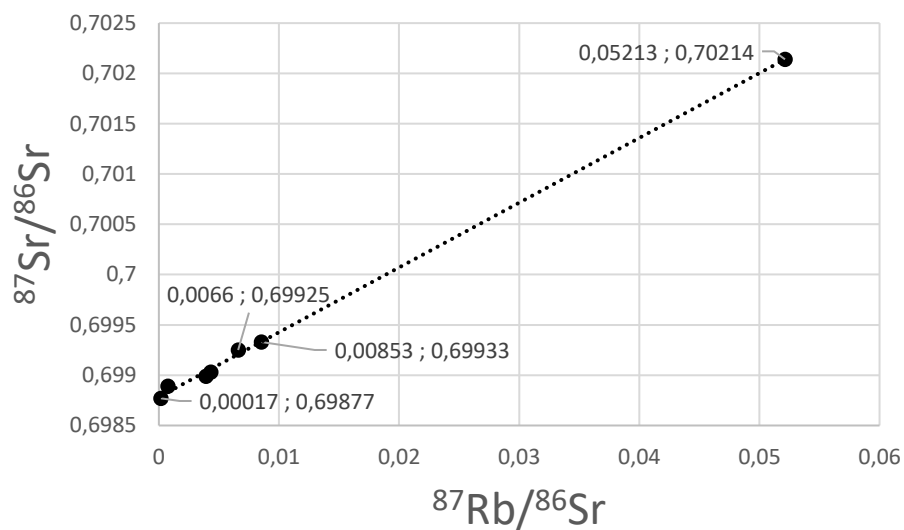
Méthode de datation utilisée en géosciences	Couple isotopique utilisé	Demi-vie du noyau père
Rubidium 87 - Strontium 87	$^{87}\text{Rb}/^{87}\text{Sr}$	47×10^9 années
Uranium 234 - Thorium 230	$^{234}\text{U}/^{230}\text{Th}$	245 500 années

Source : à partir des données issues de <https://fr.wikipedia.org>, article période radioactive

- Parmi les noyaux $^{87}_{37}\text{Rb}$, $^{86}_{38}\text{Sr}$ et $^{87}_{38}\text{Sr}$, indiquer en justifiant quel est le noyau radioactif.
- Donner la définition de la demi-vie d'un noyau radioactif.
- À l'aide du document 3, justifier l'utilisation du couple Rubidium/Strontium pour la datation de la météorite Allende, plutôt que la datation avec le couple Uranium/Thorium.



Document 4 – Droite isochrone des rapports isotopiques des chondres pour le couple Rb/Sr de la météorite Allende
(avec les coordonnées x ; y associées à certains points)



Source : construite à partir de données issues de <https://www.sciencedirect.com/science/article/abs/pii/0016703776901083>

- 5- Montrer à l'aide du document 4 que le coefficient directeur de la droite isochrone correspond approximativement à une valeur de 0,065.

Modèle CCYC : ©DNE

Nom de famille (naissance) :


(Suivi s'il y a lieu, du nom d'usage)

Prénom(s) :

N° candidat : **N° d'inscription** :

(Les numéros figurent sur la convocation.)

Né(e) le : / /

 Liberté • Égalité • Fraternité
RÉPUBLIQUE FRANÇAISE

1.1

Document 5 – Tableau de correspondance entre valeur du coefficient directeur d'une droite isochrone et âge de l'échantillon étudié pour le couple Rb/Sr

Coefficient directeur	Âge (années)
0,000028	2×10^6
0,000063	$4,5 \times 10^6$
0,028	2×10^9
0,065	$4,5 \times 10^9$
0,88	$4,5 \times 10^{10}$
15,38	2×10^{11}

- 6- En vous appuyant sur le document 5, montrer comment la datation d'une météorite comme celle d'Allende apporte un argument en faveur d'un âge de la Terre d'environ 4,57 Ga.



Exercice 2 – Niveau première

Thème « Son, musique et audition »

AVC et appareils auditifs

Sur 10 points

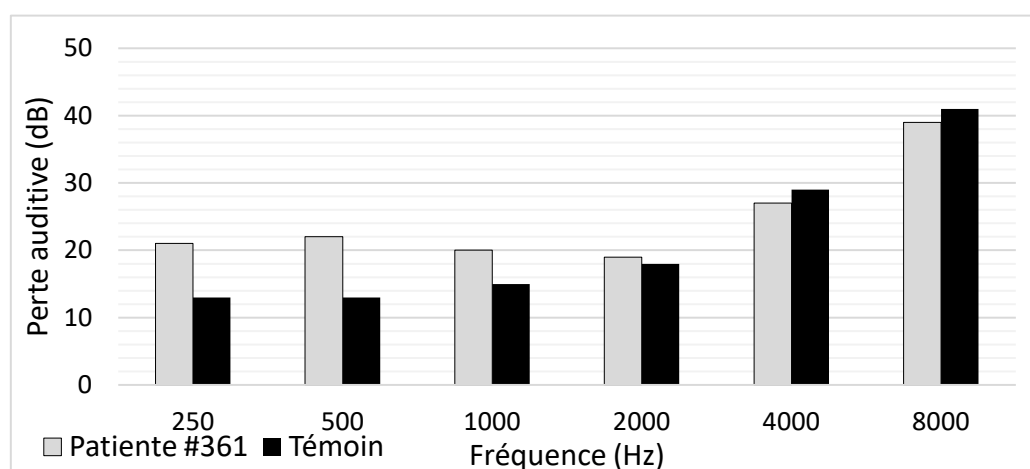
Partie 1 – Étude des symptômes de la patiente #361

La patiente #361 se rend à l'hôpital pour réaliser des examens car son audition se dégrade. La patiente est soumise à un bilan auditif qui consiste à déterminer le seuil de niveau sonore audible pour différents sons purs.

Le document 1 établit l'histogramme de la perte auditive de la patiente #361 en fonction de la fréquence ainsi que celle d'un groupe témoin constitué de personnes du même âge que la patiente (65 ans) :

- le niveau 0 dB correspond à une absence de perte auditive ;
- jusqu'à 20 dB de perte auditive, le patient ne perçoit aucun symptôme de perte d'audition ;
- à partir de 20 dB de perte auditive, le patient a une perte légère d'audition.

Document 1 – Histogramme présentant les pertes auditives de la patiente #361 et du groupe témoin en fonction de la fréquence sonore



Source : T. Fujioka et al. *Central auditory processing in adults with chronic stroke without hearing loss a magnetoencephalography study - 2020*

Modèle CCYC : ©DNE

Nom de famille (naissance) :

(Suivi s'il y a lieu, du nom d'usage)

Prénom(s) :

N° candidat :

N° d'inscription :



Né(e) le :

(Les numéros figurent sur la convocation.)

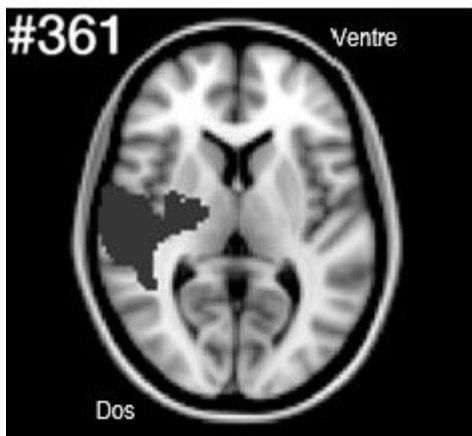
1.1

- 1- À partir du document 1, identifier les fréquences pour lesquelles il y a une perte d'audition chez les personnes du groupe témoin.
- 2- À partir du document 1 et des données qui le précèdent, proposer une explication à la perte d'audition chez les personnes du groupe témoin.
- 3- À partir du document 1, identifier les fréquences pour lesquelles il y a une perte d'audition anormale de la patiente #361 par rapport au groupe témoin.

Les oreilles externes, moyennes et internes de la patiente #361 sont normales. Elle réalise ensuite un examen d'imagerie à résonance magnétique (IRM). Les médecins ont détecté un Accident Vasculaire Cérébral (AVC) sur l'IRM. Les zones touchées par les AVC sont altérées et fonctionnent moins bien voire plus du tout en fonction des caractéristiques de l'AVC (localisation, durée, ...).

Document 2 – IRM de la patiente #361

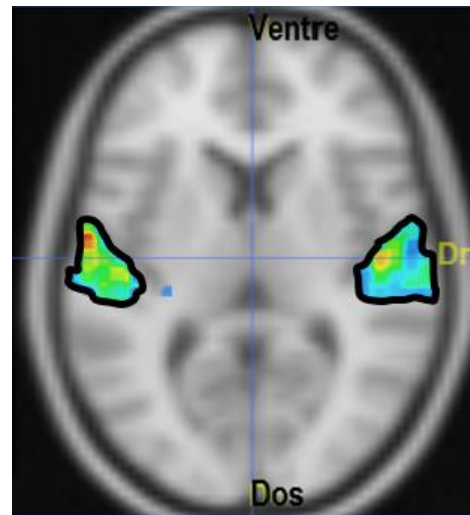
L'AVC est localisé par une tâche grise sombre sur l'IRM.



Source : T. Fujioka et al. Central auditory processing in adults with chronic stroke without hearing loss a magnetoencephalography study – 2020

Document 3 – IRM d'un individu témoin

L'IRM fonctionnelle montre les zones du cerveau activées (zones entourées) chez un individu témoin écoutant de la musique.



Source : Images issues du logiciel ÉduAnat2. Coupe axiale.

- 4- En vous appuyant sur les documents 2 et 3, expliquer l'origine de la perte auditive anormale chez la patiente #361.



Partie 2 – Traitement de la patiente #361

Il existe différents dispositifs médicaux pour limiter la surdité.

Document 4 – Tableau présentant le fonctionnement de différents appareils auditifs

Type d'appareil	Mode de fonctionnement
Implant cochléaire	Transforme, grâce à des microélectrodes, les signaux sonores captés par un microphone en signaux numériques stimulant directement le nerf auditif sans passer par l'oreille interne.
Prothèse auditive	Amplifie certaines fréquences sonores de façon préférentielle par voie aérienne.
Prothèse ossiculaire	Remplace un ou plusieurs osselets de l'oreille moyenne (différents matériaux et diverses formes sont disponibles)

Source : Incursion dans le monde des prothèses auditives numériques – Gada Kalil et Sam V. Daniel

- 5- Certains des appareils auditifs du document 4 utilisent un convertisseur analogique-numérique (CAN). À partir de vos connaissances, donner le nom des deux opérations de numérisation permettant de transformer un signal analogique en signal numérique.
- 6- Choisir l'appareil auditif pertinent pour la patiente #361 parmi ceux proposés dans le document 4. Justifier ce choix.

L'audioprothésiste établit les réglages de l'appareil auditif de la patiente pour différentes fréquences : 250 Hz, 500 Hz, 1000 Hz, 2000 Hz, 4000 Hz et 8000 Hz.

Le document 5 suivant correspond à l'enregistrement d'un des signaux sonores utilisés.

Modèle CCYC : ©DNE

Nom de famille (naissance) :

(Suivi s'il y a lieu, du nom d'usage)

Prénom(s) :

N° candidat :

N° d'inscription :

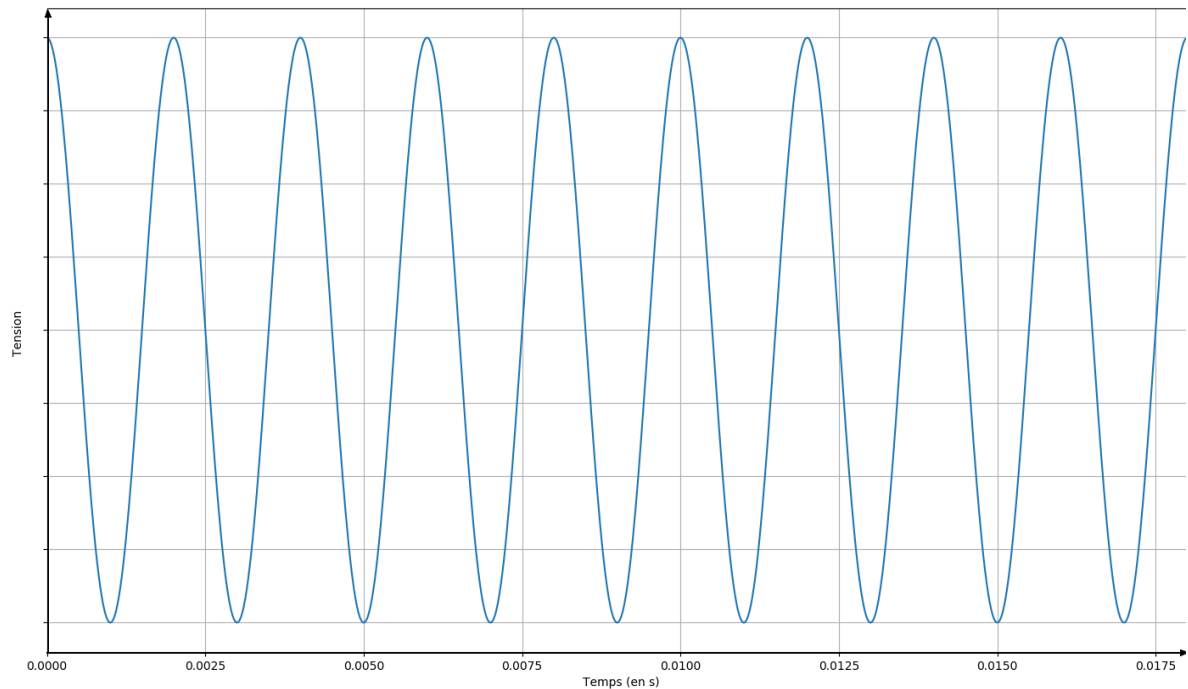


Né(e) le :

(Les numéros figurent sur la convocation.)

1.1

Document 5 – Enregistrement d'un signal sonore



- 7- Justifier que le son associé au signal sonore représenté dans le document 5 est un son pur.
- 8- Donner la relation mathématique qui lie deux fréquences successives utilisées par l'audioprothésiste.
- 9- À partir de vos connaissances, nommer l'intervalle séparant deux fréquences successives utilisées par l'audioprothésiste.
- 10- L'appareil auditif a permis d'augmenter les performances auditives de la patiente #361 de 10 dB pour un son de fréquence 250 Hz. À partir du document 6 page suivante, indiquer le facteur de multiplication de l'intensité sonore associé à cette augmentation de 10 dB. Justifier votre réponse.



Document 6 – Tableau de correspondance entre le niveau d'intensité sonore et l'intensité sonore avec les sensations associées

Intensité sonore (W.m ⁻²)	10 ⁻¹²	10 ⁻⁸	10 ⁻⁶	10 ⁻⁴	10 ⁻³	1
Niveau d'intensité sonore (dB)	0	40	60	80	90	120
Sensation	Limite d'audibilité	Bruit de fond calme	Bruit gênant	Bruit très gênant	Seuil de danger	Seuil de douleur

Modèle CCYC : ©DNE

Nom de famille (naissance) :

(Suivi s'il y a lieu, du nom d'usage)

Prénom(s) :

N° candidat :

N° d'inscription :



Liberté • Égalité • Fraternité
RÉPUBLIQUE FRANÇAISE

Né(e) le :

(Les numéros figurent sur la convocation.)

1.1

Exercice 3 – Niveau première

Thème « Le Soleil, notre source d'énergie »

La pile végétale

Sur 10 points

Il est possible de produire de l'électricité en installant des électrodes dans un sol gorgé d'eau où poussent des plantes telles que le riz. Cette technologie permet de convertir l'énergie chimique issue de la photosynthèse en énergie électrique. Le rendement de ce dispositif reste pour le moment faible.

On cherche ici à déterminer si cette technologie peut constituer une solution d'avenir.

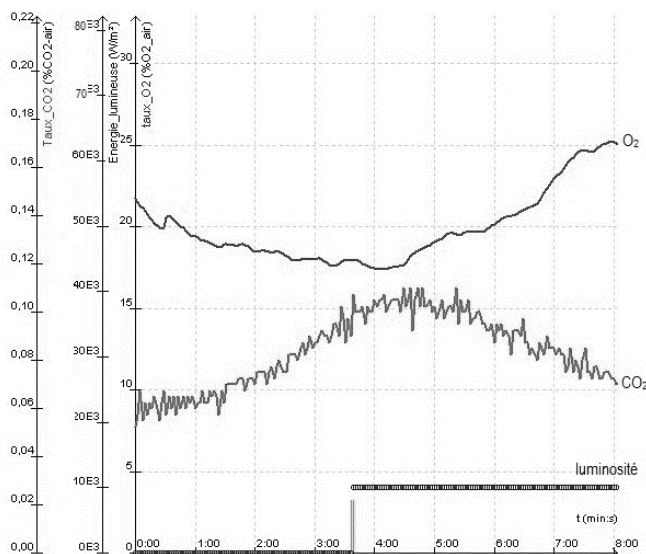
Les deux parties peuvent être traitées indépendamment.

Partie 1 – La photosynthèse et ses caractéristiques

Document 1 - Étude expérimentale des échanges gazeux d'une plante chlorophyllienne

On mesure les variations au cours du temps de trois paramètres environnementaux au sein d'une enceinte fermée hermétiquement et contenant un végétal chlorophyllien :

- teneur en dioxygène (O_2) ;
- teneur en dioxyde de carbone (CO_2) ;
- luminosité reçue par l'enceinte.



Source : d'après <https://www.pedagogie.ac-nantes.fr>



1- D'après le document 1, décrire l'effet de la luminosité sur les échanges gazeux entre la plante chlorophyllienne et son environnement.

Justifier à l'aide de données chiffrées.

Partie 2 – Énergie de la « pile végétale »

La plante utilise la photosynthèse pour produire de la matière organique. La réaction chimique correspondante peut être exploitée au sein d'une pile comportant deux électrodes dont l'une est positionnée près de la racine de la plante et l'autre en est plus éloignée. Cette pile peut délivrer un courant électrique qui transporte de l'énergie. On admet que la puissance électrique fournie par une « pile végétale » de cette sorte est proportionnelle à la surface que les plantes, exposées au soleil et qui se trouvent au voisinage des électrodes, occupent sur le sol.

2- À partir de vos connaissances, expliquer ce qu'est une source d'énergie renouvelable. Justifier que la pile végétale est considérée comme une source d'énergie électrique renouvelable.

On peut estimer qu'une « pile végétale » de 1 m^2 de surface globale (en feuilles et en racines) fournit une puissance de 3 W et que l'énergie moyenne nécessaire à la recharge d'un smartphone est de 10 Wh .

3- Calculer la durée de recharge d'un smartphone avec 1 m^2 de surface de « pile végétale ».

4- L'énergie moyenne consommée par une famille pendant une année est 3000 kWh . Calculer la surface nécessaire en m^2 de surface de « pile végétale » pour fournir l'énergie annuelle à une famille.

Indication : le Watt-heure (Wh) une unité physique qui correspond à l'énergie consommée ou délivrée par un système d'une puissance de 1 Watt fonctionnant pendant une heure.

5- À partir des arguments issus de l'étude des deux parties de l'exercice et de vos connaissances notamment sur le fait que la « pile végétale » peut être considérée comme de la biomasse, indiquer un intérêt et une limite de ce dispositif.