



Exercice 1 – Niveau première

Thème « Son, musique et audition »

Concert celtique

Sur 10 points

Un concert de musique rock celtique se déroule dans une salle des fêtes.

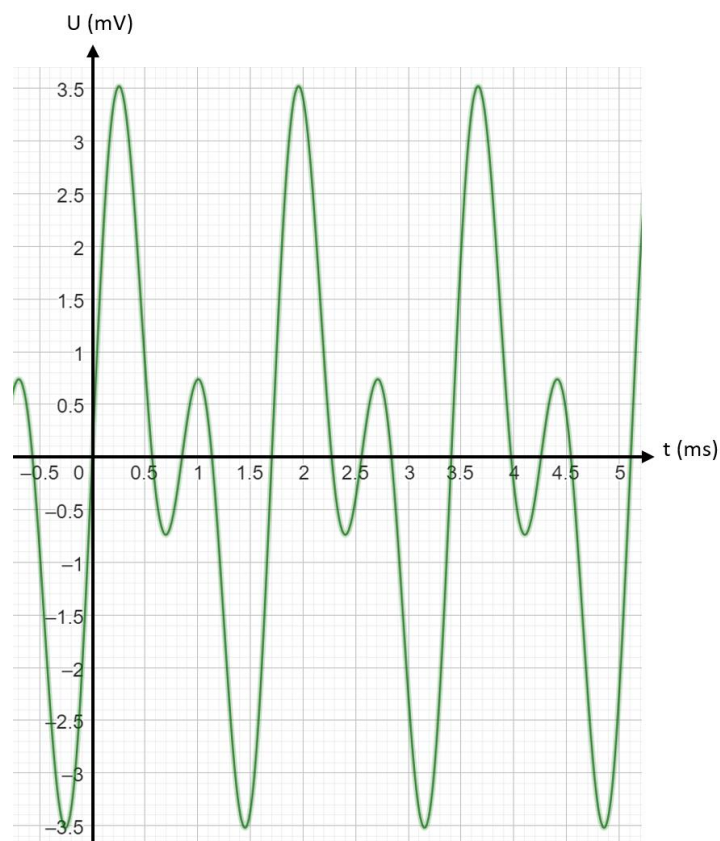
Partie 1 – Analyse du son

Lors de ce concert, trois musiciens jouent ensemble sur scène : un guitariste, un bassiste et un violoniste.

Le son de chaque instrument a été enregistré séparément. Les courbes des signaux en tension correspondantes sont données dans le document 1.

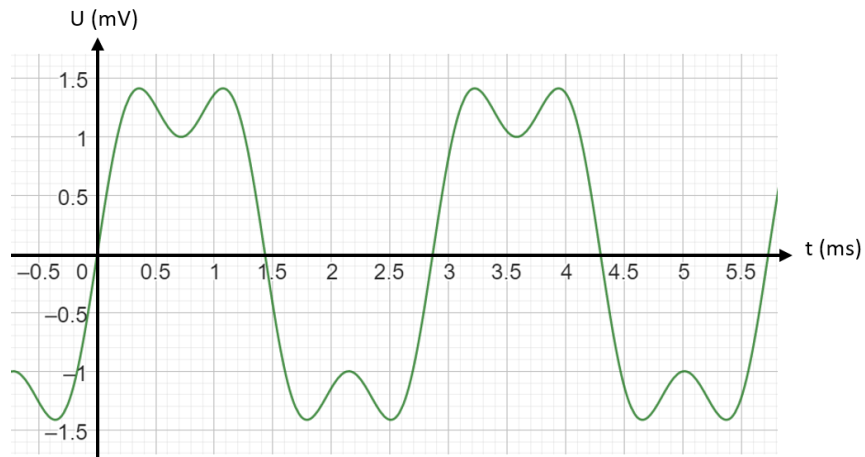
Document 1 – Enregistrements des sons des différents instruments

Courbe 1 : guitare électrique

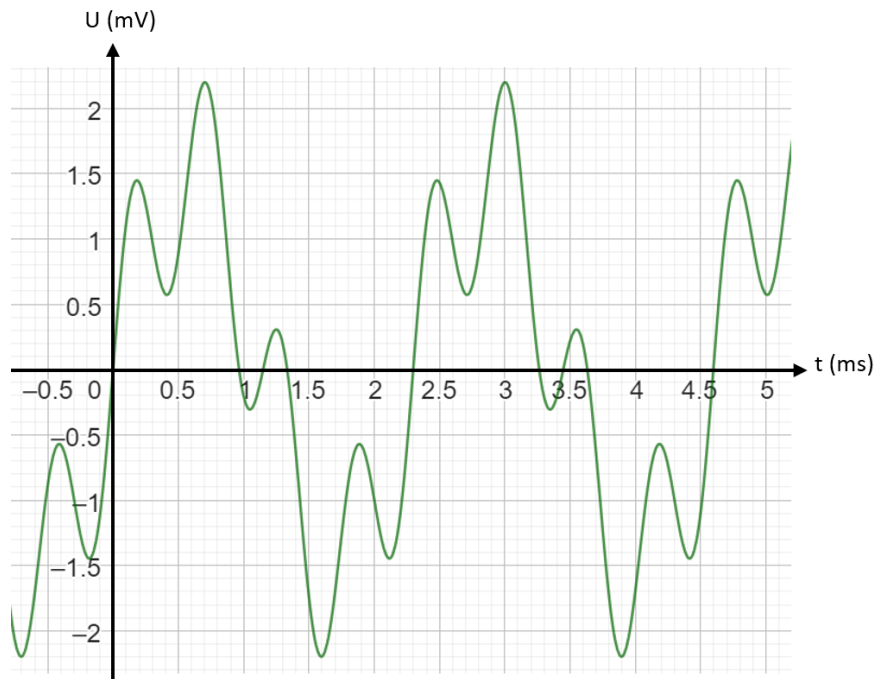




Courbe 2 : basse



Courbe 3 : violon



- 1- À l'aide des enregistrements précédents, indiquer en argumentant si les trois musiciens jouent la même note ou non.

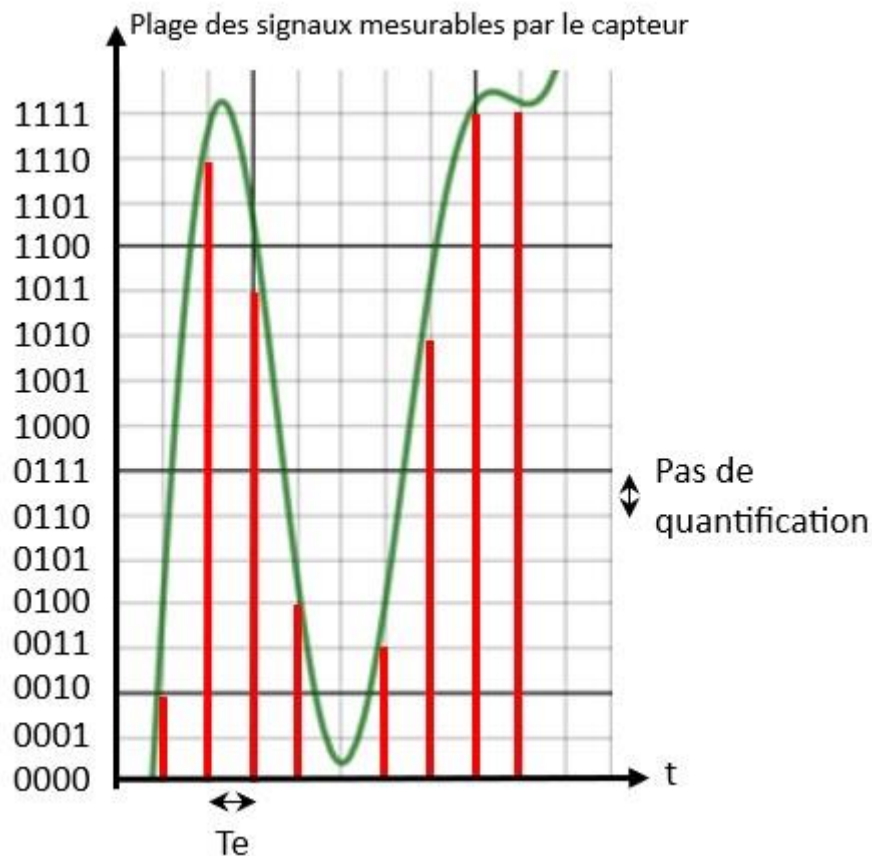


Partie 2 – Enregistrement du concert

Un des spectateurs décide de réaliser un enregistrement audio d'une partie du concert avec son smartphone. Le stockage interne est quasiment saturé : il lui reste 120 Mo de libres sur sa carte SD de 16 Go.

Document 2 – Numérisation du son

Courbe de superposition des trois sons et quantification en 4 bits avec $T_e = 0,02$ ms, soit $F_e = 50\,000$ Hz



Données : 1 octet = 8 bits ; 1 Mo = 10^6 octets ; 1 Go = 10^9 octets.

2- Justifier avec le document 2 que le smartphone encode à $200\,000$ bit.s⁻¹.

3- Calculer la durée d'enregistrement du concert possible sur le smartphone de ce spectateur.

Modèle CCYC : ©DNE

Nom de famille (naissance) :

(Suivi s'il y a lieu, du nom d'usage)

Prénom(s) :

N° candidat : **N° d'inscription** :

(Les numéros figurent sur la convocation.)

Né(e) le : / /



1.1

On souhaite diviser par quatre la taille prise par cet enregistrement par compression.

- 4- Déterminer le taux de compression nécessaire pour que l'enregistrement ne prenne que la place souhaitée.
- 5- Expliquer pourquoi un fichier audio obtenu avec une technique de compression dite « avec perte d'information » est de nature à permettre une écoute satisfaisante du concert enregistré.

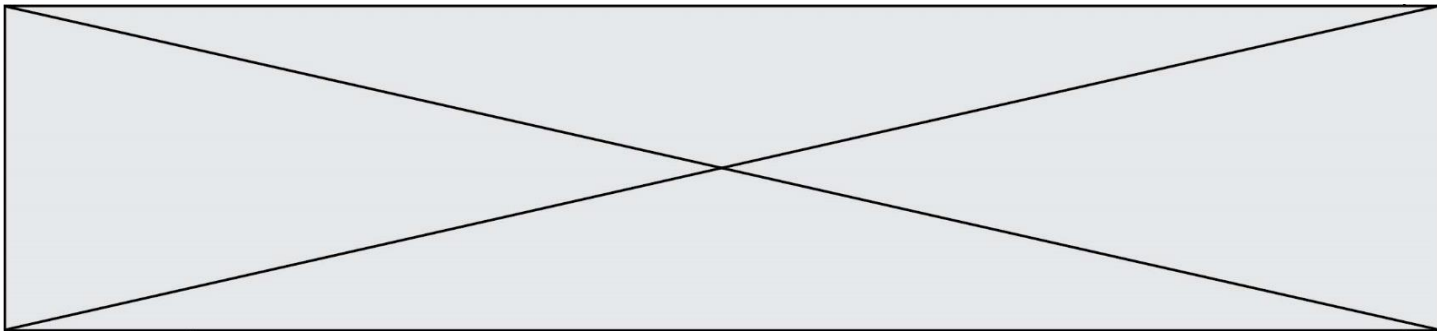
Partie 3 – Risque sur l'audition

On s'interroge sur les risques encourus en étant souvent exposé à des niveaux sonores élevés.

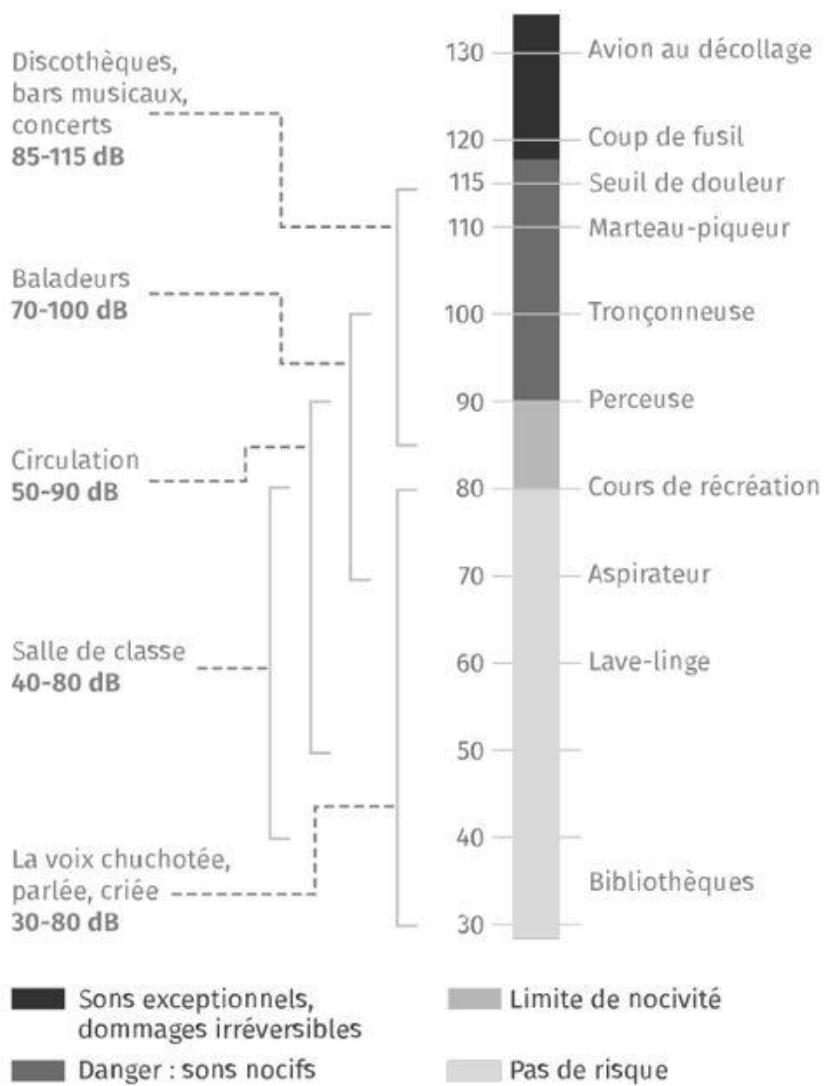
Lors du concert, l'application sonomètre du smartphone affiche une valeur de 102 dB à proximité des enceintes.

On utilisera les documents 3 et 4 qui suivent pour répondre aux questions de cette partie.

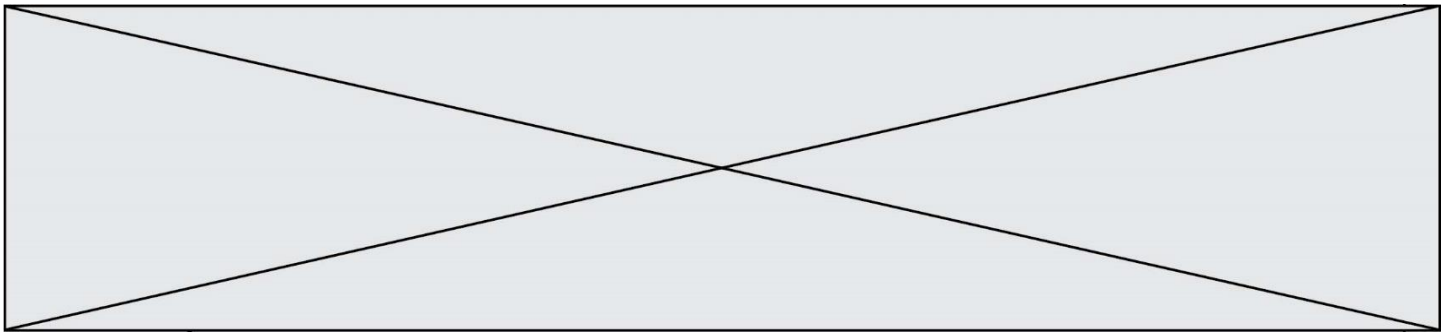
- 6- Indiquer s'il existe un risque de perte d'audition en assistant à ce concert. Argumenter votre réponse.
- 7- Préciser les précautions qu'auraient pu prendre les spectateurs pour davantage préserver leur audition.



Document 3 – Échelle de niveau sonore et risques associés



Source : lelivrescolaire.fr



Des rats ont été exposés à des bruits semblables à des explosions de niveaux sonores croissants. Leurs cellules ciliées ont ensuite été observées au microscope. Chez l'être humain lorsque les cellules ciliées sont endommagées, elles ne peuvent ni être réparées, ni remplacées. Ces dégâts irréversibles peuvent causer une surdité.

Source : d'après <https://irem-limoges.canoprof.fr>

Modèle CCYC : ©DNE

Nom de famille (naissance) :

(Suivi s'il y a lieu, du nom d'usage)

Prénom(s) :

N° candidat :

N° d'inscription :



Né(e) le :

(Les numéros figurent sur la convocation.)

1.1

Exercice 2 – Niveau première

Thème « La Terre, un astre singulier »

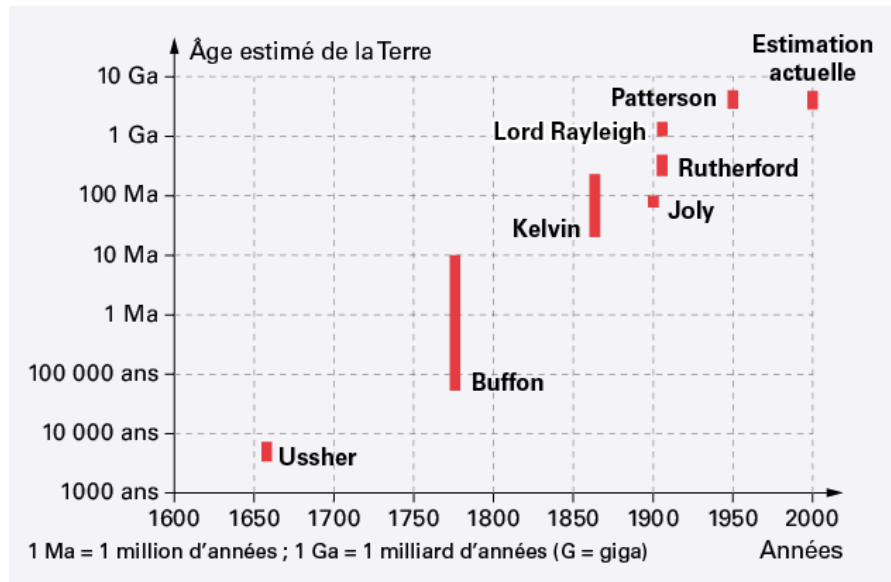
Datation de l'âge d'une roche

Sur 10 points

La datation de la Terre a été au cœur de multiples controverses au sein de la communauté scientifique.

Comme de nombreux scientifiques au XX^e siècle, on cherche dans cet exercice à dater un granite. Les granites sont des roches magmatiques issues du refroidissement lent d'un magma. Ils n'apparaissent en surface qu'après érosion de tout ce qui les recouvrait.

Document 1 – Estimation de l'âge de la Terre par différents scientifiques



Source : <https://www.digischool.fr/cours/l-histoire-de-l-age-de-la-terre>

Par exemple, Buffon donne un âge de la Terre situé entre environ 75 000 ans et 10 Ma.



Document 2 – Théories de Kelvin et Rutherford

En 1863, Kelvin fait l'hypothèse que la Terre se refroidit de manière homogène depuis sa formation. Ainsi la Terre se refroidit et perd de la chaleur uniquement par conduction thermique.

En 1904, Rutherford découvre que la désintégration de certains noyaux d'atomes radioactifs s'accompagne d'un dégagement de chaleur. Cette découverte ébranlera les conclusions de Kelvin. Effectivement, la Terre possède une source de chaleur que n'avait pas envisagée Kelvin dans son modèle de refroidissement.

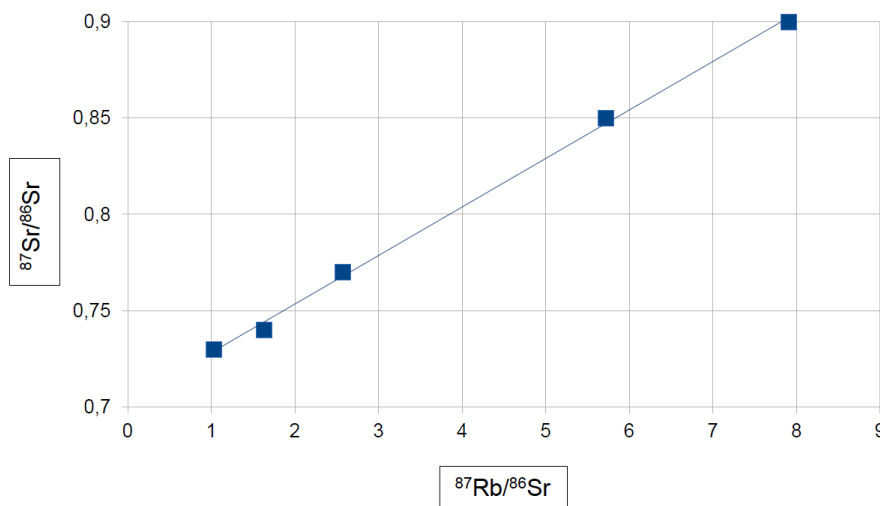
Document 3 – Présentation de trois géochronomètres

Les géochronomètres sont des couples d'éléments, initialement présents dans les échantillons à dater dont la quantité varie au cours du temps. On considère qu'un géochronomètre peut être utilisé pour dater un échantillon vieux d'au maximum dix fois la demi-vie du noyau père du géochronomètre.

Géochronomètre	Demi-vie en années du noyau père	Conditions d'utilisation
$^{14}\text{C}/^{14}\text{N}$	5 730	S'utilise sur des fossiles
$^{40}\text{K}/^{40}\text{Ar}$	$1,25 \times 10^9$	Difficile à utiliser sur les roches magmatiques
$^{87}\text{Rb}/^{86}\text{Sr}$	$48,8 \times 10^9$	S'utilise sur des roches magmatiques

Document 4 – Droite isochrone par mesure des rapports $^{87}\text{Rb}/^{86}\text{Sr}$ et $^{87}\text{Sr}/^{86}\text{Sr}$

droite isochrone du granite étudié



Modèle CCYC : ©DNE

Nom de famille (naissance) :

(Suivi s'il y a lieu, du nom d'usage)

Prénom(s) :

N° candidat :

N° d'inscription :



Liberté • Égalité • Fraternité
RÉPUBLIQUE FRANÇAISE

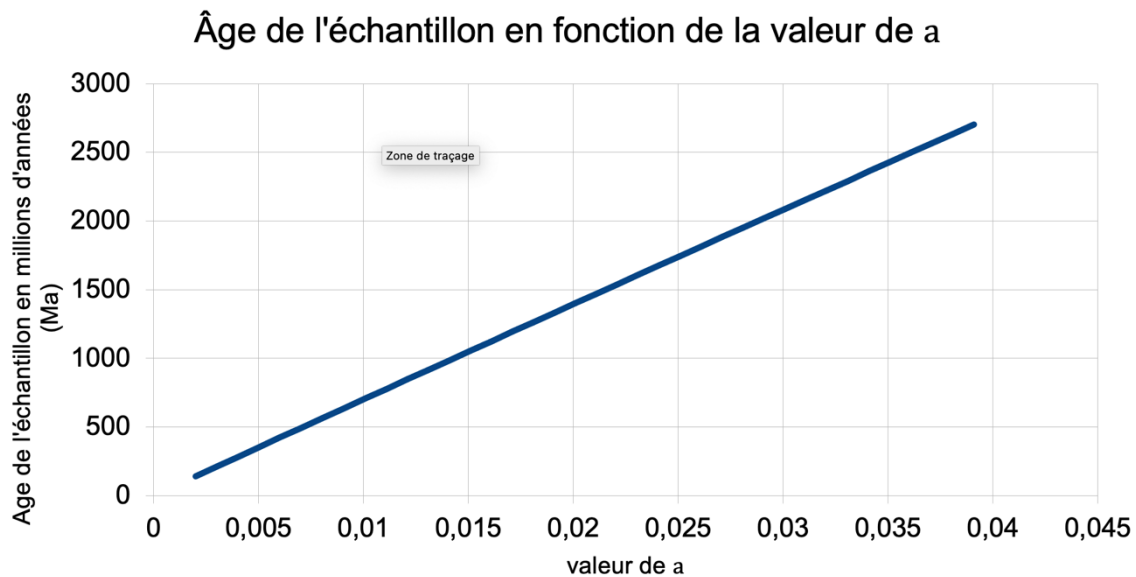
Né(e) le :

(Les numéros figurent sur la convocation.)

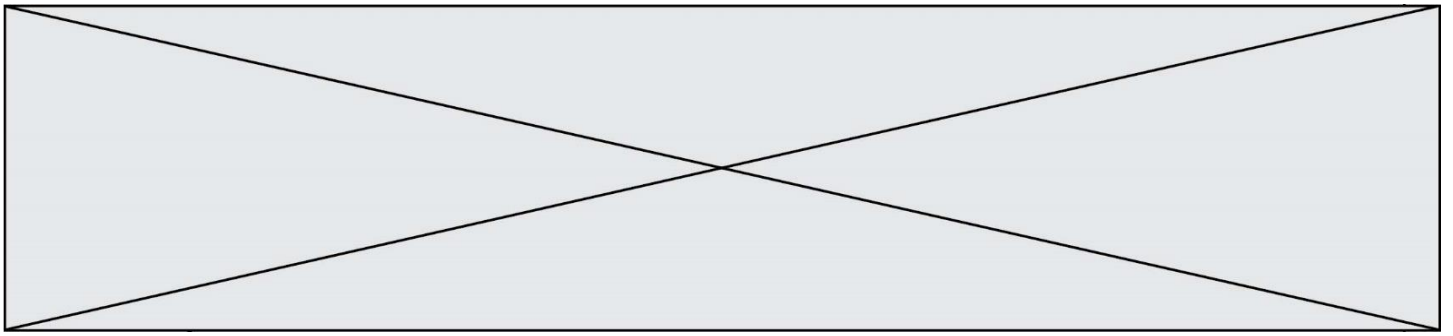
1.1

Document 5 – Datation d'un granite

L'âge de la roche à dater dépend du coefficient directeur a de la droite isochrone obtenue en représentant $^{87}\text{Sr}/^{86}\text{Sr}$ en fonction de $^{87}\text{Rb}/^{86}\text{Sr}$, comme l'illustre le graphique ci-dessous.



- 1- Recopier sur votre feuille la réponse exacte :
 - a) D'après Kelvin, la Terre a 100 Ma.
 - b) D'après Kelvin, la Terre a 1860 ans.
 - c) D'après Kelvin, la Terre a entre 40 Ma et 200 Ma.
- 2- Nommer le phénomène physique sur lequel repose le raisonnement de Kelvin.
- 3- D'après le document 1, préciser quelles évolutions de l'estimation de l'âge de la Terre on peut noter entre l'estimation de Kelvin et celle actuelle.
- 4- Proposer une explication en s'appuyant sur le document 2 qui montre les limites du raisonnement de Kelvin.
- 5- D'après le document 3, trouver deux arguments pour justifier que le couple $^{87}\text{Rb}/^{86}\text{Sr}$ peut être utilisé pour dater l'âge de la Terre.



On se propose maintenant de dater un morceau de granite trouvé à la surface de la Terre avec le couple $^{87}\text{Rb}/^{86}\text{Sr}$.

- 6- Montrer que le coefficient directeur de la droite du document 4 est environ égal à 0,025.
- 7- À l'aide du document 5, estimer l'âge de ce granite.
- 8- Préciser si ce granite s'est formé au même moment que la Terre. Justifier.
- 9- Discuter de la possibilité de dater l'âge de la Terre avec des échantillons de roches terrestres.

Modèle CCYC : ©DNE																				
Nom de famille (naissance) : <small>(Suivi s'il y a lieu, du nom d'usage)</small>																				
Prénom(s) :																				
N° candidat :											N° d'inscription :									
 Liberté • Égalité • Fraternité RÉPUBLIQUE FRANÇAISE	<small>(Les numéros figurent sur la convocation.)</small>																			
Né(e) le :			/			/														

1.1

Exercice 3 – Niveau première

Thème « Le Soleil, notre source d'énergie »

Énergie rayonnée par les étoiles et utilisation biologique du rayonnement solaire

Sur 10 points

Les étoiles, comme notre Soleil ou Véga de la constellation de la Lyre, sont des sources d'énergie.

- 1- Nommer et décrire en 3 ou 4 lignes le mécanisme qui est à l'origine de l'énergie rayonnée par une étoile.

À partir de vos connaissances et des informations apportées par les documents fournis dans la suite, répondre aux questions suivantes.

- 2- Sans calcul, indiquer si la température de surface de l'étoile Véga est supérieure ou inférieure à celle du Soleil. Justifier votre réponse.
- 3- Calculer la température de surface de l'étoile Véga en utilisant le document 2.
- 4- L'énergie nécessaire à la production de biomasse par les animaux provient indirectement du Soleil. Justifier cette affirmation en s'appuyant sur des informations extraites des documents 3 et 4, ainsi que de vos connaissances. La réponse ne doit pas excéder 8 lignes.



Document 1 – Profil spectral de la lumière émise par Véga

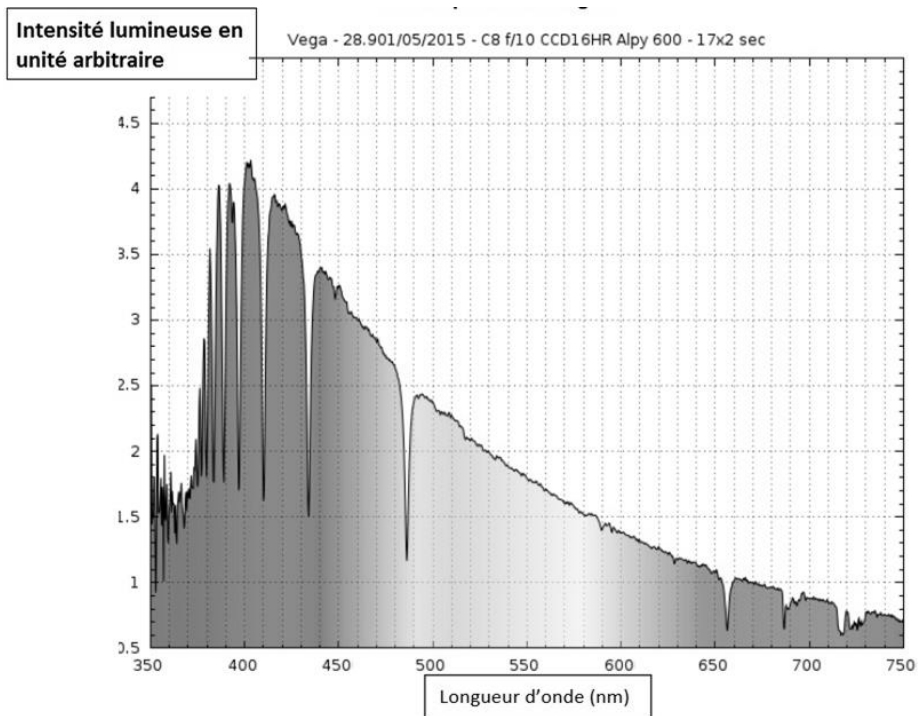


Figure A – Profil spectral de Véga

Source : ci2mrduthoit.weebly.com

Document 2 – La loi de Wien

Pour des objets incandescents idéaux appelés « corps noirs », le spectre d'émission ne dépend que de la température de l'objet. Plus l'objet est chaud, plus la longueur d'onde correspondant au maximum d'émission est faible.

La loi de Wien permet de traduire cette observation :

$$\lambda_{\max} = \frac{2,89 \cdot 10^{-3}}{T}$$

avec λ_{\max} en mètres et T en kelvins.

Relation entre température θ en degrés Celsius ($^{\circ}\text{C}$) et température T en kelvins (K) : $\theta = T - 273,15$.

La longueur d'onde correspondante à l'intensité lumineuse maximale pour le Soleil est $\lambda_{\max} = 500 \text{ nm}$.

Modèle CCYC : ©DNE

Nom de famille (naissance) :

(Suivi s'il y a lieu, du nom d'usage)

Prénom(s) :

N° candidat :

N° d'inscription :



Liberté • Égalité • Fraternité
RÉPUBLIQUE FRANÇAISE

Né(e) le :

(Les numéros figurent sur la convocation.)

1.1

Document 3 – Photosynthèse, respiration et fonctionnement d'une plante

La photosynthèse est un métabolisme qui se déroule dans les cellules chlorophylliennes. La respiration cellulaire est un métabolisme se déroulant dans toutes les cellules et qui produit un type de molécule permettant des transferts d'énergie donc le fonctionnement cellulaire. Cette molécule est l'ATP (adénosine triphosphate).

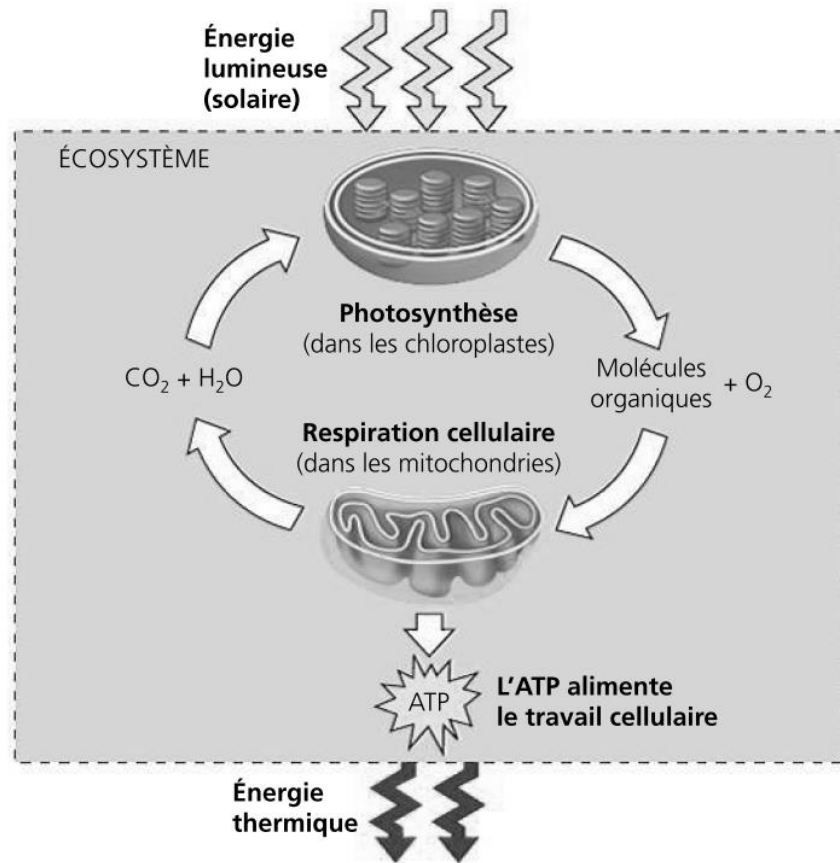


Figure B – Conversions d'énergie

Source : d'après *Biologie, Reece, Urry et al ; 4ème édition*



Document 4 – Transfert de l'énergie solaire dans un écosystème

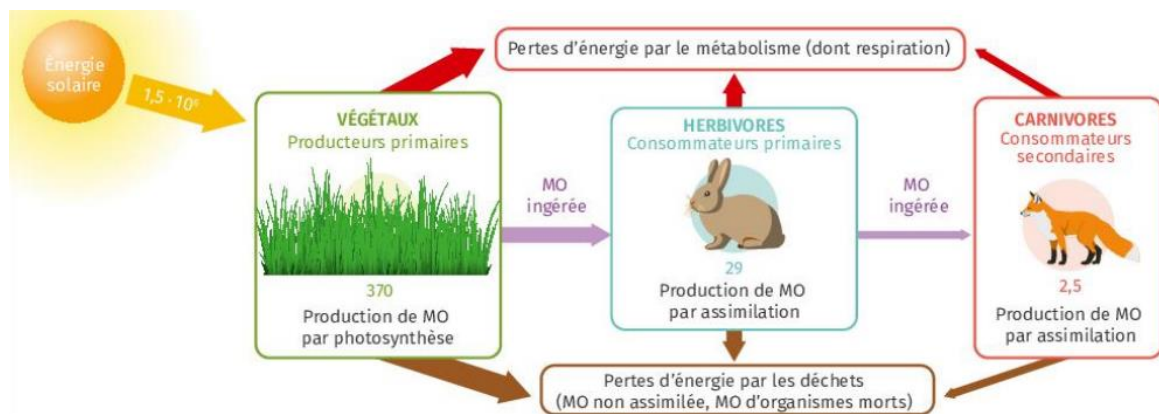


Figure B – Transferts d'énergie dans une prairie

Les valeurs indiquent l'énergie en kcal/an pour 1 m² de prairie.

MO signifie « matière organique ».

Source : manuel scolaire Lelivrescolaire, édition 2023, p. 118.