



Exercice 1 (obligatoire) – Niveau première (mathématiques)

Étude de l'utilisation de supports musicaux

Sur 8 points

Les trois parties de cet exercice sont indépendantes.

Partie A : écoute de musique dans le monde en 2021

L'IFPI (International Federation of the Phonographic Industry) a mené une enquête pour connaître les habitudes d'écoute de musique dans le monde.

1- La consommation hebdomadaire moyenne de musique est de 16,4 heures. En supposant que chaque chanson dure 3 minutes, combien de chansons écoute-t-on en moyenne en une semaine avec une telle consommation ?

2- Le tableau ci-dessous donne la répartition du temps d'écoute par mode de consommation en 2021.

Mode de consommation	Streaming audio/vidéo	Réseaux sociaux	Radio	Achats physiques ou téléchargements	Concerts	Autres modes
Proportion (en %)	54	14	16	9	2	5

2-a- Quel a été le mode de consommation le plus souvent utilisé en 2021 ?

2-b- Représenter cette répartition par un diagramme bâtons en prenant 1 cm pour 5 %.

Partie B : modélisation du nombre d'utilisateurs pour un service de streaming

Un site de streaming musical compte 68 millions d'utilisateurs actifs mensuellement au cours de l'année 2015. On estime que ce nombre augmente de 25 % chaque année.

3- Estimer le nombre d'utilisateurs actifs mensuellement au cours de l'année 2016.

Modèle CCYC : ©DNE

Nom de famille (naissance) :


(Suivi s'il y a lieu, du nom d'usage)

Prénom(s) :

N° candidat : N° d'inscription :

(Les numéros figurent sur la convocation.)

Né(e) le : / /



1.1

4- On modélise cette situation en notant, pour tout entier naturel n , u_n le nombre, exprimé en million d'individus, d'utilisateurs actifs mensuellement de ce site au cours de l'année $2015 + n$. Ainsi $u_0 = 68$.

4-a- Déterminer u_2 .

4-b- Quelle est la nature de la suite (u_n) ? On justifiera la réponse et on donnera la raison de la suite.

4-c- Déterminer l'expression de u_n en fonction de n , pour tout entier naturel n .

4-d- Selon ce modèle, calculer le nombre d'abonnés actifs mensuellement au cours de l'année 2035.

5- En utilisant ce modèle, on souhaite estimer l'année à partir de laquelle le nombre d'utilisateurs actifs du site dépassera un milliard. Proposer une réponse au problème et justifier la démarche.

Partie C : modélisation du nombre d'auditeurs pour une radio

Une radio compte 5 millions d'auditeurs au cours de l'année 2015. On estime que ce nombre augmente de 100 000 chaque année.

On modélise cette situation en notant, pour tout entier naturel n , v_n le nombre d'auditeurs, exprimé en millier d'individus, au cours de l'année $2015 + n$.

Ainsi $v_0 = 5000$.

6- Déterminer v_1 .

7- Quelle est la nature de la suite (v_n) ? On justifiera la réponse et on donnera la raison de la suite.

8- Déterminer l'expression de v_n en fonction de n , pour tout entier naturel n .

9- En utilisant ce modèle, on souhaite estimer l'année à partir de laquelle le nombre d'auditeurs aura doublé. Proposer une réponse au problème et justifier la démarche.



Exercice 2 (au choix) – Niveau première

Thème « Une longue histoire de la matière »

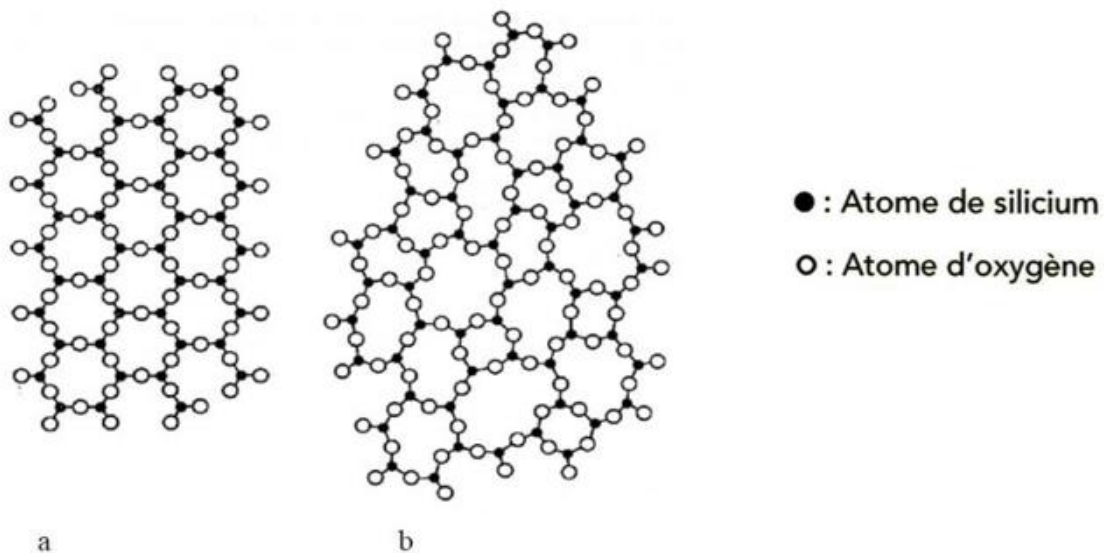
La formation des verres

Sur 12 points

La silice est la forme naturelle du dioxyde de silicium (SiO_2) qui entre dans la composition de nombreux minéraux (quartz, etc.) et de nombreuses roches (sable, grès, granite, etc.). Le verre désigne un solide non cristallin (amorphe). Sa composition chimique contient une part importante de silice.

Partie 1 – La silice : une structure amorphe ou cristalline

Document 1 – Modèles moléculaires de deux structures en coupe de la silice



Source : d'après CHAGUETMI, Salem (2010), *Élaboration et caractérisation de nouveaux verres de fluorohafnates de strontium et de phosphosulfates*. Université Mohamed Khider Biskra


- 1- La figure du document 1 montre deux structures possibles de la silice. L'une est dite cristalline, l'autre amorphe (verre). Parmi les représentations a et b, préciser laquelle correspond à une structure cristalline. Justifier votre choix.




Partie 2 – Formation du verre en contexte géologique

Les basaltes et les gabbros sont des roches magmatiques qui se forment dans plusieurs contextes géologiques, notamment au niveau des dorsales océaniques.

Document 3 – Structures du basalte et du gabbro



Basalte de dorsale océanique



Gabbro de la croûte océanique

Pyroxène

Olivine

Plagioclase

verre

Photographies de lames minces de roches observées au microscope en lumière polarisée et analysée (grossissement x40).

Source : <http://www.ipgp.fr/fr> Catherine Mével

Source : Banque Nationale de photo en SVT-Lyon www2.ac-lyon.fr/enseigne/biologie/photossq/photos.php

- 5- Ranger par ordre d'échelle croissante les 5 termes suivants : roche, atome, cristal, maille, minéral. Quels termes mobiliser pour décrire les photographies du document 3 ?
- 6- Comparer la structure cristalline de ces deux échantillons de roches, puis, à partir des informations précédentes, proposer une explication des différences observées.



Exercice 3 (au choix) – Niveau première

Thème « Le Soleil, notre source d'énergie »

La photosynthèse artificielle

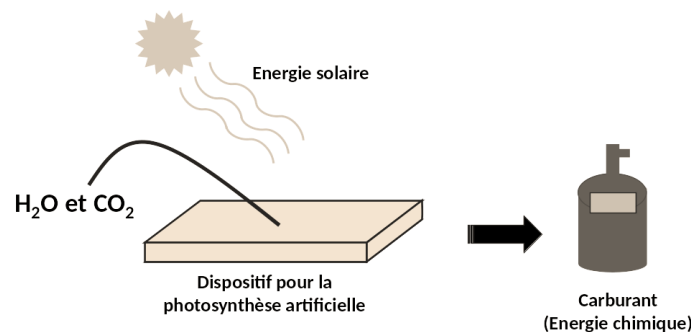
Sur 12 points

La photosynthèse est une réaction biochimique qui se produit chez les végétaux et certains micro-organismes. Depuis la fin des années 1980, des laboratoires cherchent à mettre au point des technologies de photosynthèse dite « artificielle » qui s'inspirent du processus naturel dans le but de produire de la matière organique pouvant constituer une ressource d'énergie verte pour produire de l'électricité.

L'objectif de ce sujet est d'expliquer l'intérêt de la photosynthèse artificielle et d'étudier la possibilité d'utiliser des dispositifs de photosynthèse artificielle pour alimenter un foyer en électricité.

Partie 1 – La conversion de l'énergie solaire en énergie chimique par les photosynthèses

Les dispositifs de photosynthèse artificielle sont conçus avec des matériaux spéciaux qui sont capables de capter et convertir l'énergie solaire en énergie chimique stockée dans les carburants formés (produits carbonés et/ou dihydrogène).



Principe de la photosynthèse artificielle

Produit par l'auteur

Cette énergie chimique pourra ensuite être convertie en électricité. La photosynthèse artificielle s'appuie sur le principe de la photosynthèse naturelle qui nécessite de l'énergie lumineuse.



Partie 2 – Efficacité énergétique de la photosynthèse artificielle

L'efficacité énergétique (rapport entre l'énergie chimique reçue et l'énergie solaire utilisée) de la photosynthèse naturelle ne dépasse pas les 1 % chez les végétaux. À l'heure actuelle, l'efficacité énergétique de la photosynthèse artificielle est également faible.

- 2- La puissance surfacique solaire moyenne reçue au sol est de 350 W.m^{-2} . La surface d'un dispositif de photosynthèse artificielle est de 10 cm^2 .

Montrer que la puissance solaire reçue par le dispositif est égale à $0,35 \text{ W}$.

- 3- Calculer l'énergie solaire reçue par le dispositif pour une durée d'ensoleillement de 6 h par jour.

L'énergie reçue et stockée chimiquement par le dispositif pour une durée d'ensoleillement de 6 h par jour est égale à $1,8 \times 10^2 \text{ J}$.

- 4- Calculer l'efficacité énergétique du dispositif. Comparer cette valeur avec celle de la photosynthèse naturelle.

Pour la question suivante, on admettra que toute l'énergie stockée chimiquement par le dispositif peut être convertie en électricité pouvant alimenter un foyer et que la durée quotidienne d'ensoleillement est de 6 h. La consommation quotidienne d'électricité par personne par foyer en France est de 6 kWh.

- 5- Déterminer le nombre nécessaire de dispositifs pour fournir quotidiennement en électricité un foyer composé de 5 personnes.

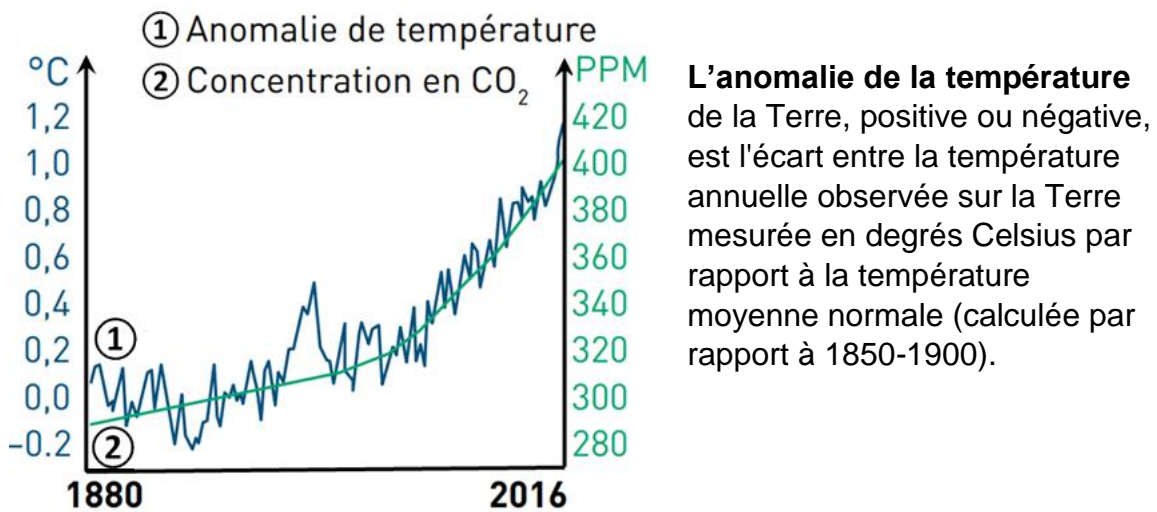
Indication : le Watt-heure (Wh) est une unité physique qui correspond à l'énergie consommée ou délivrée par un système d'une puissance de 1 Watt pendant une durée d'une heure.

- 6- Calculer la surface totale occupée par l'ensemble des dispositifs.

Conclure sur la possibilité d'utilisation des dispositifs de photosynthèse artificielle pour alimenter quotidiennement un foyer en électricité.



Document 4 – Évolution de l'anomalie de température moyenne globale de la Terre (en °C) et de la concentration des émissions de dioxyde de carbone (en parties par millions : ppm) de 1880 à 2016



L'anomalie de la température de la Terre, positive ou négative, est l'écart entre la température annuelle observée sur la Terre mesurée en degrés Celsius par rapport à la température moyenne normale (calculée par rapport à 1850-1900).

Source : d'après M. Fontecave ; « Photosynthèse : du CO₂ aux carburants solaires » ; Colloque Chimie et lumière, 26 février 2020, Fondation de la Maison de la Chimie.

- 7- À l'aide des documents 2 à 4 ainsi que des connaissances, discuter de l'intérêt de la photosynthèse artificielle en lien avec les défis auxquels l'humanité est confrontée.