

CLASSE : Première

E3C :  E3C1  E3C2  E3C3VOIE :  Générale

ENSEIGNEMENT : Enseignement scientifique

DURÉE DE L'ÉPREUVE : 1 h

CALCULATRICE AUTORISÉE :  Oui  Non

## Le Soleil, source de vie sur Terre ?

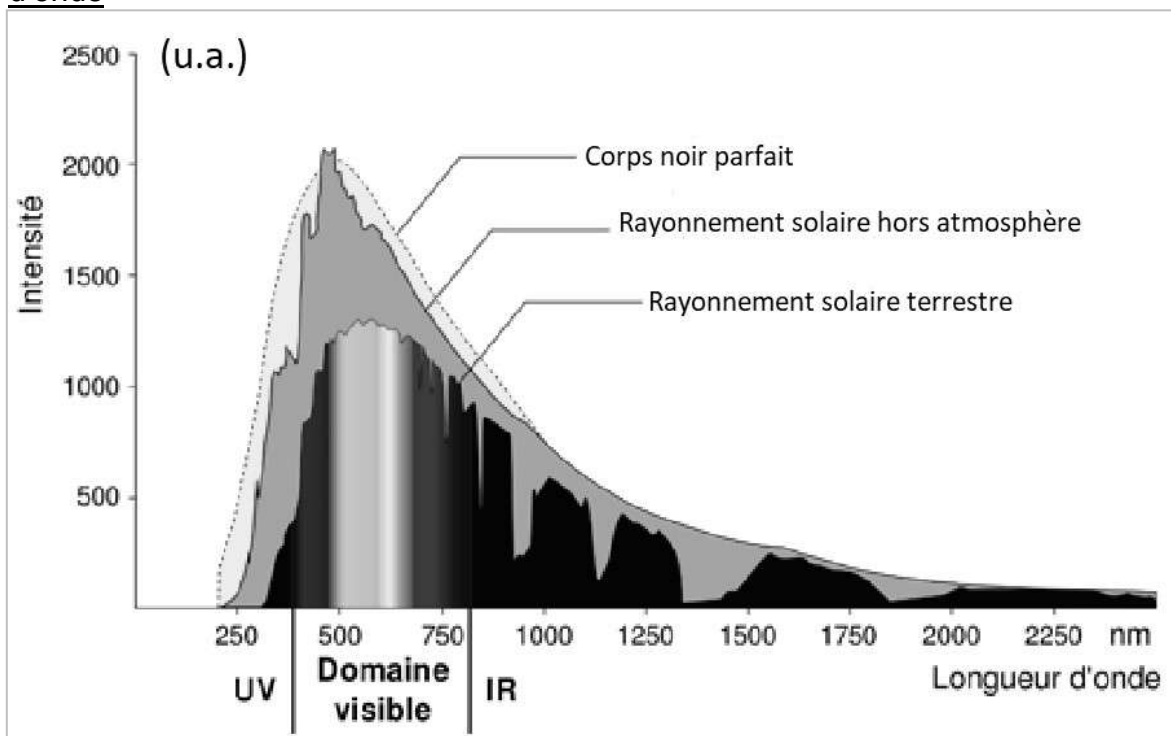
Sur 10 points

Thème « Le Soleil, notre source d'énergie »

Le Soleil émet un rayonnement électromagnétique dans toutes les directions ; une partie de ce rayonnement est reçue par la Terre et constitue une source d'énergie essentielle à la vie. De même, l'atmosphère terrestre contribue à créer des conditions propices à la vie sur Terre.

### Partie 1. Le rayonnement solaire

Document 1 : spectre du rayonnement émis par le Soleil en fonction de la longueur d'onde



D'après [https://www.ilephysique.net/img/forum\\_img/0258/forum\\_258713\\_1.jpg](https://www.ilephysique.net/img/forum_img/0258/forum_258713_1.jpg)

La relation entre la température en degrés Celsius  $\theta$  ( $^{\circ}\text{C}$ ) et la température absolue  $T$  en kelvins (K) est :  $T(\text{K}) = 273 + \theta(^{\circ}\text{C})$ .

Le Soleil peut être modélisé par un corps noir, qui émet un rayonnement thermique correspondant à une température d'environ 5800 K.

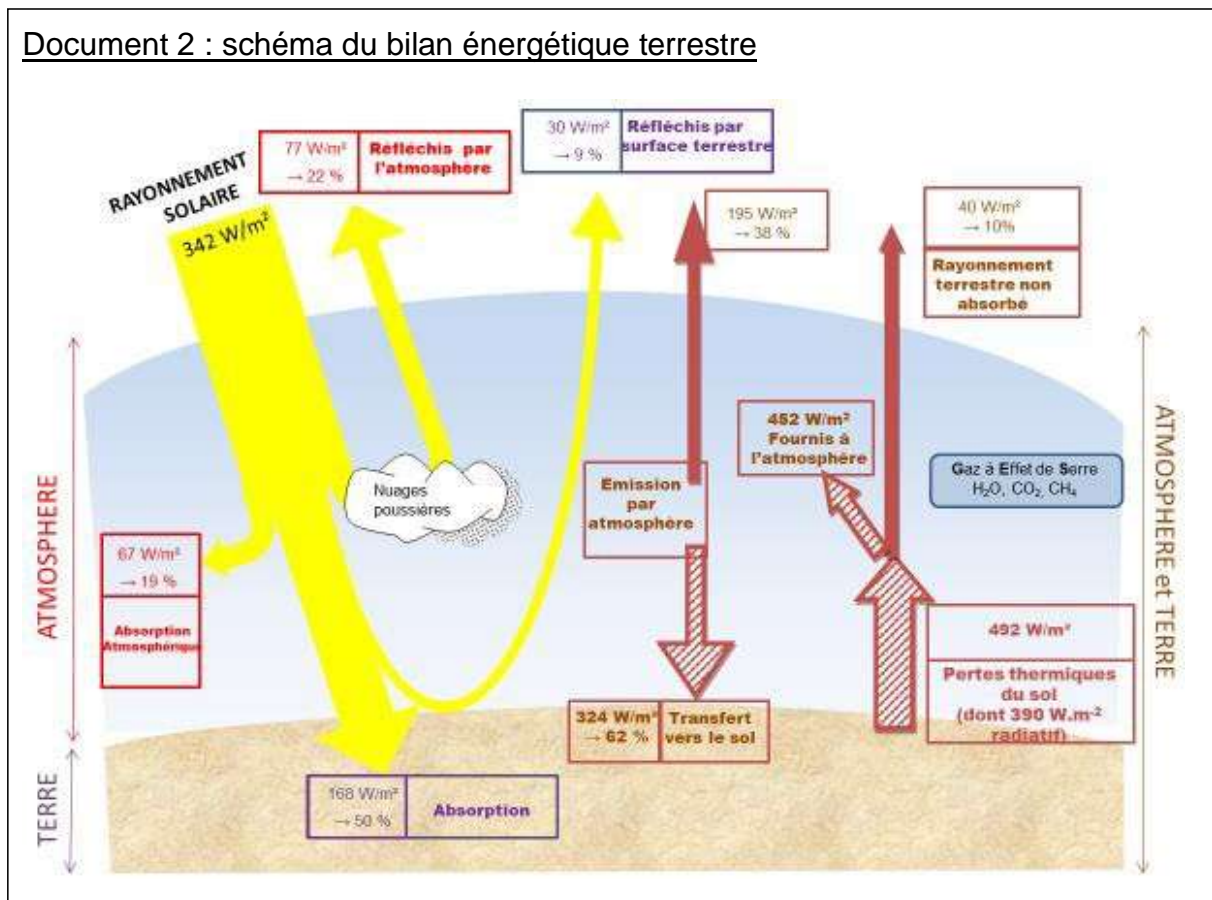
La loi de Wien est la relation entre la température de surface  $T$  d'un corps et la longueur d'onde  $\lambda_{\text{max}}$  au maximum d'émission :

$$\lambda_{\text{max}} \times T = 2,90 \times 10^{-3} \text{ m.K} \quad \text{avec } T \text{ en kelvins et } \lambda_{\text{max}} \text{ en mètres.}$$

1- Déterminer approximativement, à partir du document 1, la valeur de la longueur d'onde correspondant au maximum d'intensité du rayonnement solaire hors atmosphère ?

2- Justifier par un calcul que dans l'hypothèse où le soleil est modélisé par un corps noir, sa température de surface est voisine de 5800 K.

Document 2 : schéma du bilan énergétique terrestre



Le schéma précédent présente les flux énergétiques émis, diffusés et réfléchis par les différentes parties de l'atmosphère. L'albédo terrestre moyen est de 30 %.

Les flèches pleines correspondent à des transferts radiatifs. Les flèches hachurées correspondent à des transferts mixtes- radiatifs et non radiatifs.

Sont précisés : les puissances par unité de surface associées à chaque transfert et le pourcentage qu'elles représentent relativement à la puissance solaire incidente ( $342 \text{ W}\cdot\text{m}^{-2}$ ).

Document créé par l'auteur

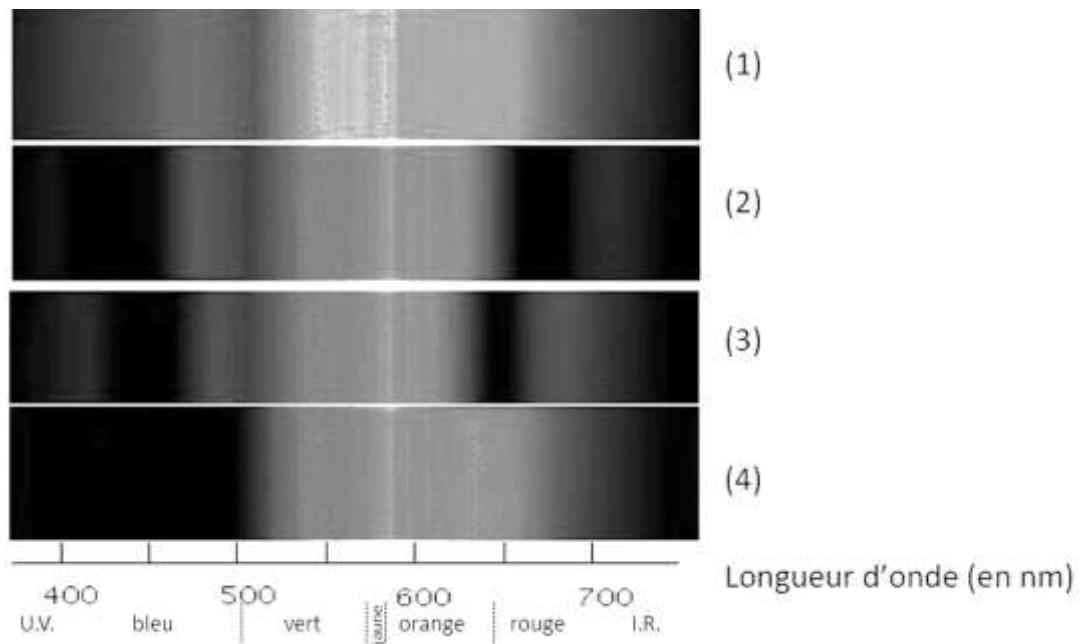
**3-** Définir l'albédo terrestre à l'aide de vos connaissances.

**4-** À partir des valeurs indiquées dans le document 2, montrer que le bilan énergétique à la surface de la Terre est équilibré, autrement dit que la puissance que la Terre reçoit est égale à celle qu'elle fournit à l'extérieur. Montrer que cela est également le cas pour le système global Terre-atmosphère.

## Partie 2. La conversion de l'énergie solaire

### Document 3 : spectre des chlorophylles

Les organismes chlorophylliens renferment de nombreux pigments photosynthétiques comme les chlorophylles a et b, et les caroténoïdes. En faisant traverser par de la lumière blanche (spectre 1), des solutions contenant chacune un seul de de ces pigments, on obtient les spectres suivants : chlorophylle a (spectre 2), chlorophylle b (spectre 3) et caroténoïdes (spectre 4).



D'après <http://www.snv.jussieu.fr/bmedia/Photosynthese/exp233.html>

**5- Pour chacune des propositions suivantes (5.1 à 5.3), indiquer la bonne réponse.**

**5-1-** Ces différents spectres nous permettent alors :

- a- de déterminer la température de la plante.
- b- d'en déduire la composition chimique des pigments.
- c- d'en déduire les longueurs d'ondes absorbées par chaque pigment photosynthétique.
- d- d'en déduire la quantité de chaque pigment.

**5-2-** Dans la cellule, l'énergie solaire captée par les pigments photosynthétiques :

- a- permet la synthèse de la matière minérale.
- b- permet la synthèse de la matière organique.
- c- permet la consommation de matière organique.
- d- permet la consommation de dioxygène.

**5-3-** L'être humain est dépendant de l'énergie solaire utilisée par les plantes pour son fonctionnement car, en présence de lumière et lors de la photosynthèse, les plantes produisent :

- a- matière organique et  $O_2$  .
- b- matière organique et  $CO_2$  .
- c- matière minérale et  $O_2$  .
- d- matière minérale et  $CO_2$ .