

CLASSE : Première

E3C : E3C1 E3C2 E3C3

VOIE : Générale

ENSEIGNEMENT : Enseignement scientifique

DURÉE DE L'ÉPREUVE : 1 h

CALCULATRICE AUTORISÉE : Oui Non

L'énergie rayonnée par les étoiles et utilisation biologique du rayonnement solaire

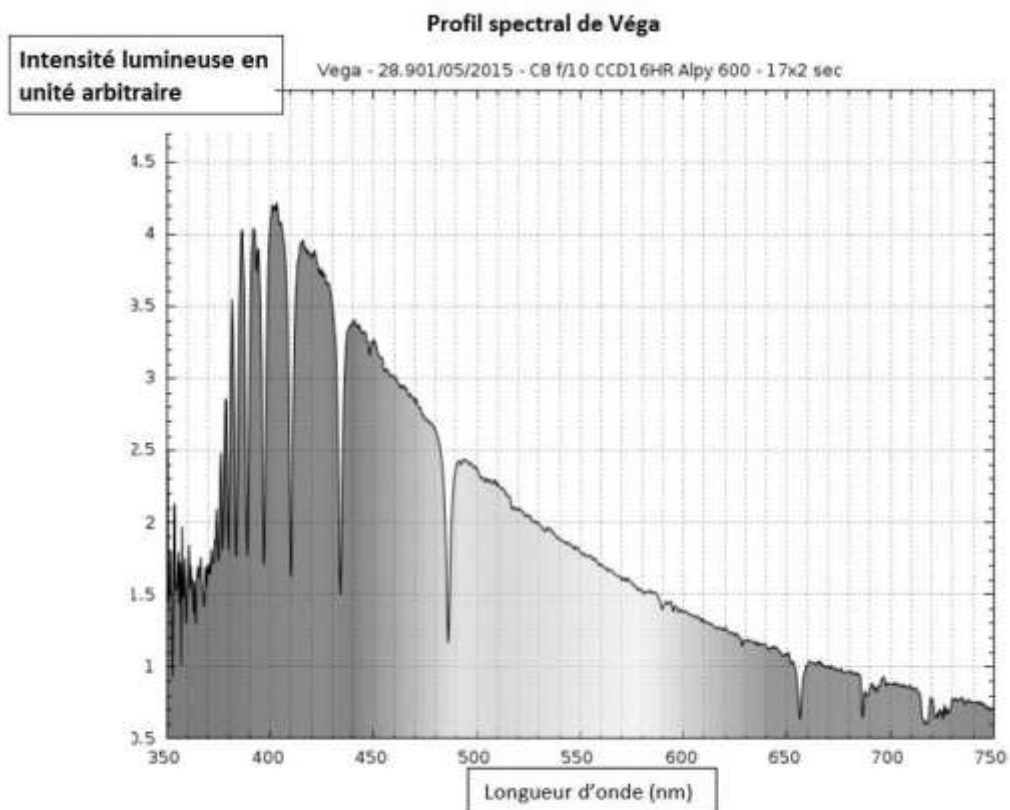
Sur 10 points

Thème « Le Soleil, notre source d'énergie »

Les étoiles, comme notre Soleil ou Véga de la constellation de la Lyre, sont des sources d'énergie.

1- Nommer et décrire le mécanisme qui est à l'origine de l'énergie rayonnée par une étoile.

Document 1. Informations sur la lumière émise par Véga et sur l'influence de la température de surface



Source : ci2mrdutoit.weebly.com

Rappel sur la loi de Wien : la longueur d'onde correspondant à l'intensité lumineuse maximale λ_{max} est donnée par

$$\lambda_{max} = \frac{2,89 \cdot 10^{-3}}{T}$$

avec λ_{max} en mètres et T en kelvins.

Relation entre température Θ en degrés Celsius ($^{\circ}\text{C}$) et température T en kelvins (K) : $\Theta = T - 273,15$.

La longueur d'onde correspondante à l'intensité lumineuse maximale pour le Soleil est $\lambda_{max} = 500 \text{ nm}$.

À partir de vos connaissances et des informations apportées par les documents, répondre aux questions suivantes.

2- Indiquer si la température de surface de l'étoile Véga est supérieure ou inférieure à celle du Soleil. Justifier votre réponse.

3- Recopier sur votre copie la proposition la plus juste parmi les suivantes et justifier votre réponse.

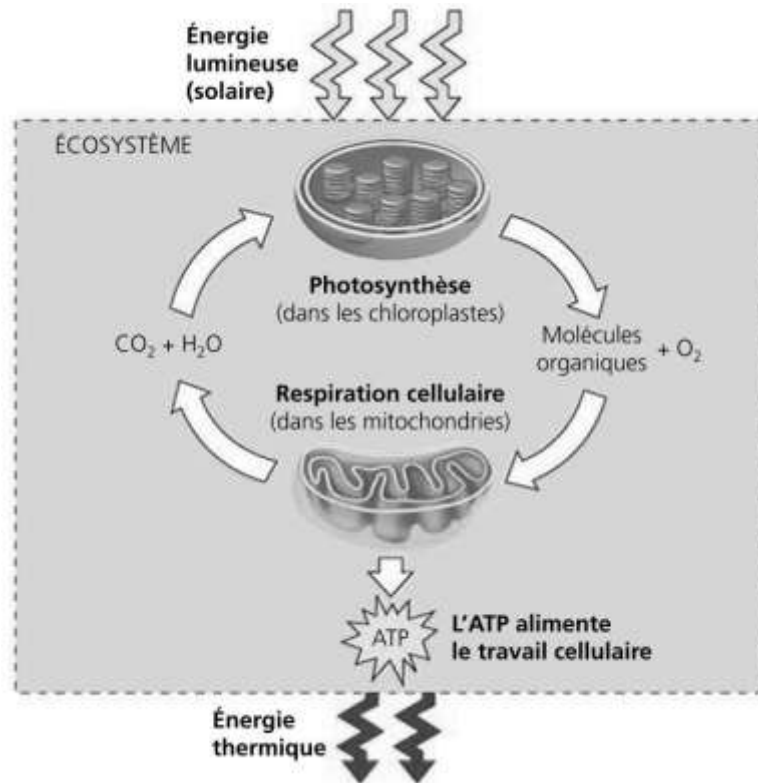
La température de surface de l'étoile Véga vaut environ :

- 750 K
- 7500 K
- 7200 $^{\circ}\text{C}$
- 72000 $^{\circ}\text{C}$

4- L'énergie nécessaire à la production de biomasse par les animaux provient indirectement du Soleil. Justifier cette affirmation en s'appuyant sur des informations extraites des documents 2 et 3 suivants, ainsi que de vos connaissances.

La réponse ne doit pas excéder une page.

Document 2. Photosynthèse, respiration et fonctionnement d'une plante



La photosynthèse est un métabolisme qui se déroule dans les cellules chlorophylliennes. La respiration cellulaire est un métabolisme se déroulant dans toutes les cellules et qui produit un type de molécule permettant des transferts d'énergie donc le fonctionnement cellulaire : l'ATP (adénosine tri-phosphate).

Source : d'après *Biologie*, Reece, Urry *et al* ; 4^{ème} édition

Document 3. Représentation schématique des flux d'énergie et de matière organique (biomasse) dans un écosystème

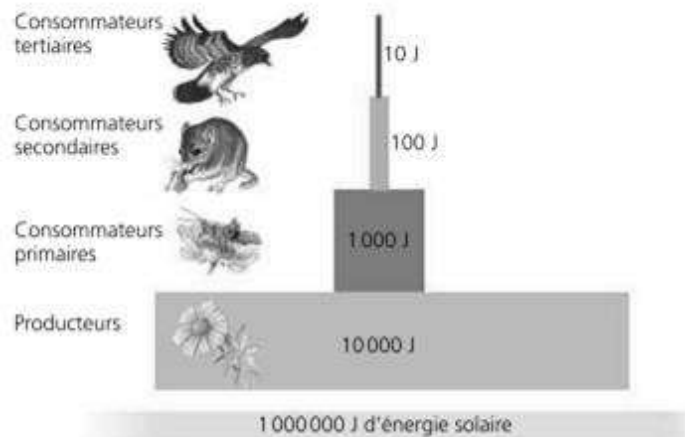


Figure 1 : une pyramide énergétique dans un écosystème terrestre

Les différents maillons d'un réseau trophique sont positionnés verticalement en fonction de leur place fonctionnelle (des producteurs primaires à la base aux consommateurs tertiaires en haut). Dans cet exemple d'écosystème, environ 10 % de l'énergie disponible à chaque niveau trophique sont convertis en nouvelle biomasse au niveau suivant, ce qui représente une efficacité trophique de 10 %.

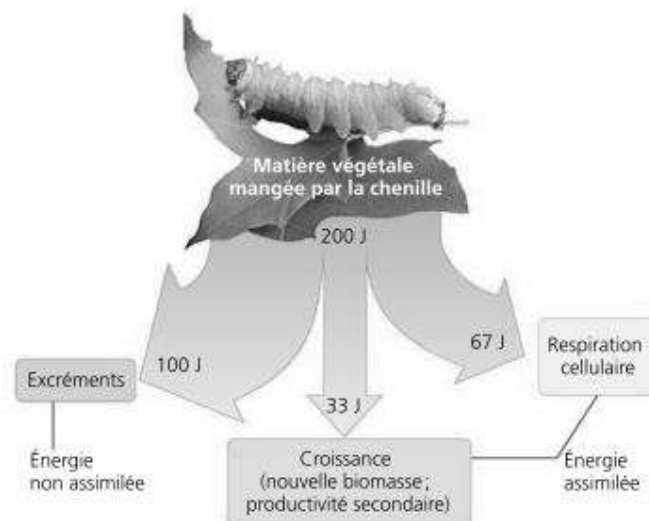


Figure 2 : la répartition de l'énergie dans un niveau de chaîne trophique

Moins de 17 % de la nourriture d'une chenille sert réellement à la production de biomasse (croissance).

D'après *Biologie*, Reece, Urry et al ; 4^{ème} édition.