

EXERCICE 3 - L'ACÉTANILIDE, MÉDICAMENT ANTIPYRÉTIQUE (4,5 points)

L'acétanilide est un composé organique, solide, blanc, obtenu par l'action de l'anhydride éthanoïque $(\text{CH}_3\text{CO})_2\text{O}$ sur l'aniline $\text{C}_6\text{H}_5\text{NH}_2$, et utilisé en pharmacologie. Sa formule semi-développée est donnée **figure 1** ci-dessous.

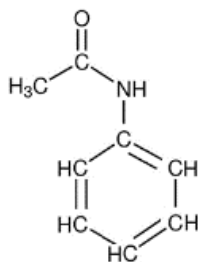
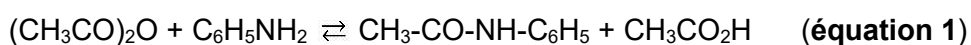


Figure 1 - Formule semi-développée de l'acétanilide

Cette molécule est obtenue selon la réaction d'équation :



Le but de l'exercice est d'étudier trois protocoles expérimentaux afin de déterminer les conditions optimales d'obtention de l'acétanilide $\text{CH}_3\text{-CO-NH-C}_6\text{H}_5$.

Pour simplifier, les différents composés sont notés par des lettres :



Données

- Masse volumique de l'anhydride éthanoïque : $\rho_A = 1,08 \text{ g}\cdot\text{mL}^{-1}$
- Masse molaire de l'anhydride éthanoïque : $M_A = 102,09 \text{ g}\cdot\text{mol}^{-1}$
- Masse volumique de l'aniline : $\rho_B = 1,02 \text{ g}\cdot\text{mL}^{-1}$
- Masse molaire de l'aniline : $M_B = 93,13 \text{ g}\cdot\text{mol}^{-1}$
- Masse molaire de l'acétanilide : $M_C = 135,17 \text{ g}\cdot\text{mol}^{-1}$
- Nombres d'onde et allure des bandes d'absorption de quelques liaisons :

Liaisons	Nombre d'onde (cm^{-1})	Intensité bande(s)
O-H (alcool)	3200-3400	Forte et large
C=O (aldéhyde)	1720-1740	Forte et fine
C=O (cétone)	1705-1725	Forte et fine
C=O (amide)	1650-1700	Intense
C=O (ester)	1700-1740	Forte et fine
C-O (alcool-acide-ester)	1050-1450	Forte
N-H (amide)	3100-3500	Forte

La molécule d'acétanilide

1. Représenter la formule topologique de l'acétanilide. Identifier la famille fonctionnelle à laquelle l'acétanilide appartient parmi les suivantes : alcool, aldéhyde, cétone, amide, ester.

2. Montrer que le spectre infrarouge de l'acétanilide (**figure 2** ci-dessous) permet de confirmer que l'acétanilide appartient bien à cette famille fonctionnelle.

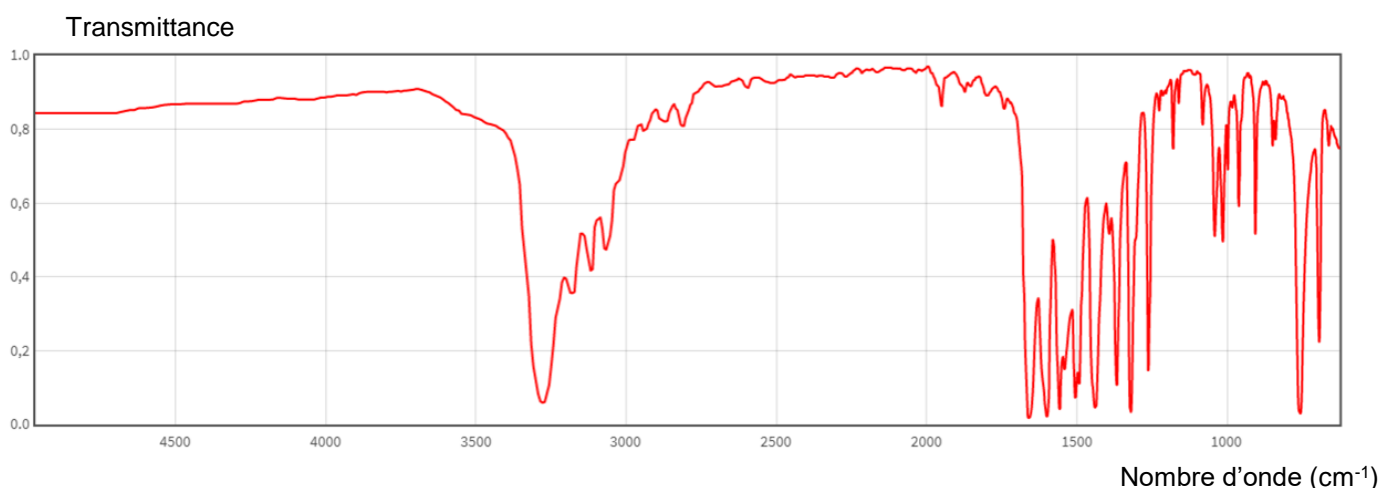


Figure 2 - Spectre infrarouge de l'acétanilide

Protocoles expérimentaux

On met en œuvre trois protocoles expérimentaux différents, présentés **figure 3** ci-dessous, afin d'étudier les conditions optimales de synthèse de l'acétanilide.

Les réactifs sont introduits dans un ballon adapté aux montages des protocoles 1, 2 ou 3.

Après une vingtaine de minutes, le mélange est refroidi dans un bain d'eau glacée afin de faire précipiter le produit C obtenu.

On filtre ensuite le mélange, on le rince à l'eau distillée, puis les cristaux obtenus sont séchés à l'étuve. On pèse ensuite le produit C.

Numéro du protocole	1	2	3
Montage utilisé	Chauffage à reflux	Chauffage à reflux adapté d'un montage DEAN-STAR [*]	Chauffage à reflux
Volume du réactif A (mL) (CH ₃ CO) ₂ O	15,0	15,0	30,0
Volume du réactif B (mL) C ₆ H ₅ NH ₂	14,5	14,5	14,5
Masse m_C du produit C (g) CH ₃ -CO-NH-C ₆ H ₅	10,7	21,4	14,3
Rendement r		1,0	0,67

Figure 3 – Récapitulatif des différents protocoles

(*) Un montage DEAN-STAR^k est un montage qui permet d'éliminer un produit au cours de sa formation.

Etude du protocole 1

3. Montrer que, dans le cas du protocole 1, les réactifs sont introduits dans le ballon en proportions stœchiométriques.

La constante d'équilibre K associée à l'équation 1 a pour valeur $K = 1,0$ à la température de l'expérience.

Par ailleurs, on admet que, dans les conditions de l'expérience, le quotient de réaction $Q_R(x)$ s'écrit, pour un avancement x donné :

$$Q_R(x) = \frac{n(C) \times n(D)}{n(A) \times n(B)}$$

$n(X)$ désigne la quantité de matière (en mol) de l'espèce X .

4. Donner la valeur du quotient de réaction initial, $Q_R(x = 0)$, pour le protocole 1.
5. En déduire le sens d'évolution spontanée de la réaction chimique d'équation 1.
6. Recopier et compléter le tableau d'avancement de la réaction de formation de l'acétanilide.

	Avancement x	$(\text{CH}_3\text{CO})_2\text{O} + \text{C}_6\text{H}_5\text{NH}_2 \rightleftharpoons \text{CH}_3\text{-CO-NH-C}_6\text{H}_5 + \text{CH}_3\text{CO}_2\text{H}$			
État initial	$x = 0$	$n(A)_i$	$n(B)_i$	0	0
État final	x_f				

7. Déterminer la masse maximale théorique m_{max} de produit C qui serait obtenue si la réaction était totale pour le protocole 1.
8. Exprimer le rendement r de la réaction pour le protocole 1 en fonction de m_C (voir figure 3) et de m_{max} . Calculer sa valeur.
9. Exprimer le quotient de réaction $Q_R(x = x_f)$ à l'état final pour le protocole 1 en fonction de l'avancement final x_f .
10. Calculer la valeur de $Q_R(x = x_f)$ et, à partir de cette valeur, indiquer si l'état d'équilibre est atteint.

Les protocoles 2 et 3

11. Expliquer pourquoi la mise en œuvre des protocoles 2 et 3 permet d'optimiser le rendement.

Bilan

12. Indiquer le protocole le plus intéressant parmi les trois en justifiant.