


Modèle CCYC : ©DNE																				
Nom de famille (naissance) : <small>(Suivi s'il y a lieu, du nom d'usage)</small>																				
Prénom(s) :																				
N° candidat :											N° d'inscription :									
 Liberté • Égalité • Fraternité RÉPUBLIQUE FRANÇAISE	(Les numéros figurent sur la convocation.)																			
Né(e) le :			/			/														

1.1

## Exercice 2 (au choix) – Niveau première

Thème « Son, musique et audition »

### Exposition au bruit

Sur 12 points

Le bruit fait partie de la vie. D'ailleurs, l'absence totale de bruit est unanimement reconnue comme très difficilement supportable pour l'homme. Pourtant, certaines situations d'exposition au bruit, dans la vie de tous les jours ou au travail, peuvent être néfastes pour la santé. Aujourd'hui, en France, plus de trois millions de salariés sont exposés sur leur lieu de travail, de manière prolongée, à des niveaux de bruit potentiellement nocifs. En outre, le bruit est reconnu comme cause de maladies professionnelles depuis 1963.

L'exposition au bruit sur le lieu de travail est susceptible d'affecter la santé des travailleurs. La perte auditive (surdité) en est l'effet le plus connu, mais le risque accru d'accidents et l'exacerbation du stress comptent aussi parmi les conséquences possibles du bruit au travail.

*Ministère du travail – « Bruit en milieu de travail »*

Dans cet exercice, nous allons nous intéresser à l'exposition au bruit. Dans un premier temps, nous discuterons comme comprendre l'outil de diagnostic utilisé par les médecins pour évaluer les pertes d'audition, puis nous verrons comment nous en préserver en fonction des situations.

### Partie 1 – Diagnostic d'une perte d'audition

Pour diagnostiquer la santé auditive d'un patient, un médecin peut réaliser un test d'audiométrie tonale. Ce test consiste à faire écouter au patient des sons de fréquence bien déterminée à des niveaux d'intensité croissants. Lorsque le patient entend le son, il le signifie. Le niveau d'intensité sonore le plus faible que perçoit un patient pour une fréquence  $f$  est son seuil d'audition. Nous le noterons  $L_{\text{seuil}}(f)$ .

En comparant le seuil d'audition du patient au seuil d'audition de référence (noté  $L_{\text{ref}}(f)$ ) établi pour des personnes ayant une santé auditive dans la norme, on définit la perte auditive  $P(f)$  du patient :

$$P(f) = L_{\text{seuil}}(f) - L_{\text{ref}}(f)$$

Une valeur positive de la perte auditive correspond à un patient entendant moins bien que la normale. A l'inverse, une valeur négative de  $P(f)$  indique que le patient entend mieux que la normale.



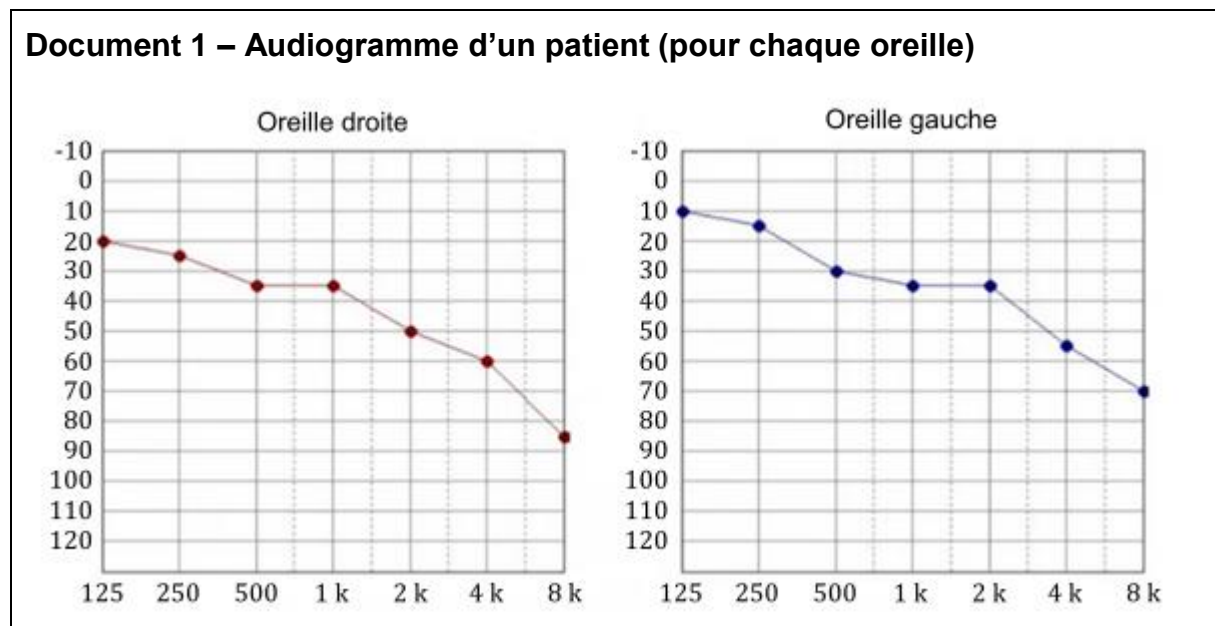
En mesurant la perte auditive du patient pour différentes fréquences du domaine audible (20 Hz – 20 kHz), on obtient un audiogramme tel que ceux représentés sur le document 1.

Sur ce diagramme, on porte :

- La fréquence en abscisse ;
- La perte auditive en ordonnée suivant un axe inversé (la perte augmente lorsque l'on descend).

1- Préciser les unités des grandeurs sur chacun de ces axes.

2- Justifier que l'audiogramme ne couvre pas tout le domaine des fréquences audibles. Proposer une explication à ce constat.



Le patient se plaint de demander de plus en plus souvent à ses interlocuteurs de répéter leurs propos.

On se donne quelques repères :

- La gamme de fréquence d'une voix plutôt grave va de 80 Hz à 400 Hz et celle d'une voix plutôt aigüe va de 300 Hz à 1500 Hz.
- Une conversation normale entre adultes se situe à un niveau sonore de l'ordre de 60 dB.

Modèle CCYC : ©DNE

Nom de famille (naissance) :

(Suivi s'il y a lieu, du nom d'usage)

Prénom(s) :

N° candidat :  N° d'inscription :

(Les numéros figurent sur la convocation.)

Né(e) le :  /  /



1.1

- Une conversation chuchotée se situe à un niveau sonore de l'ordre de 40 dB.
- Une conversation dans un environnement bruyant se situe à un niveau sonore de l'ordre de 80 dB.

**3-** Rédiger un court texte argumenté expliquant pourquoi le patient rencontre des difficultés à comprendre une conversation normale.

Pour mieux caractériser la gêne que peut représenter la perte auditive de ce patient, nous allons considérer le cas de la perception de l'arrivée d'une moto dans la rue.

Lorsqu'une moto en marche se situe à une distance d'un mètre derrière le patient (distance  $d_0 = 1$  m), elle émet un bruit dont le niveau d'intensité sonore au niveau des oreilles du patient est  $L_0 = 90$  dB.

Lorsque la moto en marche se situe à une distance  $d$  derrière le patient, le bruit qu'elle émet atteint les oreilles du patient avec un niveau d'intensité sonore  $L(d)$  dont la valeur est donnée par la formule :

$$L(d) = L_0 - 20 \times \log\left(\frac{d}{d_0}\right)$$

Par ailleurs, une moto émet des sons dans une gamme de fréquence autour de 4 kHz.

Enfin, on considère que dans un environnement urbain calme, une personne sans perte auditive commence à percevoir la moto lorsque l'intensité sonore  $L$  atteint 50 dB, ce qui correspond à une distance de 100 m d'après la formule ci-dessus.

- 4-** Déterminer la distance à partir de laquelle le patient commence à percevoir la présence de la moto.
- 5-** Commenter cette valeur et en déduire un exemple de l'impact de cette perte auditive sur sa vie quotidienne.

**Partie 2 – Se protéger du bruit**

Pour se prémunir des problèmes de santé induit par le bruit, il est important d'utiliser des dispositifs de protection. Toutefois, ceux-ci doivent être adaptés au contexte.

Par exemple, dans un environnement de travail bruyant, il faut pouvoir se prémunir des bruits les plus agressifs pour l'oreille (situés principalement dans une bande de fréquence autour de 4 000 Hz) tout en restant disponible pour des échanges conversationnels (bande de fréquence de 80 Hz à 1 500 Hz).



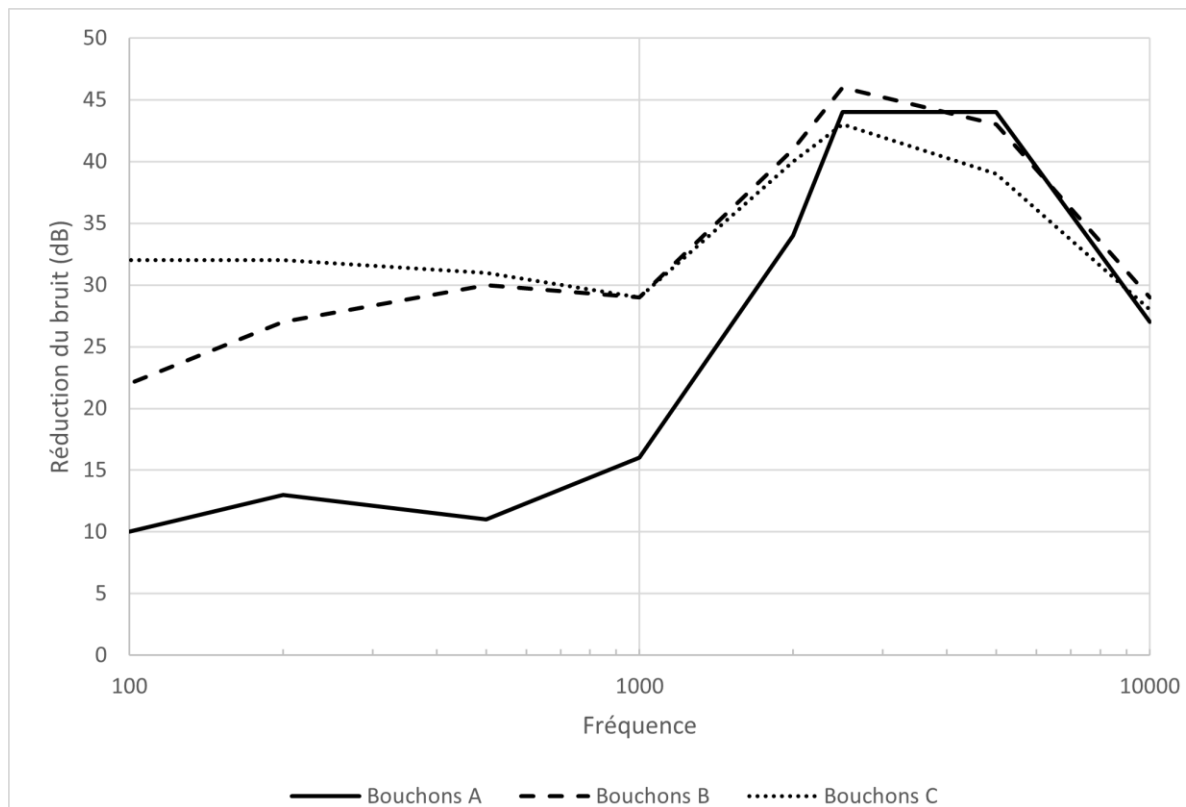
En revanche, pour bien dormir dans un environnement nocturne bruyant, il est préférable de réduire l'ensemble des bruits.

Le graphique du document 2 présente la réduction de bruit en fonction de la fréquence pour trois bouchons d'oreille en mousse réalisés dans des matériaux différents.

6- Rédiger un court paragraphe argumenté expliquant quel type de bouchons d'oreille (A, B ou C) est le plus adapté pour se prémunir du bruit dans chacun des deux contextes précédents :

- Un environnement de travail bruyant.
- Une nuit de sommeil dans un environnement nocturne bruyant.

**Document 2 – Réduction du bruit par trois types de bouchons d'oreille**



Source : D'après l'article « Les meilleurs bouchons d'oreilles pour mieux dormir » paru sur le site [lemonde.fr](http://lemonde.fr)