



Exercice 3 (au choix) – Niveau première

Thème « La Terre, un astre singulier »

Histoire d'eau : deux méthodes historiques permettant d'estimer l'âge de la Terre

Sur 12 points

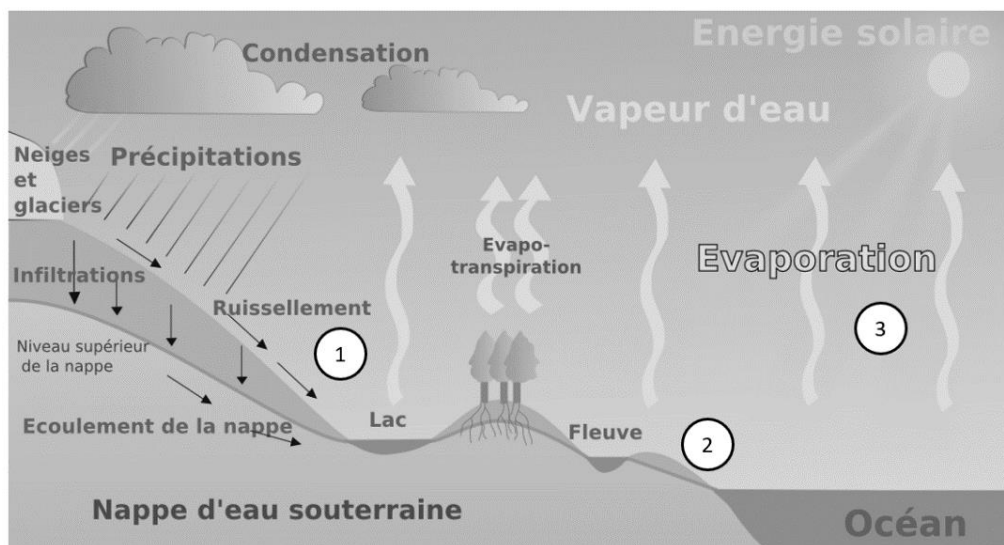
Deux approches ont permis d'estimer l'âge de la Terre au cours du XIXe siècle. La première utilise la mesure de la salinité de l'eau des océans tandis que la seconde se base sur l'étude des phénomènes de sédimentation et d'érosion.

Partie 1 – Estimation de l'âge de la Terre à l'aide de la salinité des eaux de mer

À la toute fin du XIXe siècle, le physicien irlandais John Joly proposa une méthode d'estimation de l'âge de la Terre basée sur le taux de sel dans les océans : la salinité.

Les eaux de pluie ruissellent à la surface de la Terre et se chargent en sel contenu dans les roches de la croûte terrestre pour ensuite alimenter les rivières qui, à leur tour, se déversent dans les océans. La quantité de sel dissous dans les océans résulterait donc du déversement du sel contenu dans les rivières.

Document 1 – L'eau de ruissellement se charge en sels minéraux ①, les transporte vers l'océan ② d'où elle s'évapore ③



Source : d'après Wikipedia.fr (article « ruissellement »)

Modèle CCYC : ©DNE

Nom de famille (naissance) :


(Suivi s'il y a lieu, du nom d'usage)

Prénom(s) :

N° candidat : N° d'inscription :

(Les numéros figurent sur la convocation.)

Né(e) le : / /

 Liberté • Égalité • Fraternité
RÉPUBLIQUE FRANÇAISE

1.1

Données utilisées par John Joly :

- masse totale des océans sur Terre : $1,40 \times 10^{21}$ kg ;
- l'eau des océans contient environ 1,07 % en masse de sel dissous ;
- déversement des rivières dans les océans : $2,72 \times 10^4$ km³ d'eau par an ;
- concentration moyenne du sel dissous dans les rivières : 5 250 tonnes par km³.

La première question porte sur le calcul de la masse de sel contenue dans les océans.

- 1- Montrer que la masse de sel contenue dans les océans est de $1,5 \times 10^{16}$ tonnes environ. On fera apparaître le calcul.
- 2- Calculer la masse de sel apportée chaque année par les rivières à l'océan.
- 3- En déduire, comme l'a fait John Joly, que l'âge de la Terre calculé par cette méthode est d'environ 100 millions d'années.
- 4- En réalité, une partie du sel dissous subit une sédimentation dans certaines régions littorales et peut également être échangé avec du calcium lors de l'altération sous-marine du basalte. Commenter la validité de la méthode de calcul proposée par John Joly.

Partie 2 – Érosion

Document 2 – Un exemple de destruction due à l'érosion : les falaises de craie de Weald



Source : Wikipedia.fr (article « Parc National des South Downs »)



Document 3 – Un argument géologique avancé par Charles Darwin

« Je suis tenté de donner un autre exemple, celui, bien connu, de la dénudation¹ de Weald. Se tenir sur les Downs du Nord et regarder les Downs du Sud éloignés est une admirable leçon, car [...] on peut s'imaginer le grand dôme de rochers qui a dû recouvrir le Weald à une époque aussi proche que la dernière période du Crétacé.

La distance entre les Downs du Sud et du Nord est environ de 22 miles², et l'épaisseur des diverses formations est en moyenne de 1100 pieds³, selon le professeur Ramsay. [...] Si nous connaissions la vitesse à laquelle la mer érode en moyenne une ligne de falaises d'une hauteur donnée, nous pourrions mesurer le temps qui a été nécessaire pour dénuder le Weald. Cela, bien sûr, est impossible ; mais nous pouvons, pour faire une approximation grossière, supposer que la mer effrite des falaises de 500 pieds de hauteur à la vitesse d'un pouce par siècle. Cette estimation paraîtra au premier abord insuffisante mais elle correspond à l'érosion d'une falaise d'un mètre de haut sur toute une ligne côtière à peu près tous les 22 ans.

Je doute qu'aucune roche, même friable comme la craie, s'effriterait à une telle vitesse, sauf sur les côtes les plus exposées, bien que la dégradation d'une haute falaise soit accélérée par l'effritement des fragments qui tombent. D'autre part, je ne crois pas qu'il existe de ligne côtière longue de 10 ou 20 miles qui subisse une dégradation en même temps uniformément sur toute la longueur d'une côte escarpée. [...]

J'en conclus que, dans des circonstances normales, une dénudation d'un pouce par siècle sur toute la longueur d'une falaise de 500 pieds de haut serait une estimation suffisante.


À cette vitesse, d'après ces données, la dénudation du Weald a dû exiger 306 662 400 ans, disons 300 millions d'années. L'action de l'eau douce sur les pentes douces du Weald, lorsqu'elles ont été surélevées, n'a pu être bien grande, mais diminuerait cependant l'estimation ci-dessus. D'autre part, pendant des oscillations de niveau, et nous savons que cette surface y a été soumise, la surface a dû exister pendant des millions d'années sous forme de terre ferme, et échapper ainsi à l'action de la mer ; de même lorsqu'elle a été profondément immergée durant des périodes probablement tout aussi longues, elle aura de même échappé à l'action des vagues. De sorte que probablement il s'est écoulé une période bien supérieure à 300 millions d'années depuis la dernière période de l'ère secondaire. »

Extrait "Du laps de temps écoulé, déduit de l'appréciation de la rapidité des dépôts et de l'étendue des dénudations", L'origine des espèces, Charles Darwin, p. 339-341 (1859).

1 : La dénudation correspond à la dégradation des reliefs par érosion

2 : 1 mile = 1,6 kilomètre

3 : 1 pied = 30,5 cm

Modèle CCYC : ©DNE																				
Nom de famille (naissance) : <small>(Suivi s'il y a lieu, du nom d'usage)</small>																				
Prénom(s) :																				
N° candidat :											N° d'inscription :									
 <small>Liberté • Égalité • Fraternité</small> <small>RÉPUBLIQUE FRANÇAISE</small>	<small>(Les numéros figurent sur la convocation.)</small>																			
	Né(e) le :			/			/													

1.1

Les questions suivantes visent à expliquer la démarche utilisée par C. Darwin permettant d'estimer un âge minimal pour la Terre.

- 5- Nommer et expliquer le phénomène géologique qui permet à Darwin de donner un âge à la structure étudiée.
- 6- Relever, dans le document 3, l'âge de la Terre obtenu par Darwin et expliquer la méthode qu'il a utilisée pour déterminer cet âge.
- 7- Relever, dans le document 3, l'événement effectivement daté par Darwin et justifier que l'âge de la Terre est forcément supérieur à l'âge calculé.
- 8- Relever, dans le document 3, un argument rendant le calcul précédent incertain, en précisant s'il tend à augmenter ou diminuer l'âge calculé précédemment.

Partie 3 – Bilan

- 9- Donner l'âge de la Terre qui fait consensus actuellement et expliquer brièvement par quelle méthode il a été déterminé.
- 10- Commenter les résultats obtenus par les deux méthodes des parties 1 et 2 au regard de l'âge de la Terre estimé aujourd'hui.
- 11- En vous appuyant sur les documents et sur vos connaissances, expliquer en quoi les méthodes de détermination de l'âge de la Terre présentées ici relèvent des caractéristiques de l'activité scientifique suivantes :
 - 11-a- Les savoirs évoluent au cours du temps (par continuité et/ou rupture et controverses) ; un savoir scientifique est fiable et robuste mais jamais certain et absolu.
 - 11-b- Plusieurs démarches permettent l'élaboration du savoir ; dépendantes de l'évolution des techniques.