

## Exercice 1 – Niveau première

Thème « Le Soleil, notre source d'énergie »

### La photosynthèse artificielle

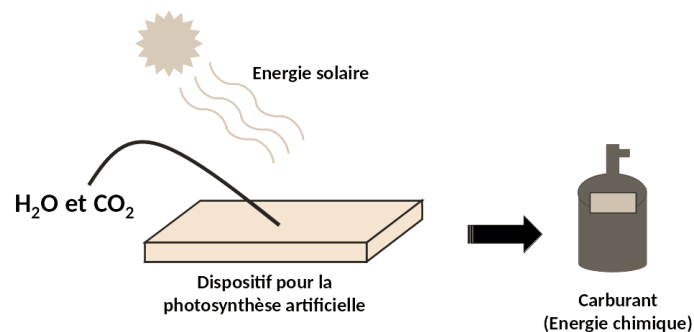
Sur 10 points

La photosynthèse est une réaction biochimique qui se produit chez les végétaux et certains micro-organismes. Depuis la fin des années 1980, des laboratoires cherchent à mettre au point des technologies de photosynthèse dite « artificielle » qui s'inspirent du processus naturel dans le but de produire de la matière organique pouvant constituer une ressource d'énergie verte pour produire de l'électricité.

**L'objectif de ce sujet est d'expliquer l'intérêt de la photosynthèse artificielle et d'étudier la possibilité d'utiliser des dispositifs de photosynthèse artificielle pour alimenter un foyer en électricité.**

#### Partie 1 – La conversion de l'énergie solaire en énergie chimique par les photosynthèses

Les dispositifs de photosynthèse artificielle sont conçus avec des matériaux spéciaux qui sont capables de capter et convertir l'énergie solaire en énergie chimique stockée dans les carburants formés (produits carbonés et/ou dihydrogène).



Principe de la photosynthèse artificielle

*Produit par l'auteur*

Cette énergie chimique pourra ensuite être convertie en électricité. La photosynthèse artificielle s'appuie sur le principe de la photosynthèse naturelle qui nécessite de l'énergie lumineuse.

Modèle CCYC : ©DNE

Nom de famille (naissance) :

(Suivi s'il y a lieu, du nom d'usage)

Prénom(s) :

N° candidat :

N° d'inscription :



Liberté • Égalité • Fraternité  
RÉPUBLIQUE FRANÇAISE

Né(e) le :

(Les numéros figurent sur la convocation.)

1.1

### Document 1 – Expérience réalisée sur une feuille de *Pelargonium*

Une expérience est réalisée en laboratoire avec une feuille de *Pelargonium*, recouverte partiellement d'un cache, éclairée pendant 12 heures. Le dispositif expérimental est présenté dans la figure A ci-dessous. Le cache est ensuite enlevé et la feuille est décolorée dans de l'éthanol bouillant sous hotte en présence d'un dispositif réfrigérant. La feuille est ensuite colorée à l'aide de l'eau iodée. L'eau iodée adopte une coloration noir-violet en présence d'amidon (glucide). Elle reste jaune en l'absence d'amidon. Les résultats obtenus sur la feuille sont présentés sur la photographie de la figure B.



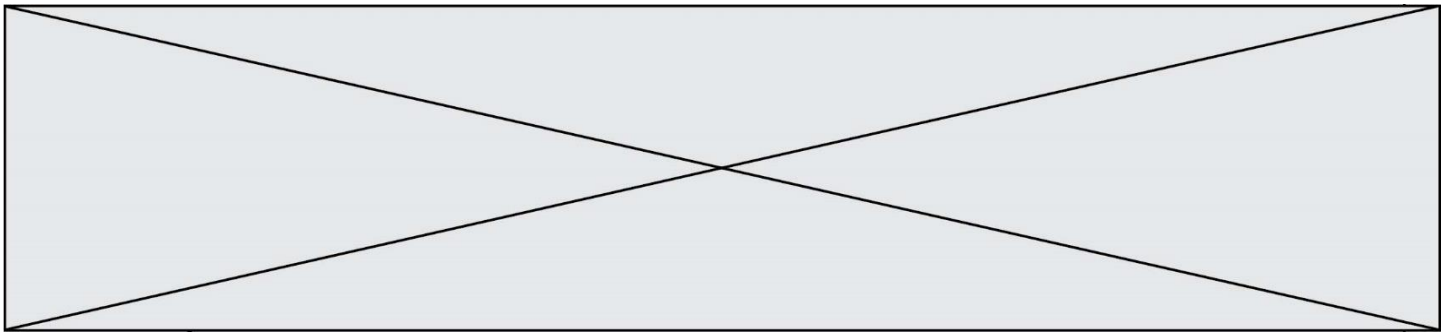
Figure A : dispositif expérimental présentant le cache posé sur la feuille de *Pélargonium*.



Figure B : résultats obtenus suite à la coloration à l'eau iodée.

Source : d'après <https://planet-vie.ens.fr/thematiques/manipulations-en-svt/experiences-sur-la-photosynthese>

- 1- Expliquer en quoi les photosynthèses naturelle et artificielle sont considérées comme des modes de conversion d'une énergie solaire en une énergie chimique à partir des données tirées du document 1 et de vos connaissances.



## Partie 2 – Efficacité énergétique de la photosynthèse artificielle

L'efficacité énergétique (rapport entre l'énergie chimique reçue et l'énergie solaire utilisée) de la photosynthèse naturelle ne dépasse pas les 1 % chez les végétaux. À l'heure actuelle, l'efficacité énergétique de la photosynthèse artificielle est également faible.

- 2- La puissance surfacique solaire moyenne reçue au sol est de  $350 \text{ W}\cdot\text{m}^{-2}$ . La surface d'un dispositif de photosynthèse artificielle est de  $10 \text{ cm}^2$ .

Montrer que la puissance solaire reçue par le dispositif est égale à  $0,35 \text{ W}$ .

- 3- Calculer l'énergie solaire reçue par le dispositif pour une durée d'ensoleillement de 6 h par jour.

L'énergie reçue et stockée chimiquement par le dispositif pour une durée d'ensoleillement de 6 h par jour est égale à  $1,8 \times 10^2 \text{ J}$ .

- 4- Calculer l'efficacité énergétique du dispositif. Comparer cette valeur avec celle de la photosynthèse naturelle.

Pour la question suivante, on admettra que toute l'énergie stockée chimiquement par le dispositif peut être convertie en électricité pouvant alimenter un foyer et que la durée quotidienne d'ensoleillement est de 6 h. La consommation quotidienne d'électricité par personne par foyer en France est de 6 kWh.

- 5- Déterminer le nombre nécessaire de dispositifs pour fournir quotidiennement en électricité un foyer composé de 5 personnes.

Indication : le Watt-heure (Wh) est une unité physique qui correspond à l'énergie consommée ou délivrée par un système d'une puissance de 1 Watt pendant une durée d'une heure.

- 6- Calculer la surface totale occupée par l'ensemble des dispositifs.

Conclure sur la possibilité d'utilisation des dispositifs de photosynthèse artificielle pour alimenter quotidiennement un foyer en électricité.

Modèle CCYC : ©DNE

Nom de famille (naissance) :


(Suivi s'il y a lieu, du nom d'usage)

Prénom(s) :

N° candidat :  N° d'inscription :

(Les numéros figurent sur la convocation.)

Né(e) le :  /  /



1.1

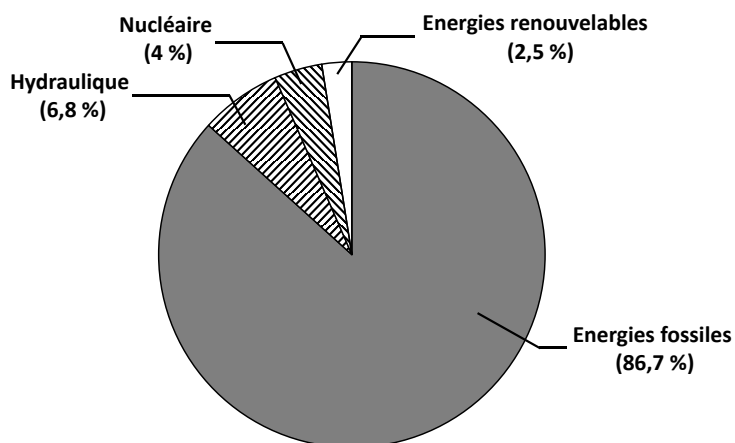
### Partie 3 – L'intérêt de la photosynthèse artificielle

#### Document 2 – Les besoins d'énergie dans le futur

La population mondiale estimée à 7,7 milliards d'habitants en 2019 ne cessera de croître pour atteindre 9,8 milliards d'habitants en 2050. En poursuivant le rythme actuel de consommation d'énergie, celle-ci passerait d'environ 17 térawatts en 2019 à 30 térawatts en 2050. (Note : 1 térawatt =  $10^{12}$  watts)

Source : d'après M. Fontecave ; « Photosynthèse : du CO<sub>2</sub> aux carburants solaires » ; Colloque Chimie et lumière, 26 février 2020, Fondation de la Maison de la Chimie.

#### Document 3 – Proportion de l'utilisation des différentes sources d'énergie sur la planète



Source : d'après M. Fontecave ; « Photosynthèse : du CO<sub>2</sub> aux carburants solaires » ; Colloque Chimie et lumière, 26 février 2020, Fondation de la Maison de la Chimie.

- 7- À l'aide des documents 2 et 3 ainsi que des connaissances, discuter de l'intérêt de la photosynthèse artificielle en lien avec les défis auxquels l'humanité est confrontée.