

Exercice 3 (au choix) – Niveau première

Thème « Son, musique et audition »

L'oreille et l'audition

Sur 12 points

L'audition joue un rôle primordial dans les interactions sociales. L'oreille est l'organe sensoriel de l'audition, dont on étudiera tout d'abord le fonctionnement avant d'envisager la prévention d'un traumatisme acoustique.

Partie 1 – L'oreille et son fonctionnement

Document 1 – L'oreille humaine

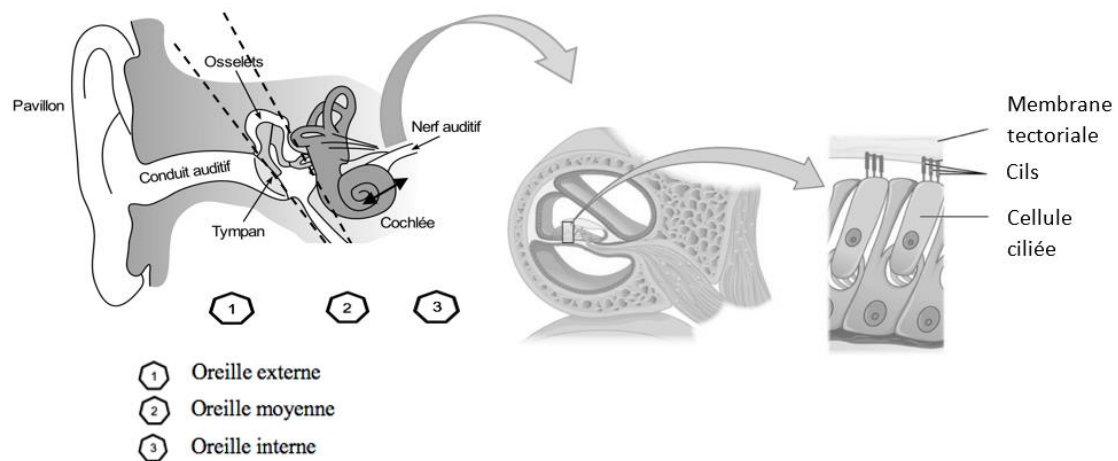


Figure A – Schéma anatomique de l'oreille humaine et détail de l'organisation de la cochlée déduite d'une coupe transversale effectuée au niveau de la double flèche noire

Sources : <https://fr.wikibooks.org/wiki/Neurosciences/L%27audition>
et https://fr.wikipedia.org/wiki/Organe_de_Corti

- 1- À l'aide de vos connaissances et du document 1, expliquer par un texte comment les différentes parties de l'oreille interviennent depuis la réception de la vibration sonore jusqu'à la naissance d'un message nerveux auditif.

Modèle CCYC : ©DNE

Nom de famille (naissance) :

(Suivi s'il y a lieu, du nom d'usage)

Prénom(s) :

N° candidat :

N° d'inscription :



Né(e) le :

(Les numéros figurent sur la convocation.)

1.1

Partie 2 – La prévention d'un traumatisme acoustique

Pour prévenir le risque lié aux sur-stimulations sonores, il existe des protections auditives de nature différente selon leur type d'utilisation.

On peut distinguer, par exemple, deux catégories de bouchons d'oreilles qui permettent de s'isoler du bruit :

- les bouchons en mousse, généralement jetables ;
- les bouchons moulés en silicone, fabriqués sur mesure et nécessitant la prise d'empreinte du conduit auditif. Ils sont lavables à l'eau et se conservent plusieurs années.

L'atténuation des sons par un bouchon est égale à la diminution du niveau d'intensité sonore perçu par l'oreille en présence du bouchon. Un fabricant fournit les courbes d'atténuation en fonction de la fréquence du son pour les deux types de bouchons (document 2).

Document 2 – Courbes d'atténuation du son correspondant aux deux types de bouchons

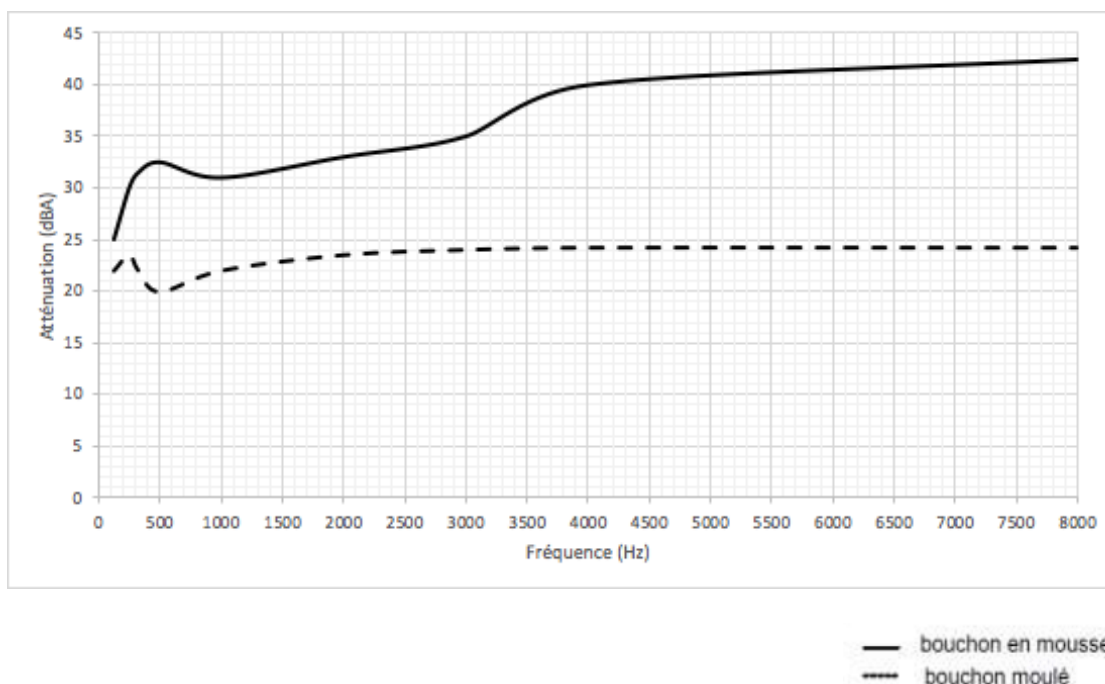
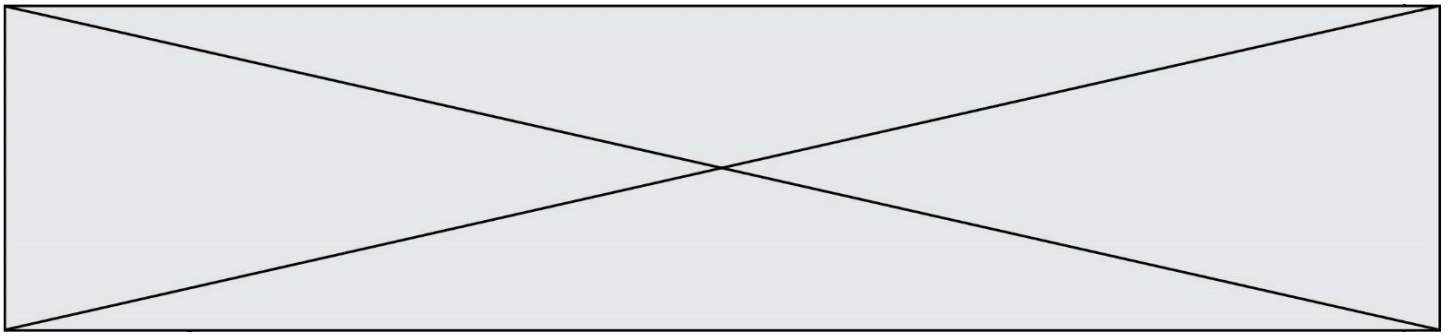


Figure B – Niveau sonore (en dBA) dû à un bouchon en fonction de la fréquence de l'onde (Hz) qui le traverse

Source : <https://fr.wikibooks.org/wiki/Neurosciences/L%27audition>.



Un musicien qui pratique régulièrement un instrument tel que la batterie ou la guitare électrique a besoin d'une atténuation du niveau sonore. Cependant, cette atténuation ne doit pas dépasser 25 dB afin qu'il entende suffisamment.

- 2- À l'aide du document 2, indiquer pour chaque bouchon si cette condition est respectée. Justifier.
- 3- En utilisant le document 2, indiquer si un bouchon en mousse atténue davantage les sons aigus ou les sons graves. Justifier en s'appuyant sur des valeurs.

Afin de comparer la qualité acoustique des deux types de bouchons, on a enregistré le son émis par une guitare, ainsi que les sons obtenus après passage à travers les deux types de bouchons. Le document 3 présente les résultats obtenus.

Document 3 – Spectres du son émis par une guitare et des sons restitués après passage à travers les deux types de bouchons

L'amplitude relative est le rapport entre une amplitude et une amplitude de référence, ici celle de la fréquence fondamentale.

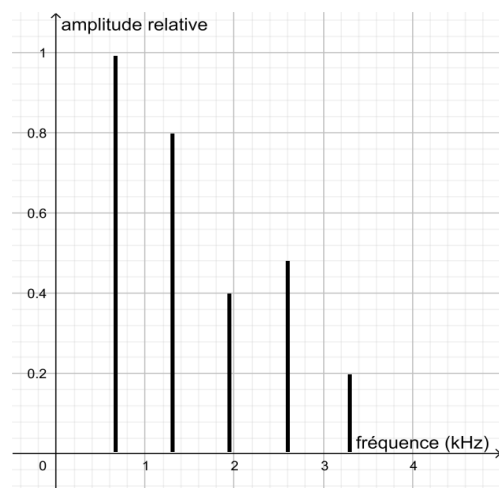
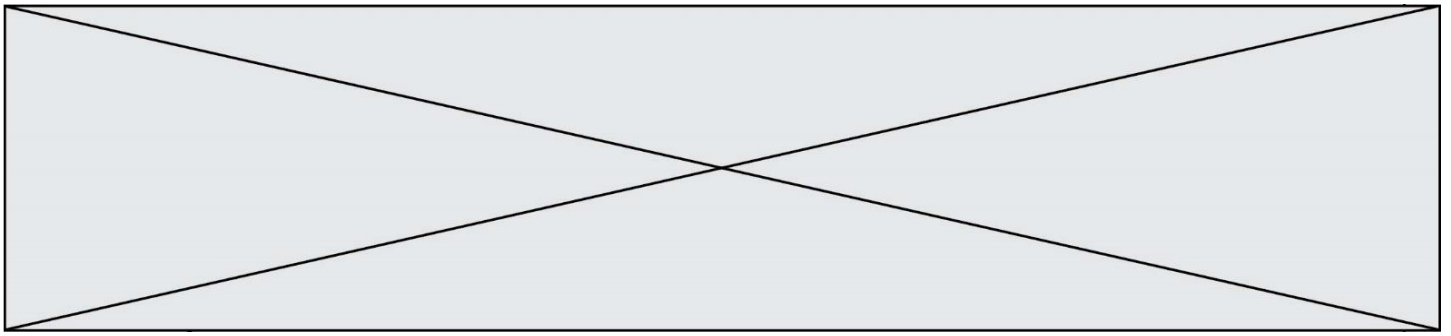


Figure B – Spectre correspondant au mi4 joué par la guitare



- 7- À l'aide du document 4, montrer que le niveau sonore reçu par ce guitariste est proche de 100 dB.

Document 4 – Puissance, intensité et niveau sonore

L'intensité sonore I est la puissance P de la vibration sonore reçue par unité de surface S :

$$I = \frac{P}{S} \quad \text{Avec : } P \text{ en watt (W) ; } S \text{ en m}^2 ; I \text{ en W.m}^{-2}$$

Pour une intensité sonore I donnée, le niveau sonore L exprimé en décibels (dB) est déterminé par la formule :

$$L = 10 \times \log\left(\frac{I}{I_0}\right) \quad \text{Avec : } L \text{ en décibels (dB) ; } I \text{ en W.m}^{-2}$$

I_0 est l'intensité correspondant au seuil d'audibilité : $I_0 = 10^{-12} \text{ W.m}^{-2}$.

Ce guitariste désire préserver son audition tout en préservant une bonne qualité sonore.

- 8- À partir de l'étude des documents 2 et 3, indiquer quel type de bouchons choisir et argumenter ce choix.