



## Exercice 1 – Niveau première

Thème « Le Soleil, notre source d'énergie »

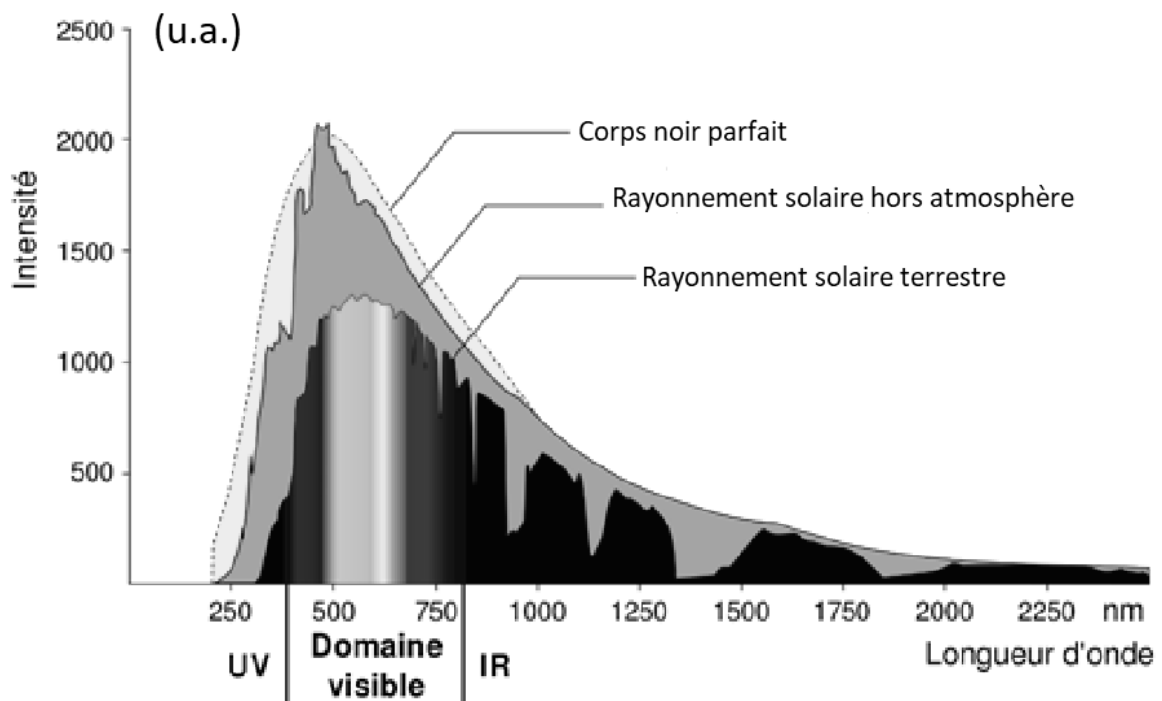
### Le Soleil, source de vie sur Terre ?

Sur 10 points

Le Soleil émet un rayonnement électromagnétique dans toutes les directions ; une partie de ce rayonnement est reçue par la Terre et constitue une source d'énergie essentielle à la vie. De même, l'atmosphère terrestre contribue à créer des conditions propices à la vie sur Terre.

#### Partie 1 – Le rayonnement solaire

Document 1 – Spectre du rayonnement émis par le Soleil en fonction de la longueur d'onde



Source : D'après [https://www.ilephysique.net/img/forum\\_img/0258/forum\\_258713\\_1.jpg](https://www.ilephysique.net/img/forum_img/0258/forum_258713_1.jpg)

Modèle CCYC : ©DNE

Nom de famille (naissance) :


(Suivi s'il y a lieu, du nom d'usage)

Prénom(s) :

N° candidat :  N° d'inscription :

(Les numéros figurent sur la convocation.)

Né(e) le :  /  /



1.1

La relation entre la température en degrés Celsius  $\theta$  ( $^{\circ}\text{C}$ ) et la température absolue  $T$  en kelvins (K) est :  $T(\text{K}) = 273 + \theta(^{\circ}\text{C})$ .

Le Soleil peut être modélisé par un corps noir, qui émet un rayonnement thermique correspondant à une température d'environ 5800 K.

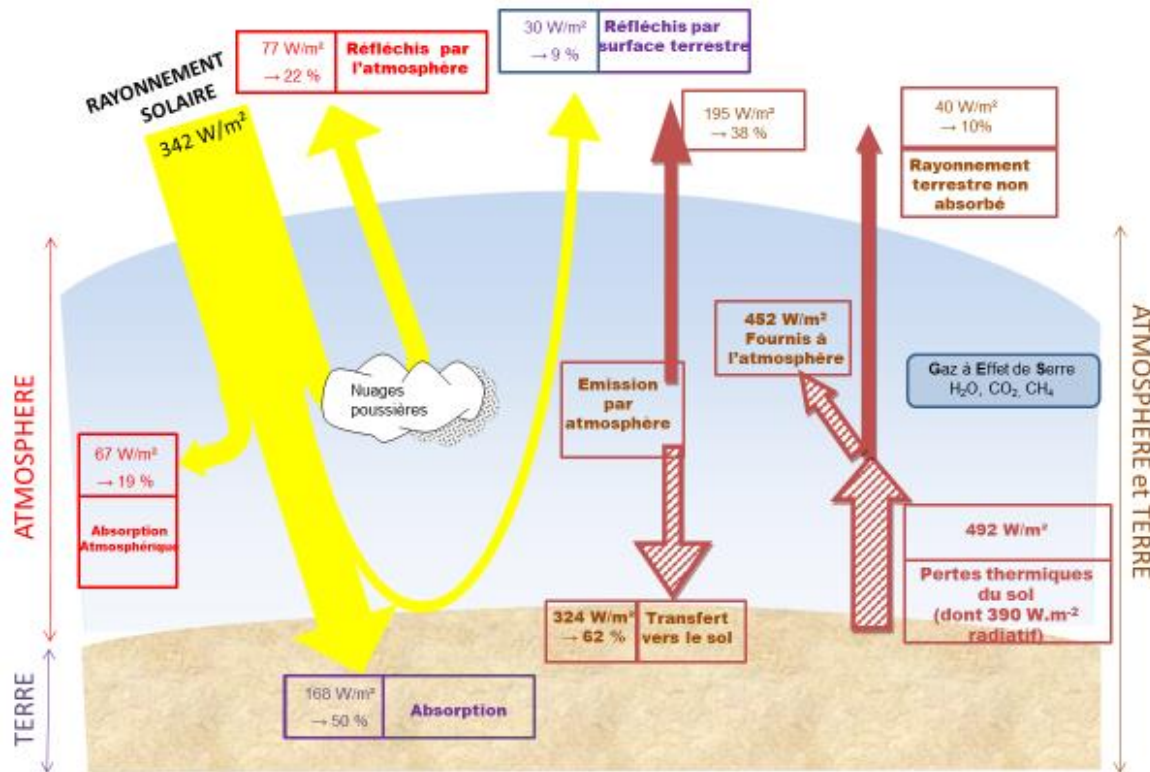
La loi de Wien est la relation entre la température de surface  $T$  d'un corps et la longueur d'onde  $\lambda_{\text{max}}$  au maximum d'émission :

$$\lambda_{\text{max}} \times T = 2,90 \times 10^{-3} \text{ m.K} \quad \text{avec } T \text{ en kelvins et } \lambda_{\text{max}} \text{ en mètres.}$$

- 1- Déterminer approximativement, à partir du document 1, la valeur de la longueur d'onde correspondant au maximum d'intensité du rayonnement solaire hors atmosphère.
- 2- Justifier par un calcul que dans l'hypothèse où le soleil est modélisé par un corps noir, sa température de surface est voisine de 5800 K.
- 3- Définir l'albédo terrestre évoqué dans le document 2 page suivante à l'aide de vos connaissances.
- 4- À partir des valeurs indiquées dans le document 2, montrer que le bilan énergétique à la surface de la Terre est équilibré, autrement dit que la puissance que la Terre reçoit est égale à celle qu'elle fournit à l'extérieur. Montrer que cela est également le cas pour le système global Terre-atmosphère.



## Document 2 – Schéma du bilan énergétique terrestre



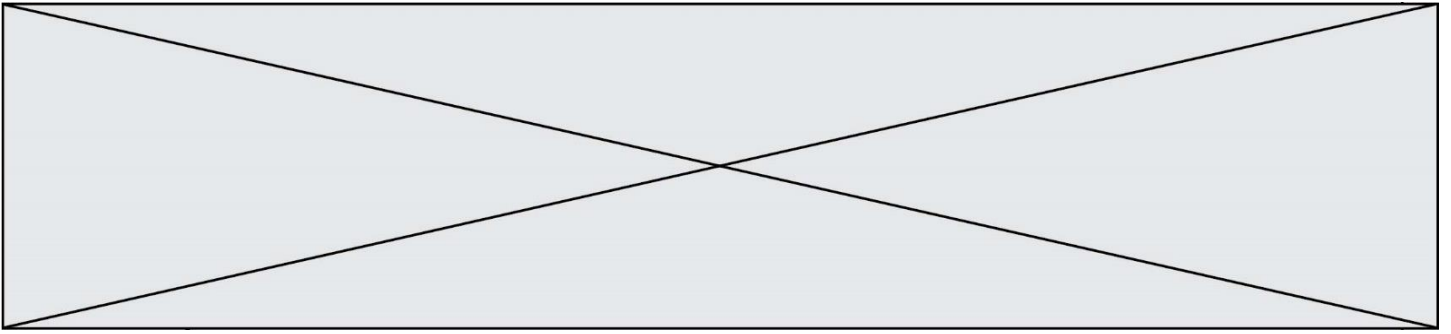
Le schéma précédent présente les flux énergétiques émis, diffusés et réfléchis par les différentes parties de l'atmosphère. L'albédo terrestre moyen est de 30 %.

Les flèches pleines correspondent à des transferts radiatifs. Les flèches hachurées correspondent à des transferts mixtes- radiatifs et non radiatifs.

Sont précisés : les puissances par unité de surface associées à chaque transfert et le pourcentage qu'elles représentent relativement à la puissance solaire incidente (342 W·m<sup>-2</sup>).

Source : Document créé par l'auteur





**5-2-** Dans la cellule, l'énergie solaire captée par les pigments photosynthétiques :

- a- permet la synthèse de la matière minérale.
- b- permet la synthèse de la matière organique.
- c- permet la consommation de matière organique.
- d- permet la consommation de dioxygène.

**5-3-** L'être humain est dépendant de l'énergie solaire utilisée par les plantes pour son fonctionnement car, en présence de lumière et lors de la photosynthèse, les plantes produisent :

- a- matière organique et  $O_2$ .
- b- matière organique et  $CO_2$ .
- c- matière minérale et  $O_2$ .
- d- matière minérale et  $CO_2$ .