



Exercice 1 – Niveau première

Thème « Le Soleil, notre source d'énergie »

Températures de surface de la Terre et du Soleil

Sur 10 points

Partie 1 – Origine de l'énergie solaire

La Terre reçoit l'essentiel de son énergie du soleil. Cette énergie conditionne sa température de surface.

- 1- Préciser le phénomène physique à l'origine de l'énergie dégagée par le soleil.
- 2- A partir de la relation d'Einstein : $E = \Delta m \times c^2$, calculer la masse solaire transformée chaque seconde en énergie, sachant que l'énergie émise chaque seconde par le soleil a pour valeur $3,9 \times 10^{26}$ J.

Donnée : vitesse de la lumière dans le vide $c = 3,0 \times 10^8$ m·s⁻¹

Partie 2 – Température de surface du Soleil

L'étude du spectre du rayonnement émis par le Soleil, que l'on peut modéliser comme un spectre de corps noir, permet de déterminer la température de la surface du Soleil.

À l'aide du document 1 fourni sur la page ci-après, répondre aux questions 3 à 5 :

- 3- Déterminer les longueurs d'ondes correspondant au maximum d'émission pour les températures de 4000 K, 5000 K et 6000 K. Décrire qualitativement l'évolution de la longueur d'onde au maximum d'émission en fonction de la température du corps.
- 4- Justifier à partir de la valeur de la longueur d'onde d'émission maximale du spectre solaire que la température du Soleil est comprise entre 5500 K et 6000 K.

Modèle CCYC : ©DNE

Nom de famille (naissance) :

(Suivi s'il y a lieu, du nom d'usage)

Prénom(s) :

N° candidat :

N° d'inscription :



Né(e) le :

(Les numéros figurent sur la convocation.)

1.1

Document 1 – Spectres d'émission

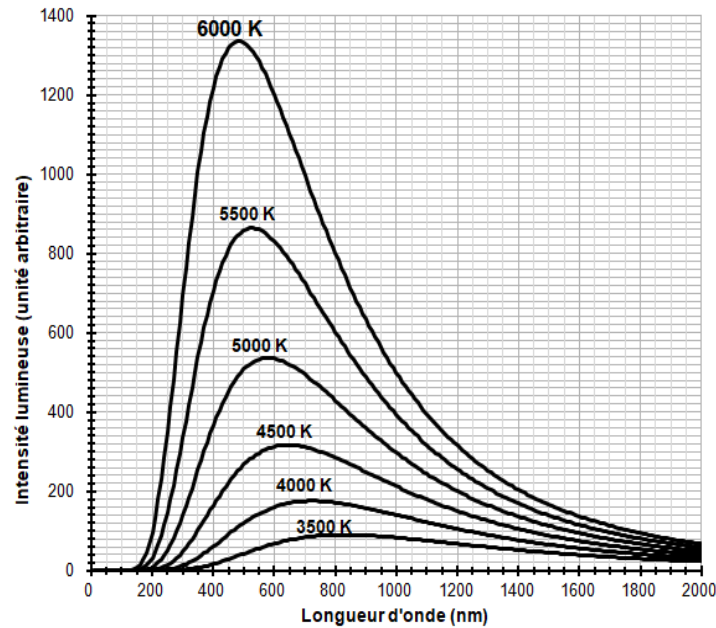


Figure 1a : spectres d'émission du corps noir à différentes températures

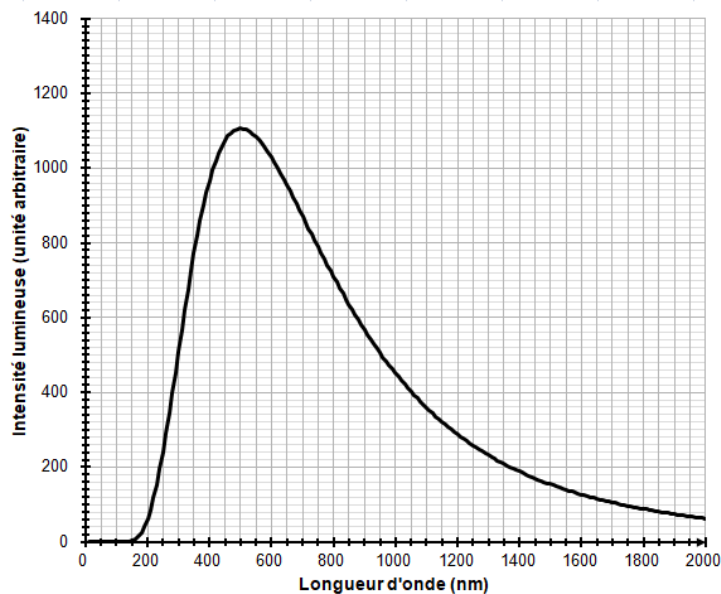
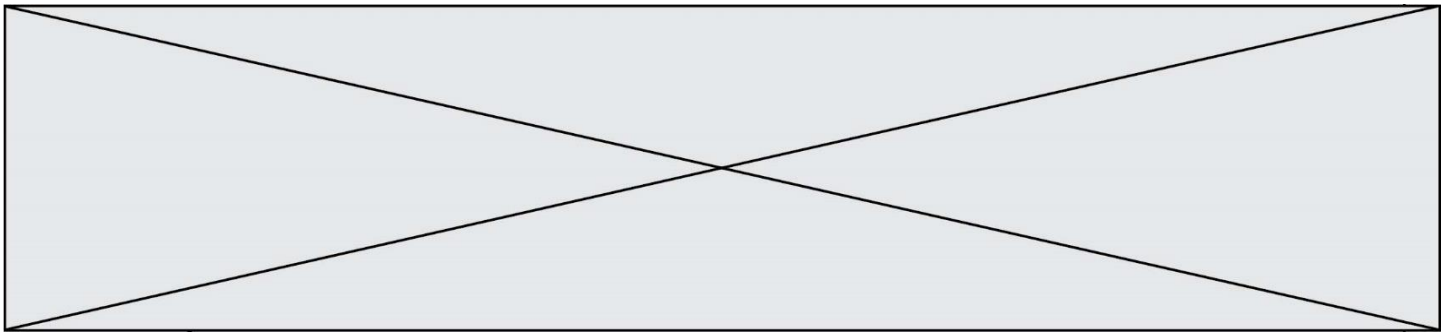


Figure 1b : modèle du spectre d'émission du soleil.



La température de surface du Soleil peut être déterminée plus précisément à partir de la loi de Wien. Cette loi permet de déterminer la température d'un corps noir à partir de la longueur d'onde λ_{max} de son maximum d'émission par la relation :

$$\lambda_{max} = \frac{k}{T}$$

avec :

T : température du corps noir, en kelvins (K)

k : constante égale à $2,898 \times 10^{-3} \text{ m} \cdot \text{K}$

- 5- En considérant que le Soleil se comporte comme un corps noir, déterminer sa température de surface T à partir de la loi de Wien.

Partie 3 – Énergie solaire et albedo

L'albedo est un paramètre influençant la température de surface de la Terre

- 6- Sachant que l'albedo terrestre est en moyenne égal à 0,30 et que la puissance surfacique transportée par la lumière solaire vers la surface de la Terre est en moyenne de $342 \text{ W} \cdot \text{m}^{-2}$, calculer la puissance surfacique solaire moyenne absorbée par le sol terrestre.
- 7- Actuellement l'albedo moyen terrestre tend à diminuer. Préciser, en justifiant votre réponse, si cette diminution conduit à une augmentation ou une diminution de la température moyenne à la surface de la Terre.